

Prénom :

Numération

Pose et effectue les opérations sur cette feuille à redonner + complète les multiplications.

Lundi	mardi	mercredi	jeudi	vendredi
$34 + 42$ $47 + 36$ $134 + 42 + 8$ $276 + 16 + 201$	$77 - 6$ $42 - 13$ $156 - 48$ $324 - 175$	$48 + 75$ $51 + 99$ $8 + 12 + 271$ $14 + 2718$	$55 - 47$ $52 - 26$ $70 - 35$ $200 - 143$	$400 + 300 + 200$ $304 + 205$ $111 + 222 + 333 + 444$ $600 + = 1000$
$2 \times 6 =$ $5 \times 4 =$ $3 \times 2 =$ $2 \times 8 =$ $10 \times 2 =$ $7 \times 10 =$	$4 \times 3 =$ $2 \times 7 =$ $10 \times 9 =$ $3 \times 5 =$ $3 \times 10 =$ $5 \times 10 =$	$2 \times 2 =$ $2 \times 10 =$ $5 \times 6 =$ $3 \times = 9$ $2 \times = 6$ $10 \times = 100$	$2 \times = 12$ $2 \times = 20$ $5 \times = 20$ $2 \times = 18$ $10 \times = 50$ $5 \times = 35$	$5 \times 8 =$ $10 \times 8 =$ $2 \times 8 =$ $4 \times 5 =$ $3 \times 10 =$ $5 \times 10 =$

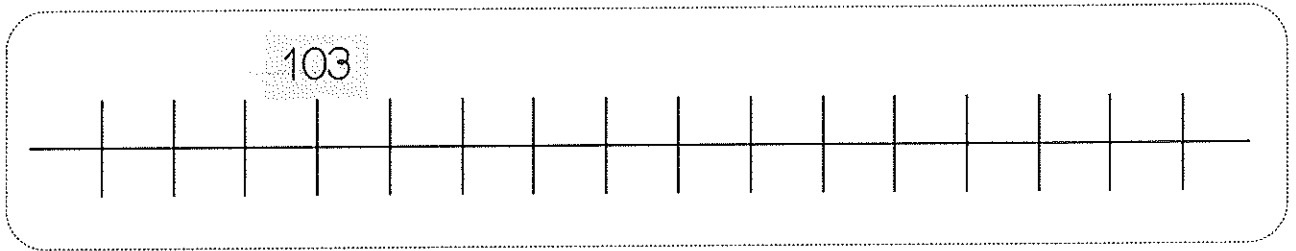


Numération

Les nombres de 0 à 199

1 Place les nombres suivants sur la ligne graduée :

110 - 105 - 115 - 108 - 100



2 Relie les nombres écrits en chiffres à leur écriture en lettres.



148 •

188 •

108 •

178 •

198 •

• cent-soixante-dix-huit

• cent-huit

• cent-quarante-huit

• cent-quatre-vingt-dix-huit

• cent-quatre-vingt-huit

3 Ecris ces nombres en lettres.

175 : _____

102 : _____

180 : _____



4 Colorie de la même couleur les amis de 100.

100

60

70

10

50

20

90

0


50

80

40

30

Prénom :



Numération

Fiche 2

Les nombres de 0 à 199

1 Relie les nombres écrits en chiffres à leur écriture en lettres.



127 •

158 •

115 •

103 •

192 •

• cent-trois

• cent-vingt-sept

• cent-quatre-vingt-douze

• cent-cinquante-huit

• cent-quinze

2 Écris ces nombres en lettres.

165 : _____

112 : _____

129 : _____

3 Écris ces nombres en chiffres.

cent-vingt-quatre : _____

cent-soixante-six : _____

cent-neuf : _____

cent-cinquante-deux : _____

cent-quatre-vingt-six : _____

cent-soixante-dix-sept : _____



4 Colorie le bon nombre de centaines, de dizaines et le bon nombre d'unités.



100 100 100 100 100 100 100 100 100

10 10 10 10 10 10 10 10 10

0 0
0 0
0 0


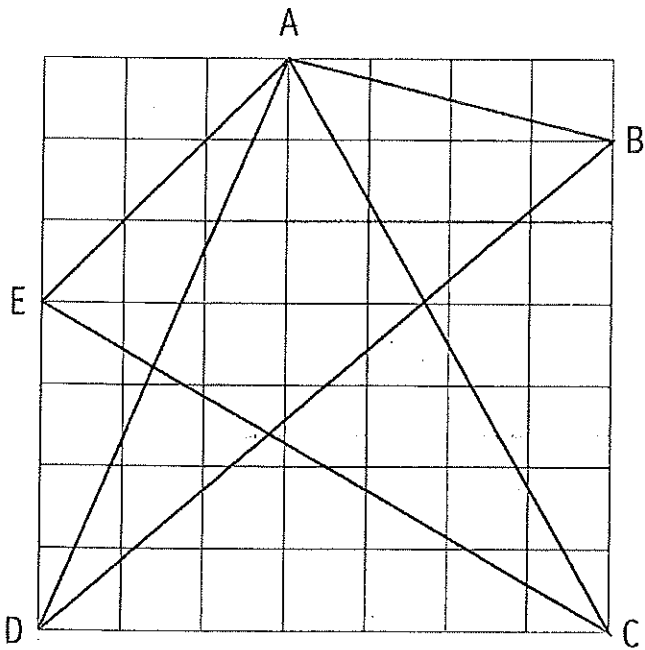


100 100 100 100 100 100 100 100 100


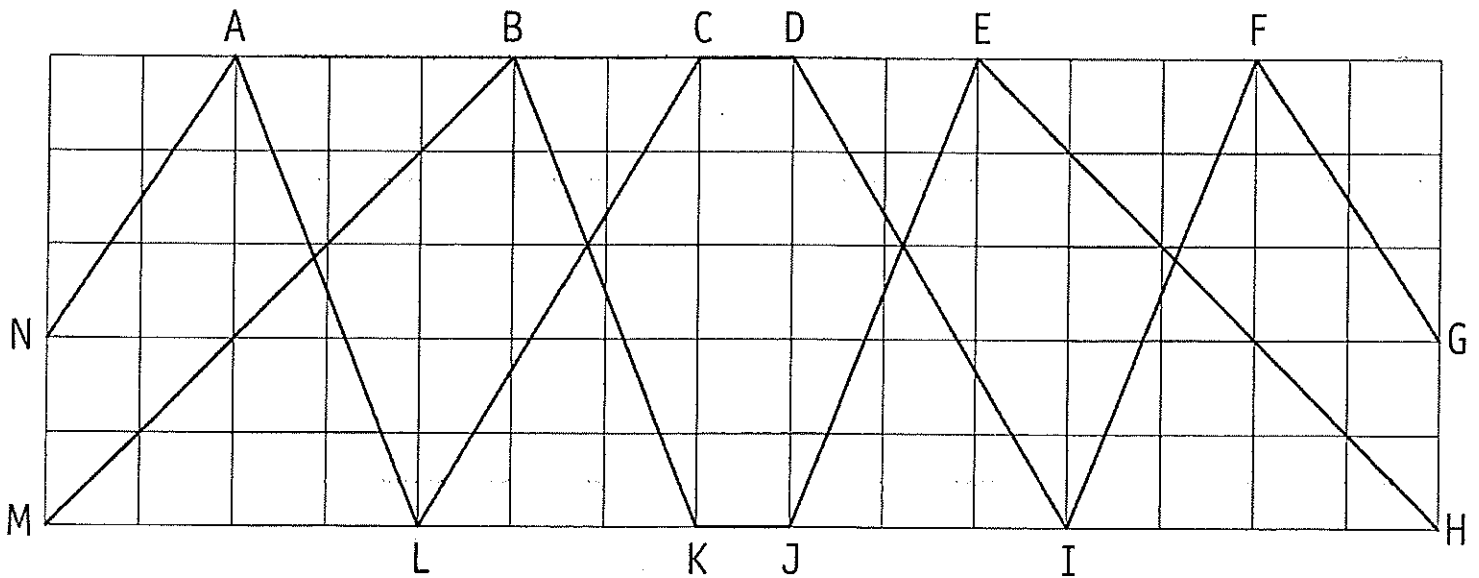
10 10 10 10 10 10 10 10 10

0 0
0 0
0 0


① Reproduis cette figure sur le quadrillage de droite.



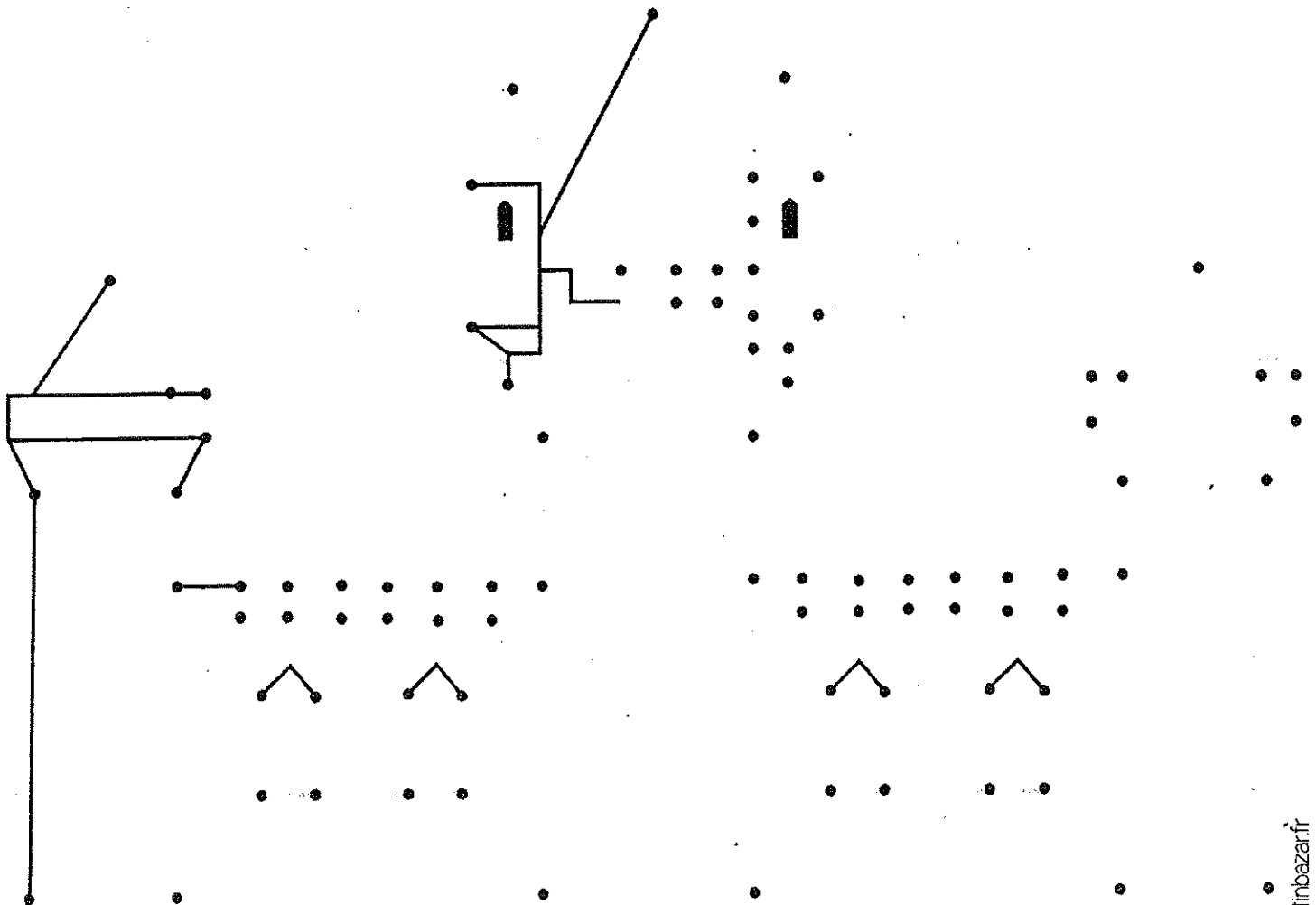
② Reproduis cette figure sur le quadrillage au-dessous.



1 Observe ce modèle de château.



2 Complète avec ta règle pour que ce château soit identique au modèle.



Exercice 1

Dessine les billets et les pièces nécessaires pour trouver les sommes d'argent suivantes.
(Essaie d'utiliser le moins de billets et de pièces possible.)
Noter la valeur des pièces dans des ronds et la valeur des billets dans des rectangles.
(Penser à écrire le symbole €)

18 €

35 €

72 €

99 €

Exercice 2

Dessine les pièces nécessaires pour trouver les sommes d'argent suivantes.
(Essaie d'utiliser le moins de pièces possible.)

13 centimes

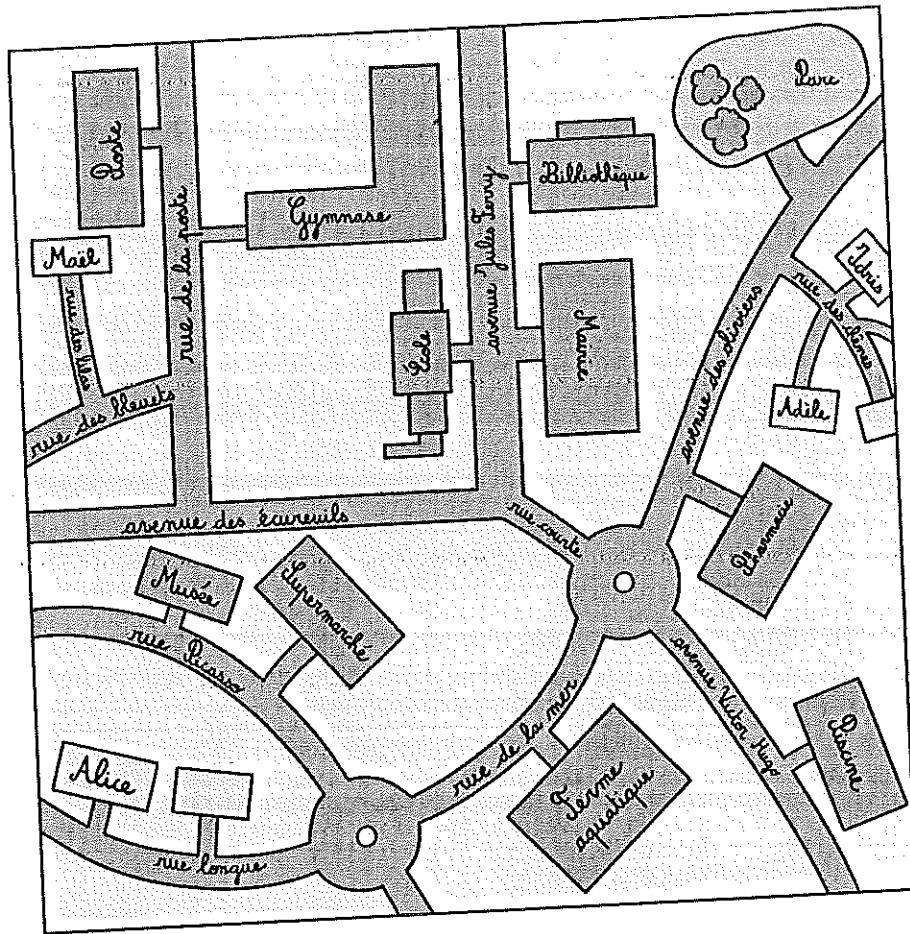
45 centimes

81 centimes


99 centimes

🔍 J'observe

Pour se déplacer sur le plan, il faut situer l'endroit exact où on se trouve, puis le lieu où on veut aller. On lit le nom de chaque rue et on repère les bâtiments.



Je suis chez Alice, nous partons à la ferme aquatique.




Tournons à gauche en sortant. Au rond-point, allons tout droit pour rejoindre la rue de la mer. La ferme aquatique se trouve sur la droite.



- 1 Utilise les mots suivants pour décrire le trajet de la maison de Maël au gymnase.


gauche – lilas – bleuets – poste – droite – gauche



J'avance tout droit, rue des _____.
Je tourne à _____, puis j'avance rue
des _____. Arrivé au bout de cette rue,
je tourne à _____ et je remonte
la rue de la _____. Je tourne à
_____. Ça y est, je suis arrivé au gymnase !

- 2 Lis le trajet d'Alice qui rentre de l'école, puis trace-le en noir sur le plan page 118.

Pour rentrer de l'école, je tourne à droite sur l'avenue Jules Ferry. Au bout de la rue, je tourne à gauche et je prends la rue courte. Au premier rond-point, je tourne à droite et je prends la rue de la mer. Au deuxième rond-point, je vais tout droit pour rejoindre la rue longue, où se trouve ma maison !



- 3 Idris est chez lui. Il veut aller à la piscine. Observe le plan page 118, puis décris son trajet en quelques lignes.
