

Prénom :

Date :

Séance **21** Addition sans retenue (3)

1 Résous chaque problème. Tu peux faire un dessin pour t'aider.

a) Roxane a vendu 50 poissons cet après-midi.
Elle a ensuite vendu 27 poissons dans la soirée.
Combien de poissons a-t-elle vendus en tout ?

+	

50 + 27 =

Roxane a vendu poissons en tout.

b) Anna a 214 perles.
Sa sœur en a 45 de plus.
Combien de perles la sœur d'Anna a-t-elle ?

+	

La sœur d'Anna a perles.

Prénom :

Date :

- c) Il y avait 353 garçons à la foire du livre.
416 filles s'y trouvaient aussi.
Combien d'enfants y avait-il en tout ?

Il y avait enfants en tout.

- d) Au magasin de jouets, 521 petites voitures
ont été vendues.
Il en reste 76.
Combien de petites voitures y avait-il
au début dans le magasin ?

Il y avait petites voitures au début
dans le magasin.

Prénom :

Date :

Séance

22

Soustrayons sans retenue (1)

1 a) Soustrais.

$$\begin{array}{r} 89 \\ - 32 \\ \hline \square \end{array}$$

$$\begin{array}{r} 86 \\ - 73 \\ \hline \square \end{array}$$

$$\begin{array}{r} 79 \\ - 71 \\ \hline \square \end{array}$$

$$\begin{array}{r} 45 \\ - 25 \\ \hline \square \end{array}$$

$$\begin{array}{r} 79 \\ - 53 \\ \hline \square \end{array}$$

$$\begin{array}{r} 89 \\ - 40 \\ \hline \square \end{array}$$

$$\begin{array}{r} 96 \\ - 62 \\ \hline \square \end{array}$$

$$\begin{array}{r} 59 \\ - 14 \\ \hline \square \end{array}$$

$$\begin{array}{r} 63 \\ - 21 \\ \hline \square \end{array}$$

b) Colorie les cases contenant les résultats de tes calculs pour aider le lapin à rejoindre son terrier.

79 57 42 20 16

43 45 67 13 49

8 34 55 52 26

Prénom : Date :

Séance 23 soustraction sans retenue (2)

1 Soustrais.

a) $74 - 30 = \square$

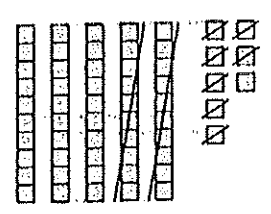
b) $74 - 3 = \square$

c) $431 - 200 = \square$

d) $431 - 20 = \square$

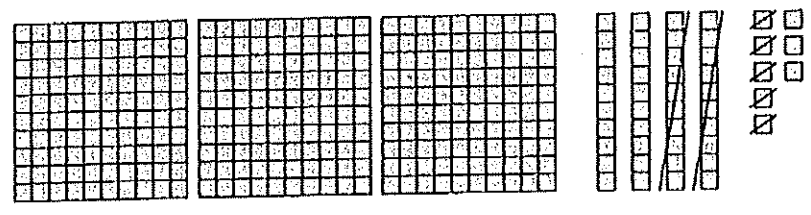
2 Utilise des pour soustraire.

a) $58 - 27 = \square$



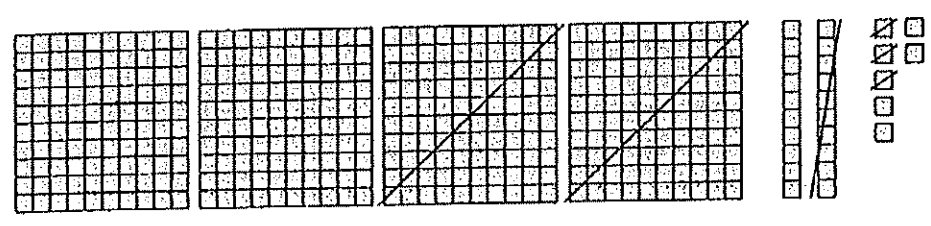
$$\begin{array}{r} 58 \\ - 27 \\ \hline \square \end{array}$$

b) $348 - 25 = \square$



$$\begin{array}{r} 348 \\ - 25 \\ \hline \square \end{array}$$

c) $427 - 213 = \square$



$$\begin{array}{r} 427 \\ - 213 \\ \hline \square \end{array}$$

Prénom :

Date :

3 Complète les soustractions.

$89 - 36 = \square$

$$\begin{array}{r} 89 \\ - 36 \\ \hline \square \end{array}$$

$358 - 40 = \square$

$$\begin{array}{r} 358 \\ - 40 \\ \hline \square \end{array}$$

$879 - 259 = \square$

$$\begin{array}{r} \square \\ - \square \\ \hline \square \end{array}$$

$909 - 403 = \square$

$$\begin{array}{r} \square \\ - \square \\ \hline \square \end{array}$$

$244 - 110 = \square$

$$\begin{array}{r} \square \\ - \square \\ \hline \square \end{array}$$

$339 - 305 = \square$

$$\begin{array}{r} \square \\ - \square \\ \hline \square \end{array}$$

Séance **24** Soustraction sans retenue (3)

1) Résous chaque problème. Tu peux faire un dessin pour t'aider.

a) 76 personnes ont assisté à un concert.
51 d'entre elles étaient des adultes.
Combien d'enfants y avait-il au concert ?

$76 - 51 = \square$

Il y avait enfants au concert.

b) Nora a 168 billes.
Tom en a 58 de moins.
Combien de billes Tom a-t-il ?

Tom a billes.

Prénom : Date :

- b) Le boulanger a fait 486 croissants.
Il en a vendu 314.
Combien de croissants lui reste-t-il ?

Il lui reste croissants.

- c) Dans une école primaire, il y a 139 filles
et 114 garçons.
Combien de filles y a-t-il de plus
que de garçons ?

Il y a filles de plus que de garçons.