

19 Séance **Additionnons sans retenue (1)**

1 a) Additionne.

$$\begin{array}{r} 41 \\ + 57 \\ \hline \square \\ \text{A} \end{array}$$

$$\begin{array}{r} 84 \\ + 12 \\ \hline \square \\ \text{T} \end{array}$$

$$\begin{array}{r} 30 \\ + 57 \\ \hline \square \\ \text{R} \end{array}$$

$$\begin{array}{r} 32 \\ + 43 \\ \hline \square \\ \text{U} \end{array}$$

$$\begin{array}{r} 65 \\ + 24 \\ \hline \square \\ \text{I} \end{array}$$

$$\begin{array}{r} 10 \\ + 46 \\ \hline \square \\ \text{E} \end{array}$$

$$\begin{array}{r} 22 \\ + 73 \\ \hline \square \\ \text{N} \end{array}$$

$$\begin{array}{r} 61 \\ + 27 \\ \hline \square \\ \text{D} \end{array}$$

$$\begin{array}{r} 30 \\ + 25 \\ \hline \square \\ \text{C} \end{array}$$

$$\begin{array}{r} 46 \\ + 23 \\ \hline \square \\ \text{O} \end{array}$$

$$\begin{array}{r} 41 \\ + 30 \\ \hline \square \\ \text{L} \end{array}$$

b) Que fait la vache quand elle réfléchit ?

Écris dans la grille ci-dessous les lettres qui correspondent aux résultats trouvés en a). Tu y découvriras la réponse.

88	75

71	98	89	96

55	69	95	55	56	95	96	87	56

Séance 20 Additionnons sans retenue (2)

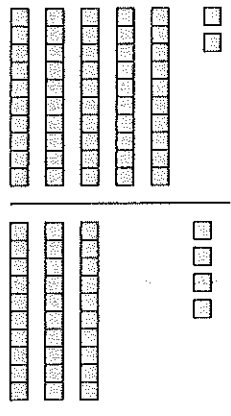
1 Additionne.

a) $48 + 20 =$

b) $121 + 500 =$

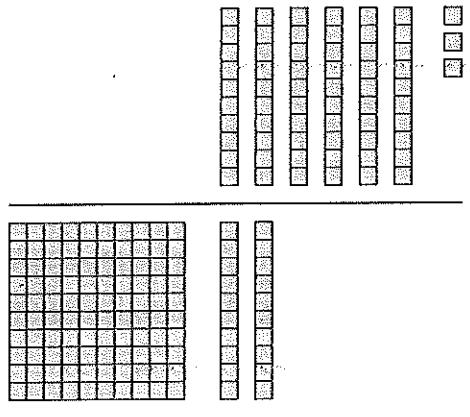
2 Utilise des pour additionner.

a) $52 + 34 =$




$$\begin{array}{r} 52 \\ + 34 \\ \hline \end{array}$$

b) $63 + 120 =$



$$\begin{array}{r} 63 \\ + 120 \\ \hline \end{array}$$

c) $135 + 103 =$



$$\begin{array}{r} 135 \\ + 103 \\ \hline \end{array}$$

3 Complète les additions.

$43 + 56 = \square$

$$\begin{array}{r} 43 \\ + 56 \\ \hline \square \end{array}$$

$106 + 82 = \square$

$$\begin{array}{r} 106 \\ + 82 \\ \hline \square \end{array}$$

$30 + 431 = \square$

$$\begin{array}{r} \square \\ + \square \\ \hline \square \end{array}$$

$215 + 763 = \square$

$$\begin{array}{r} \square \\ + \square \\ \hline \square \end{array}$$

$163 + 424 = \square$

$$\begin{array}{r} \square \\ + \square \\ \hline \square \end{array}$$

$441 + 128 = \square$

$$\begin{array}{r} \square \\ + \square \\ \hline \square \end{array}$$

Séance **21** Additionnons sans retenue (3)

1 Résous chaque problème. Tu peux faire un dessin pour t'aider.

a) Roxane a vendu 50 poissons cet après-midi.
Elle a ensuite vendu 27 poissons dans la soirée.
Combien de poissons a-t-elle vendus en tout ?

+	

$50 + 27 = \square$

Roxane a vendu \square poissons en tout.

b) Anna a 214 perles.
Sa sœur en a 45 de plus.
Combien de perles la sœur d'Anna a-t-elle ?

+	

La sœur d'Anna a \square perles.

Séance **21** Additionnons sans retenue (3)

1 Résous chaque problème. Tu peux faire un dessin pour t'aider.

a) Roxane a vendu 50 poissons cet après-midi.
Elle a ensuite vendu 27 poissons dans la soirée.
Combien de poissons a-t-elle vendus en tout ?

+	
—	

50 + 27 =

Roxane a vendu poissons en tout.

b) Anna a 214 perles.
Sa sœur en a 45 de plus.
Combien de perles la sœur d'Anna a-t-elle ?

+	
—	

La sœur d'Anna a perles.

Prénom :

Date :

- c) Il y avait 353 garçons à la foire du livre.
416 filles s'y trouvaient aussi.
Combien d'enfants y avait-il en tout ?

Il y avait enfants en tout.

- d) Au magasin de jouets, 521 petites voitures
ont été vendues.
Il en reste 76.
Combien de petites voitures y avait-il
au début dans le magasin ?

Il y avait petites voitures au début
dans le magasin.

Séance 22 Soustrayons sans retenue (1)

1 a) Soustrais.

$$\begin{array}{r} 89 \\ - 32 \\ \hline \square \end{array}$$

$$\begin{array}{r} 86 \\ - 73 \\ \hline \square \end{array}$$

$$\begin{array}{r} 79 \\ - 71 \\ \hline \square \end{array}$$

$$\begin{array}{r} 45 \\ - 25 \\ \hline \square \end{array}$$

$$\begin{array}{r} 79 \\ - 53 \\ \hline \square \end{array}$$

$$\begin{array}{r} 89 \\ - 40 \\ \hline \square \end{array}$$

$$\begin{array}{r} 96 \\ - 62 \\ \hline \square \end{array}$$

$$\begin{array}{r} 59 \\ - 14 \\ \hline \square \end{array}$$

$$\begin{array}{r} 63 \\ - 21 \\ \hline \square \end{array}$$

b) Colorie les cases contenant les résultats de tes calculs pour aider le lapin à rejoindre son terrier.

Séance 23 Soustrayons sans retenue (2)

1 Soustrais.

a) $74 - 30 = \square$

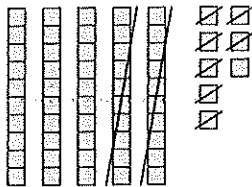
b) $74 - 3 = \square$

c) $431 - 200 = \square$

d) $431 - 20 = \square$

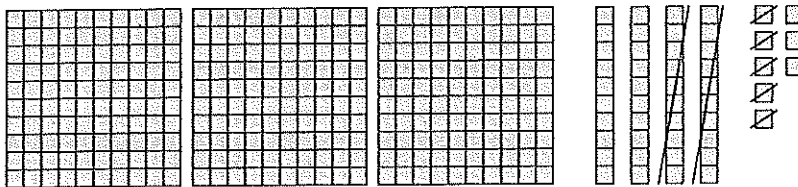
2 Utilise des pour soustraire.

a) $58 - 27 = \square$



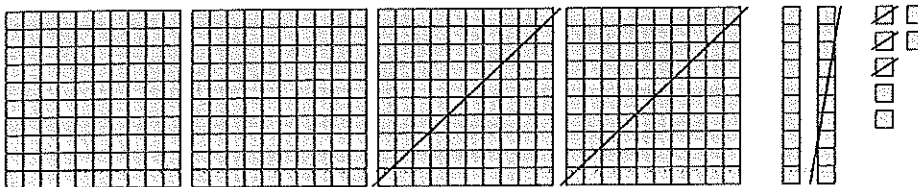
$$\begin{array}{r} 58 \\ - 27 \\ \hline \square \end{array}$$

b) $348 - 25 = \square$



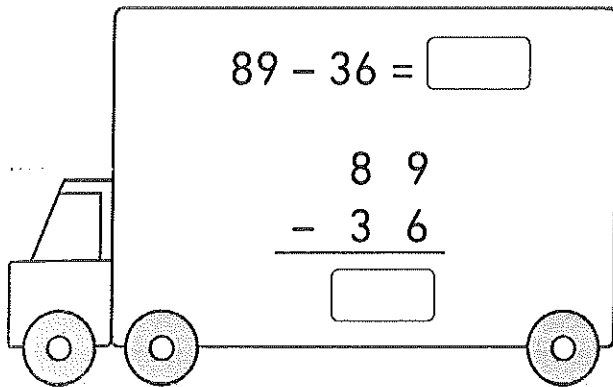
$$\begin{array}{r} 348 \\ - 25 \\ \hline \square \end{array}$$

c) $427 - 213 = \square$



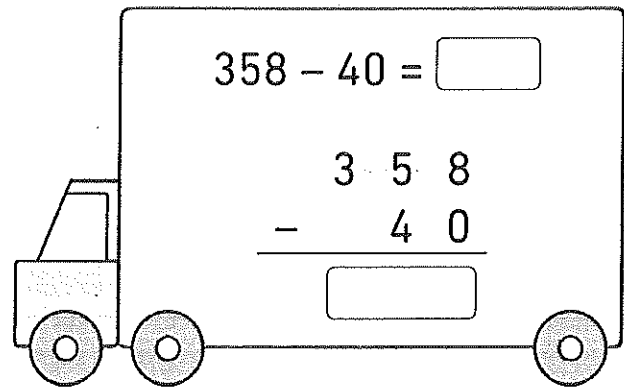
$$\begin{array}{r} 427 \\ - 213 \\ \hline \square \end{array}$$

3 Complète les soustractions.



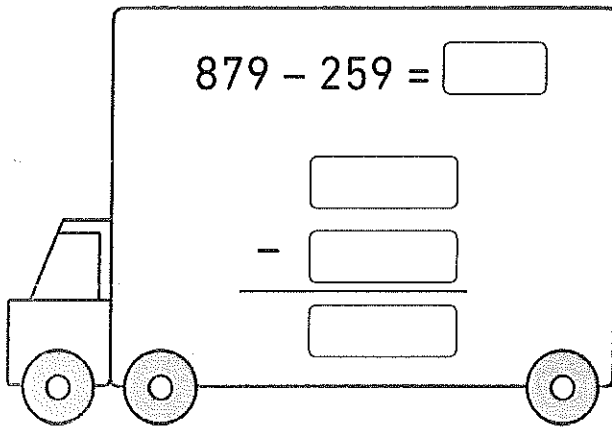
$89 - 36 = \square$

$$\begin{array}{r} 89 \\ - 36 \\ \hline \square \end{array}$$



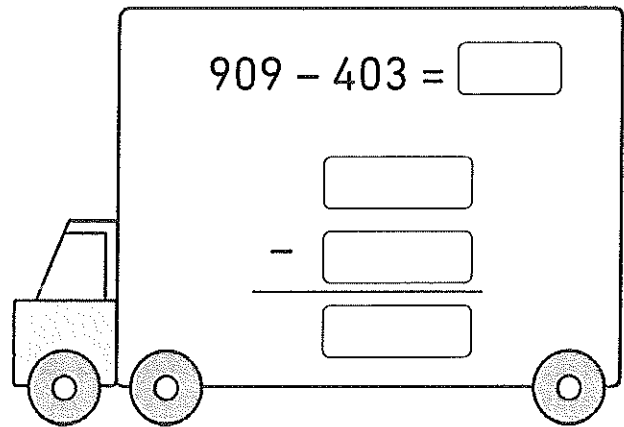
$358 - 40 = \square$

$$\begin{array}{r} 358 \\ - 40 \\ \hline \square \end{array}$$



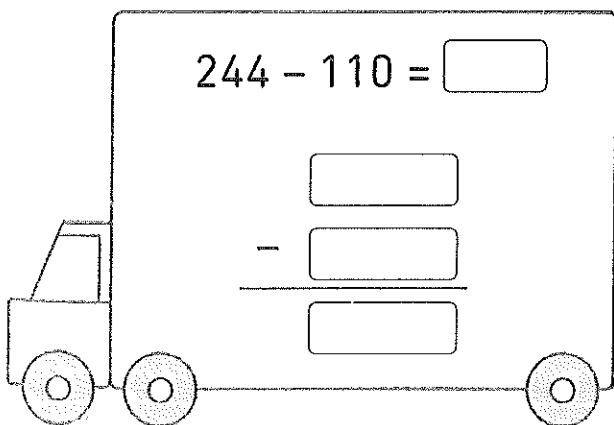
$879 - 259 = \square$

$$\begin{array}{r} \square \\ - \square \\ \hline \square \end{array}$$



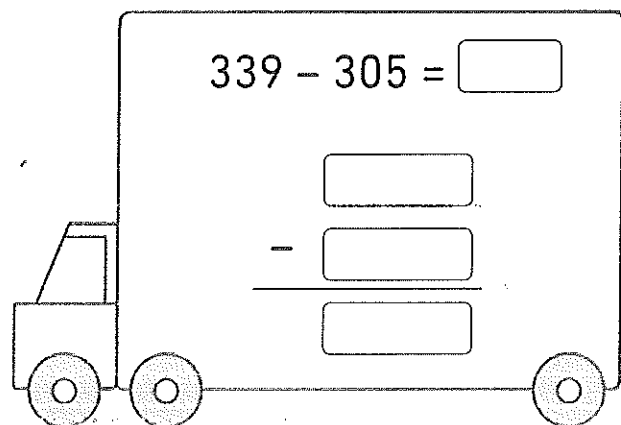
$909 - 403 = \square$

$$\begin{array}{r} \square \\ - \square \\ \hline \square \end{array}$$



$244 - 110 = \square$

$$\begin{array}{r} \square \\ - \square \\ \hline \square \end{array}$$



$339 - 305 = \square$

$$\begin{array}{r} \square \\ - \square \\ \hline \square \end{array}$$

Séance **24** Soustrayons sans retenue (3)

1 Résous chaque problème. Tu peux faire un dessin pour t'aider.

- a) 76 personnes ont assisté à un concert.
51 d'entre elles étaient des adultes.

Combien d'enfants y avait-il au concert ?

$$76 - 51 = \square$$

Il y avait enfants au concert.

-	

- b) Nora a 168 billes.
Tom en a 58 de moins.
Combien de billes Tom a-t-il ?

Tom a billes.

-	

- c) Le boulanger a fait 486 croissants.
Il en a vendu 314.
Combien de croissants lui reste-t-il ?

Il lui reste croissants.

- d) Dans une école primaire, il y a 139 filles
et 114 garçons.
Combien de filles y a-t-il de plus
que de garçons ?

Il y a filles de plus que de garçons.