

Prénom :

Numération

Pose et effectue les opérations sur cette feuille à redonner + complète les multiplications.

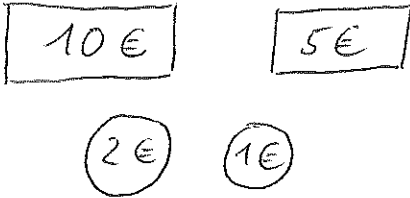
| Lundi | mardi | mercredi | jeudi | vendredi |
|---|---|---|--|---|
| $34 + 42 = 76$ $47 + 36 = 83$ $134 + 42 + 8 = 184$ $276 + 16 + 201 = 493$ | $77 - 6 = 71$ $42 - 13 = 29$ $156 - 48 = 108$ $324 - 175 = 149$ | $48 + 75 = 123$ $51 + 99 = 150$ $8 + 12 + 271 = 291$ $14 + 2718 = 59$ | $55 - 47 = 8$ $52 - 26 = 26$ $70 - 35 = 35$ $200 - 143 = 57$ | $400 + 300 + 200 = 900$ $304 + 205 = 509$ $111 + 222 + 333 + 444 = 1110$ $600 + = 1000$ 400 |
| $2 \times 6 = 12$ $5 \times 4 = 20$ $3 \times 2 = 6$ $2 \times 8 = 16$ $10 \times 2 = 20$ $7 \times 10 = 70$ | $4 \times 3 = 12$ $2 \times 7 = 14$ $10 \times 9 = 90$ $3 \times 5 = 15$ $3 \times 10 = 30$ $5 \times 10 = 50$ | $2 \times 2 = 4$ $2 \times 10 = 20$ $5 \times 6 = 30$ $3 \times 3 = 9$ $2 \times 3 = 6$ $10 \times 10 = 100$ | $2 \times 6 = 12$ $2 \times 10 = 20$ $5 \times 4 = 20$ $2 \times 9 = 18$ $10 \times 5 = 50$ $5 \times 7 = 35$ | $5 \times 8 = 40$ $10 \times 8 = 80$ $2 \times 8 = 16$ $4 \times 5 = 20$ $3 \times 10 = 30$ $5 \times 10 = 50$ |

Exercice 1

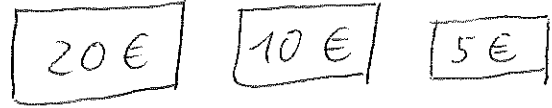
Dessine les billets et les pièces nécessaires pour trouver les sommes d'argent suivantes.
(Essaie d'utiliser le moins de billets et de pièces possible.)

Noter la valeur des pièces dans des ronds et la valeur des billets dans des rectangles.
(Penser à écrire le symbole €)

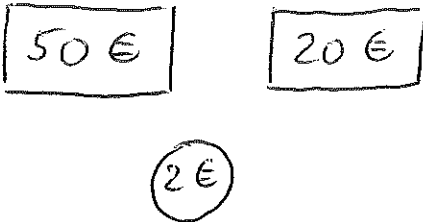
18 €



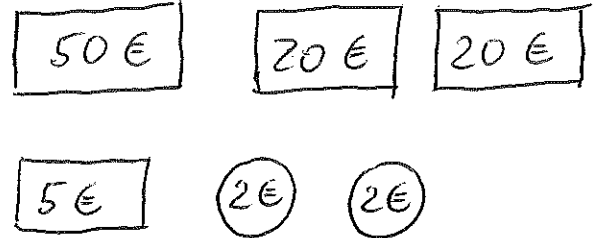
35 €



72 €



99 €



Exercice 2

Dessine les pièces nécessaires pour trouver les sommes d'argent suivantes.
(Essaie d'utiliser le moins de pièces possible.)

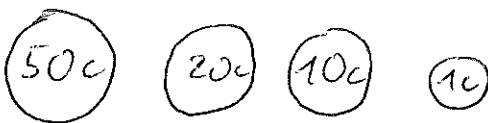
13 centimes



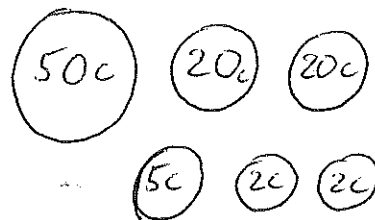
45 centimes



81 centimes



99 centimes



Prénom :



Numération

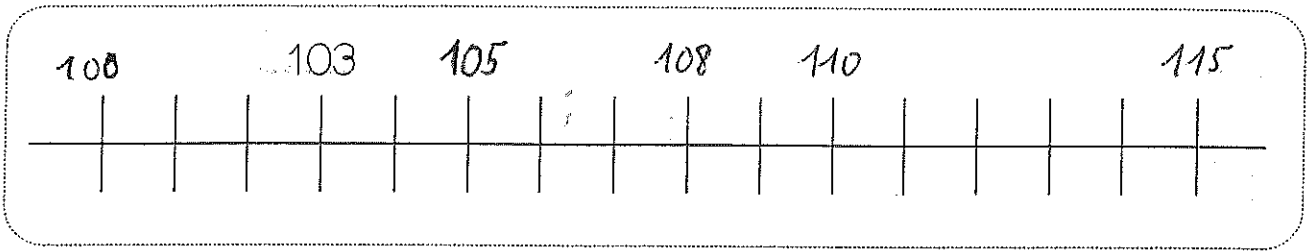
Fiche 1

Les nombres de 0 à 199

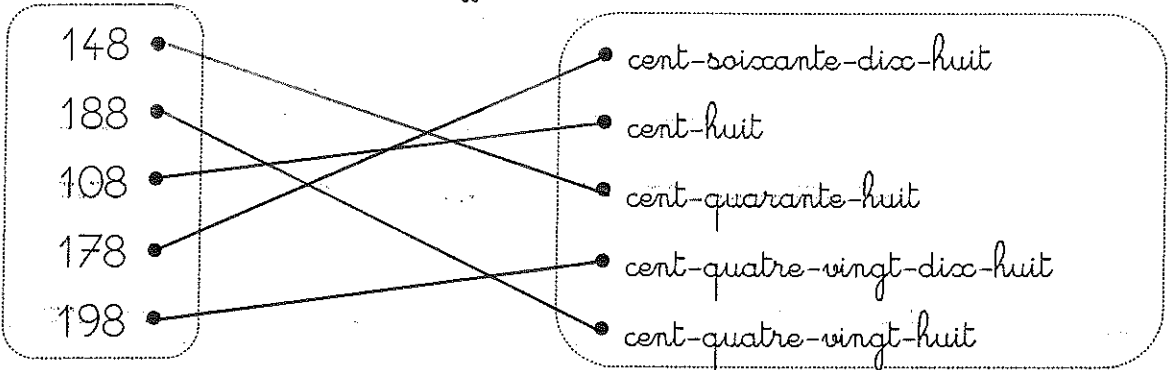


Place les nombres suivants sur la ligne graduée :

110 - 105 - 115 - 108 - 100



Relie les nombres écrits en chiffres à leur écriture en lettres.



Écris ces nombres en lettres.

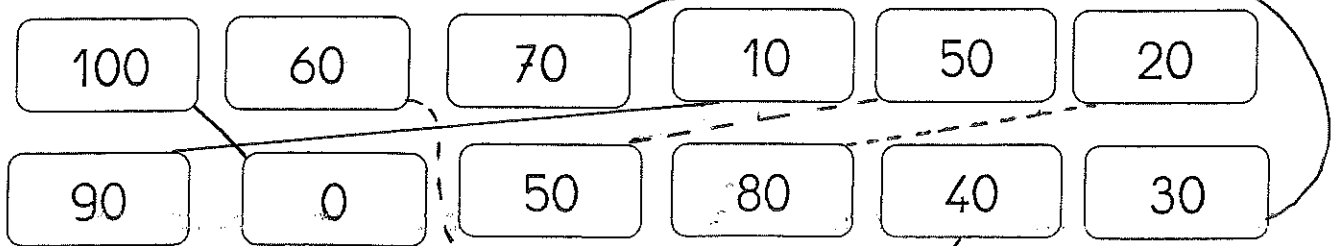
175 : cent-soixante-quinze

102 : cent-deux

180 : cent-quatre-vingts



Colorie de la même couleur les amis de 100.



Prénom :



Numération

Fiche 2

Les nombres de 0 à 199

Relie les nombres écrits en chiffres à leur écriture en lettres.



| | |
|-----|-------------------------|
| 127 | cent-trois |
| 158 | cent-vingt-sept |
| 115 | cent-quatre-vingt-douze |
| 103 | cent-cinquante-huit |
| 192 | cent-quinze |

Écris ces nombres en lettres.

165 : cent-soixante-cinq

112 : cent-douze

129 : cent-vingt-neuf

Écris ces nombres en chiffres.

cent-vingt-quatre : 124

cent-soixante-six : 166

cent-neuf : 109

cent-cinquante-deux : 152

cent-quatre-vingt-six : 146

cent-soixante-dix-sept : 167



Colorie le bon nombre de centaines, de dizaines et le bon nombre d'unités.

| | |
|---|---|
| <p>176</p> <p>100 100 100 100 100 100 100 100 100</p> <p>10 10 10 10 10 10 10 10 10</p> <p>•• ••</p> <p>•• ••</p> | <p>159</p> <p>100 100 100 100 100 100 100 100 100</p> <p>10 10 10 10 10 10 10 10 10</p> <p>•• ••</p> <p>•• ••</p> |
|---|---|