

1 Calcule ces additions en colonne:

436 + 71

49 + 9 =

465 + 418

164 + 638

273 + 55 =



2 Calcule ces soustractions en colonne:

68 - 37 =

88 - 49 =

78 - 53 =

75 - 48 =

84 - 69 =



3 La multiplication. Ecris une opération en ligne avec le signe X et calcule.

7 + 7 + 7 + 7 + 7 =

3 + 3 + 3 =

2 + 2 + 2 + 2 + 2 + 2 + 2 + 2 + 2 + 2 =

10 + 10 + 10 + 10 + 10 + 10 =



4 La multiplication. Ecris une opération en ligne avec les signes + et calcule.

8 x 5 = _____ =

3 x 10 = _____ = ..

6 x 3 = _____ = ..

5 Complète avec le signe < ou >

$898 \dots 878$

$389 \dots 838$

$699 \dots 599$

$609 \dots 610$

$990 \dots 991$

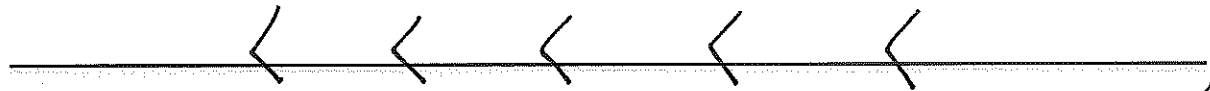
$201 \dots 102$

$900 \dots 999$

$388 \dots 499$

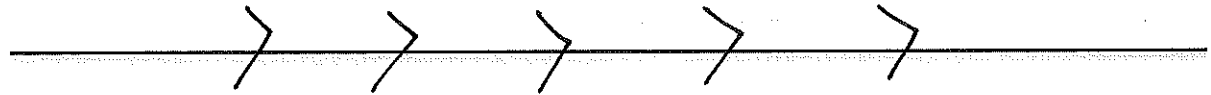
6 Range les nombres du plus petit au plus grand.

$405 - 899 - 289 - 789 - 949 - 401$



7 Range ces nombres du plus grand au plus petit.

$302 - 489 - 549 - 389 - 179 - 301$



8 Calcule en ligne :

$200 + 90 + 4 = \dots$

$400 + 80 = \dots$

$300 + 6 = \dots$

$90 + 300 = \dots$

$500 + 70 + 1 = \dots$

$500 + 50 + 7 = \dots$

9 Complète :

$340 = 40 + \dots$

$650 = 50 + \dots$

$450 = 200 + \dots + \dots$

$840 = 20 + \dots + \dots$

$570 = 500 + \dots$

$480 = 300 + \dots + 80$

1 Calcul mental : multiplier par 5. La table du 5.



5×1	5×4	5×6	5×10	5×2	5×7	5×3	5×9	5×5	5×8
→ 5									

2 Calcul mental : multiplier par 3. La table du 3.



3×10	3×3	3×5	3×8	3×1	3×6	3×4	3×2	3×7	3×9

3 Calcul mental : multiplier par 4. La table du 4.


4×4	4×5	4×6	4×1	4×10	4×7	4×2	4×9	4×3	4×8

4 Calcul mental : complète chaque série de nombres.

De 10 en 10	785	795							
De 5 en 5	345	350							
De 2 en 2	634	636							
De 100 en 100	181	281							
De 1 en 1	282	283							




1 Résous ces 4 problèmes. Attention : n'oublie pas la phrase réponse, le dessin l'opération et fais bien attention à ton calcul.

 **Petits Problèmes** 1

Elsa achète 5 paquets de 4 images.


Combien d'images achète-t-elle ?



 **Petits Problèmes** 2

Mr Milo achète une galette à 7€.
Il paie avec un billet de 20 €.
La boulangère lui rend la monnaie.


Combien d'argent lui rend-elle ?

 **Petits Problèmes** 3

Adrien a 23 feutres. Mais il n'a que 10 capuchons.

Combien de capuchons manque-t-il à Adrien ?




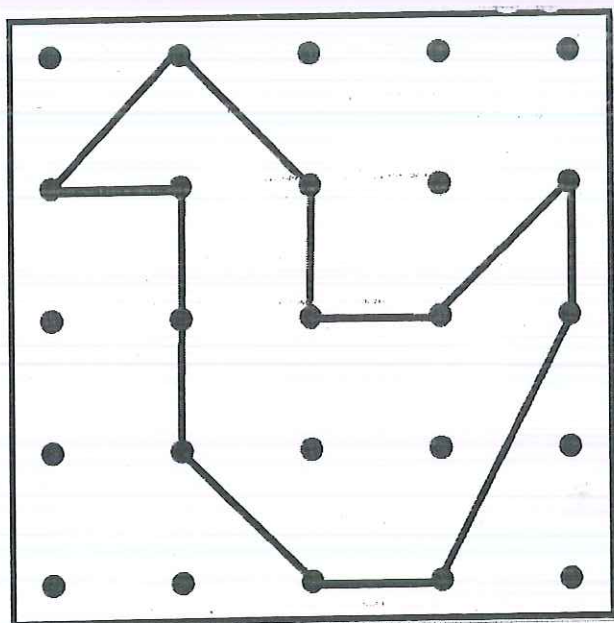

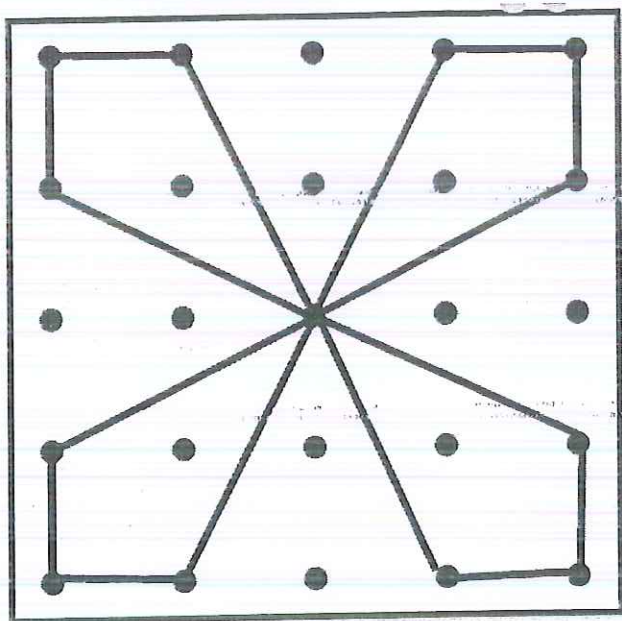
 **Petits Problèmes** 4

25 enfants partent en classe de neige. Il faut 2 bâtons de ski par élève.

Combien faut-il de bâtons de ski ?

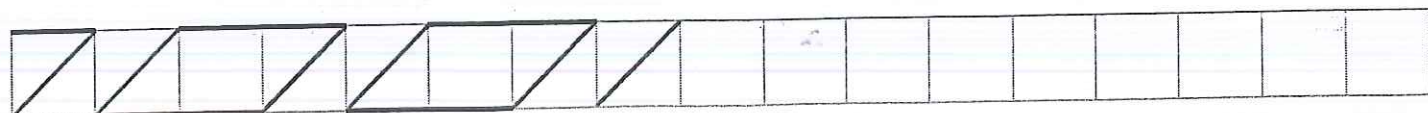
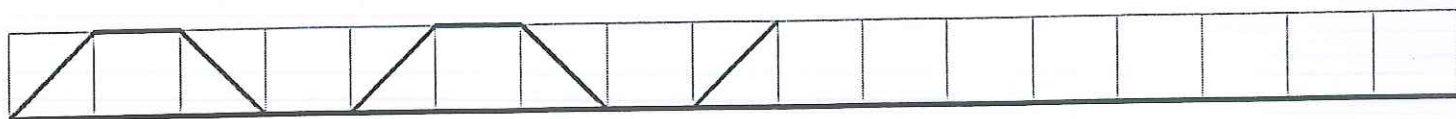
Reproduire une figure

Avec une règle et un crayon à papier, reproduis les figures dans le géoplan.



Se repérer dans un quadrillage simple

Continue les frises avec une règle et un crayon. Ensuite tu peux les colorier.



Objectif : Effectuer les multiplications et regrouper les résultats qui font partie du même encadrement.

marron

vert clair

vert foncé

noir

rose

résultat
< 10

10 <
résultat
< 19

19 <
résultat
< 29

29 <
résultat
< 39

résultat
> ou =
40

1×2

1×4

1×3

6×3

8×2

4×3

20×2

10×2

5×4

8×5

4×4

5×3

6×2

10×5

2×2

8×3

4×2

3×3

6×4

5×5

2×3

1×5

2×4

3×5

9×4

4×5

7×4

7×3

2×6

10×3

3×4

6×5

3×2

8×4

7×5