

# Problèmes sur la monnaie

Marc achète un ballon qui coûte 15 € avec un billet de 20 €. Quelle somme d'argent lui rendra-t-on ?

---

Laura a acheté des habits. Elle a dépensé 36 €. Elle a payé avec un billet de 50 €. Quelle somme d'argent lui a-t-on rendue ?

---

Marc et Laura ont acheté 2 livres. Le premier a coûté 11 € et le deuxième 18 €. Ils ont donné 50 €. Quelle somme d'argent ont-ils dépensée ? Quelle somme d'argent leur a-t-on rendue ?

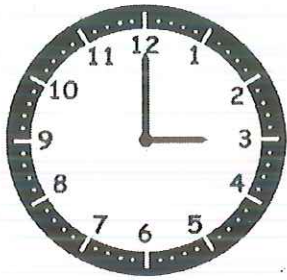
---

---

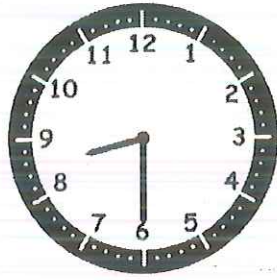
*Continuer à revoir les tables de multiplications (3, 4 et 5)*

# L'heure


1. Écris les heures indiquées sur ces horloges. (Utilise "quart" et "demie" sur la 2<sup>e</sup> ligne.)




Il est ..... h ..... min.




Il est ..... h ..... min.




Il est ..... h ..... min.



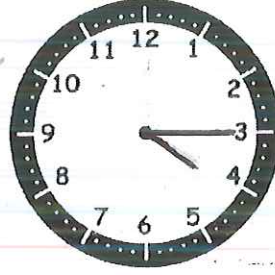
Il est ..... h ..... min.



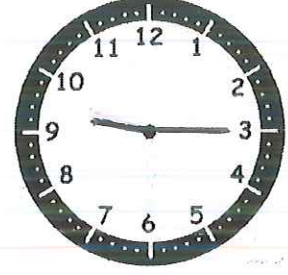
Il est .....heures et  
-----



Il est .....




Il est .....heures et  
-----




Il est ....heures et  
-----

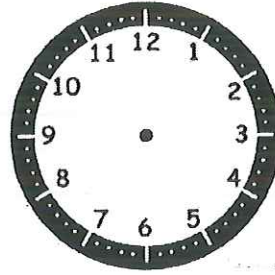
2. Place les aiguilles selon les heures indiquées.



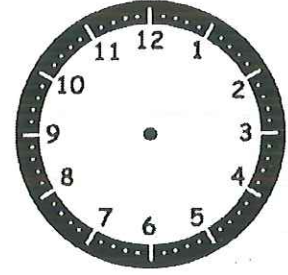
Il est 2 h 00 min.



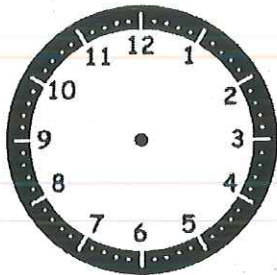
Il est 11 h 25 min.



Il est 5 h 30 min.



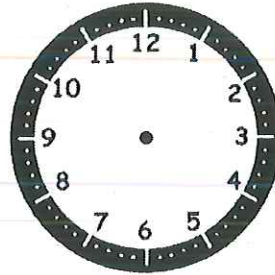
Il est 7 h 10 min.




Il est 10 h 30 min.



Il est 6 h et demie.




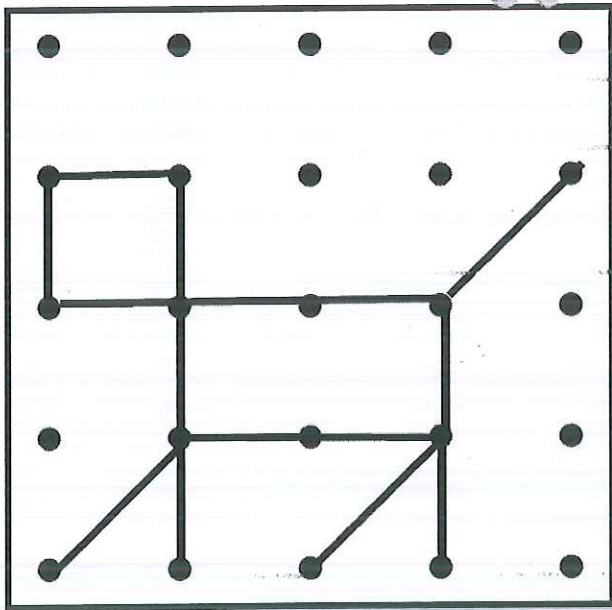

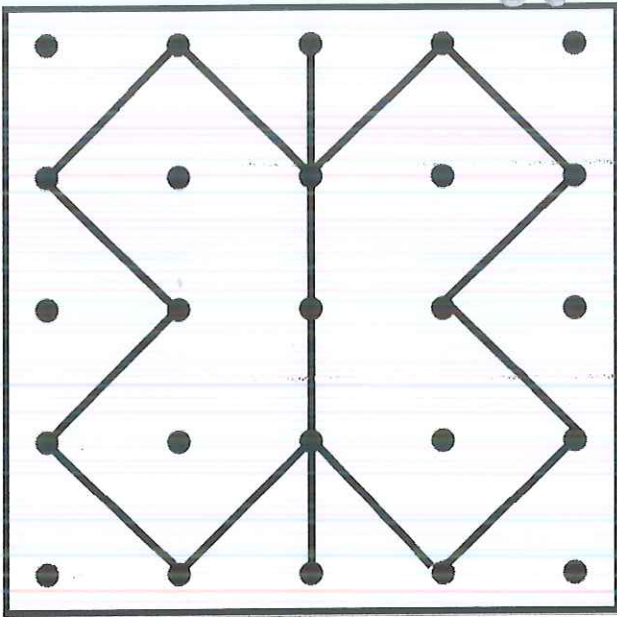
Il est 11 h 00 min.




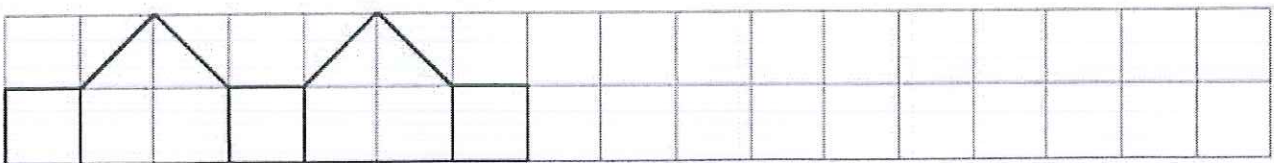
Il est 1 h et quart.

# Reproduire une figure

Avec une règle et un crayon à papier, reproduis la figure de gauche sur le géoplan de droite.



Continue les frises avec une règle et un crayon. Ensuite tu peux les colorier.



vert foncé

bleu foncé

gris

bleu clair

beige

vert clair

résultat  
= 1 ou 2résultat  
= 3 ou 4résultat  
= 5 ou 6résultat  
= 7résultat  
= 8résultat  
= 9 ou 10

7-3

5-1

9-5

3-2

5-4

11-4

12-5

11-7

7-6

10-3

10-9

3-1

13-6

9-7

8-7

5-3

15-5

12-3

9-2

14-5

16-7

16-9

13-3

14-7

10-1

8-0

10-2

18-9

11-1

17-7

15-7

8-1

11-3

12-4

15-8

13-5

11-8

5-2

16-8

7-2

7-4

14-6

9-6

13-8

7-1

17-9

11-5

13-7

15-9

9-3

11-6

11-6