


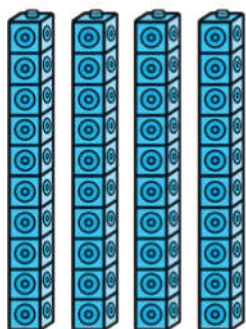
J'observe

Compare 28 et 40.



Quel nombre est le plus grand :
28 ou 40 ?

| Dizaines | Unités |
|----------|--------|
| 2 | 8 |




Compare d'abord les dizaines.
4 dizaines, c'est plus que 2 dizaines.
40 est plus grand que 28.

| Dizaines | Unités |
|----------|--------|
| 4 | 0 |

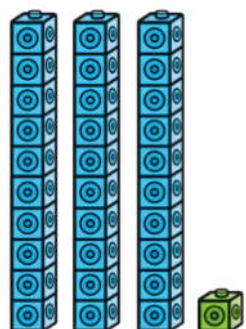


Compare 36 et 31.



Les chiffres des dizaines sont identiques.
Compare les unités.

| Dizaines | Unités |
|----------|--------|
| 3 | 6 |




1 unité, c'est moins que 6 unités.
31 est plus petit que 36.
36 est plus grand que 31.

| Dizaines | Unités |
|----------|--------|
| 3 | 1 |



Compare 65 et 69.



65

69

Les chiffres des dizaines sont identiques.
Compare les unités.



9 unités, c'est plus que 5 unités.
69 est plus grand que 65.
65 est plus petit que 69.



1 Utilise des  pour comparer 45 et 49.

a) Quel nombre est le plus grand ?

b) Quel nombre est le plus petit ?

| Dizaines | Unités |
|----------------------|----------------------|
| <input type="text"/> | <input type="text"/> |
| <input type="text"/> | <input type="text"/> |

2 Utilise des  pour comparer 62 et 52.

a) Quel nombre est le plus grand ?

b) Quel nombre est le plus petit ?

| Dizaines | Unités |
|----------------------|----------------------|
| <input type="text"/> | <input type="text"/> |
| <input type="text"/> | <input type="text"/> |

3 Compare 10 et 20, puis 20 et 40 et enfin 30 et 60.
Que remarques-tu ?


J'observe

Compare 37, 32 et 35.

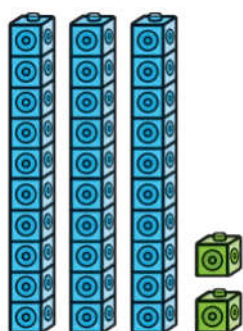
Quel nombre est le plus grand ?

Quel nombre est le plus petit ?

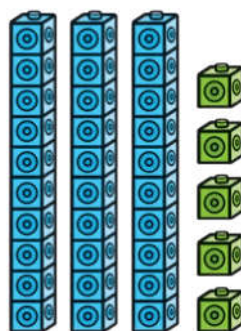
Les chiffres des dizaines
sont identiques.
Compare les unités.



37



32



35



7 unités, c'est plus que 5 unités.
5 unités, c'est plus que 2 unités.



Le plus grand nombre est 37.


Le plus petit nombre est 32.

- 1 Ordonne les nombres 37, 32 et 35 du plus petit au plus grand.

- 2 Ordonne les nombres 37, 32 et 35 du plus grand au plus petit.

Compare 41, 63 et 57.
 Quel nombre est le plus grand ?
 Quel nombre est le plus petit ?

Compare les dizaines.



41

63

57

6 dizaines, c'est plus que 5 dizaines.
 5 dizaines, c'est plus que 4 dizaines.

Le plus grand nombre est 63.
 Le plus petit nombre est 41.

3 Ordonne les nombres 41, 63 et 57 du plus petit au plus grand.

4 Ordonne les nombres 41, 63 et 57 du plus grand au plus petit.

5 Choisis trois nombres compris entre 20 et 69 et ordonne-les du plus petit au plus grand.