


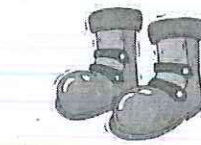
C'est lundi de Pâques !



Hier, j'ai trouvé des œufs

Le nombre du jour

lundi mardi mercredi jeudi vendredi



pair



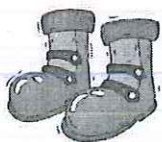
impair

c d u

--	--	--

Le nombre du jour

lundi mardi mercredi jeudi vendredi



pair



impair

c d u

--	--	--

Le nombre du jour

lundi mardi mercredi jeudi vendredi



pair





impair

c d u

--	--	--

Séance 78 Comparons deux nombres

- 1 a)  Entoure le plus grand nombre.
 Écris sa lettre dans la case.

28	31
L	J

61	58
A	B

56	47
I	T


59	69
G	M

31	29
E	A

63	60
L	D

26	52
O	E

45	54
V	S



33	25
M	N

57	51
A	I



44	66
S	T

19	21
U	H

34	43
M	S

- b)  Quel est le message secret ?

J' _____

- 2 a)  Entoure le plus petit nombre.
 Écris sa lettre dans la case.


65	35
S	T

30	39
R	A

64	46
U	E

21	28
S	N

62	56
E	A



42	34
T	M


44	66
U	I

58	68
S	R

37	29
V	A

56	48
M	N

29	45
T	B

- b)  Quel est le message secret ?

Les maths, c'est _____



Séance 79 Comparons et ordonnons des nombres

1 a)  Complète.


41, c'est
 dizaines
 et 1 unité

47, c'est
 4 dizaines
 et unités

45, c'est
 dizaines
 et unités

b)  Quel nombre est le plus grand ?

c)  Quel nombre est le plus petit ?

d)  Ordonne les nombres du plus petit au plus grand.

e)  Ordonne les nombres du plus grand au plus petit.

2 a)  Complète.


63, c'est
 dizaines
 et 3 unités

43, c'est
 4 dizaines
 et unités

53, c'est
 dizaines
 et unités

b)  Quel nombre est le plus petit ?

c)  Quel nombre est le plus grand ?

d)  Ordonne les nombres du plus grand au plus petit.

e)  Ordonne les nombres du plus petit au plus grand.

3  Ordonne les nombres du plus grand au plus petit.


59	53	64
<input type="text"/>	<input type="text"/>	<input type="text"/>

4  Ordonne les nombres du plus petit au plus grand.


57	47	69	58
<input type="text"/>	<input type="text"/>	<input type="text"/>	<input type="text"/>

5 a)  Écris un nombre plus petit que 61.

b)  Écris un nombre plus grand que 61.

c)  Ordonne 61 et les deux nombres que tu as écrits du plus grand au plus petit.


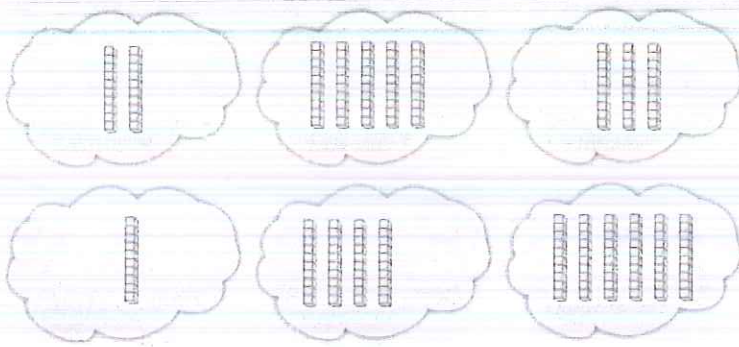
<input type="text"/>	<input type="text"/>	<input type="text"/>
----------------------	----------------------	----------------------

d)  Ordonne 61 et les deux nombres que tu as écrits du plus petit au plus grand.

<input type="text"/>	<input type="text"/>	<input type="text"/>
----------------------	----------------------	----------------------

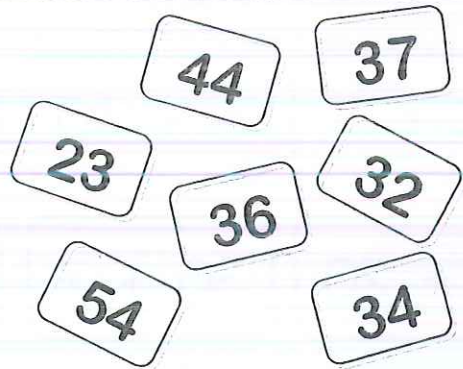
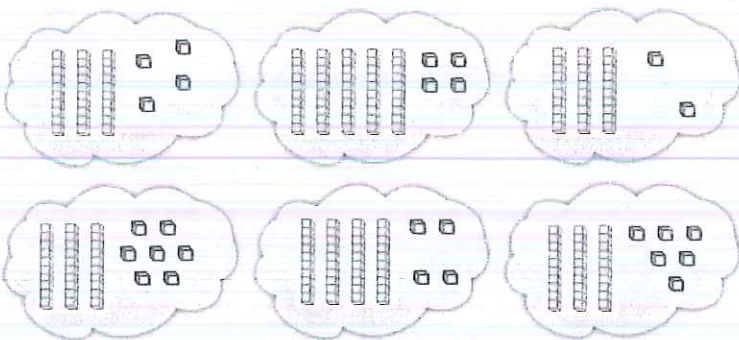


Colorie les nombres et leur nuage . Entoure le nombre mystère.




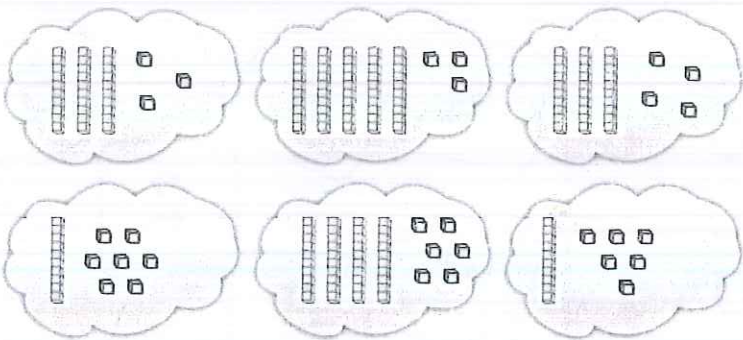
<http://chezlulu.eklablog.fr>

Colorie les nombres et leur nuage . Entoure le nombre mystère.




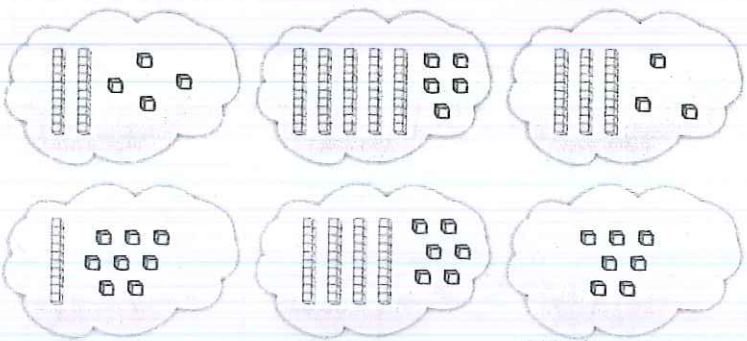
<http://chezlulu.eklablog.fr>

Colorie les nombres et leur nuage . Entoure le nombre mystère.



<http://chezlulu.eklablog.fr>

Colorie les nombres et leur nuage . Entoure le nombre mystère.



<http://chezlulu.eklablog.fr>

Calcule et colorie les résultats. Entoure le nombre mystère

$8 + 8$	$10 + 10$	$7 + 7$	14	16	6
$3 + 3$	$4 + 4$	$9 + 9$	20	8	17
					18

Calcule et colorie les résultats. Entoure le nombre mystère

$60 + 7$	$6 + 40$	$10 + 8$	67	10	37
$5 + 20$	$30 + 7$	$9 + 50$	59	46	25
					18

Calcule et colorie les résultats. Entoure le nombre mystère

$10 - 3$	$10 - 8$	$10 - 6$	4	8	5
$10 - 7$	$10 - 5$	$10 - 2$	7	3	2
					1

Calcule et colorie les résultats. Entoure le nombre mystère

$37 + 10$	$49 + 1$	$50 - 10$	40	19	50
$13 - 10$	$20 - 1$	$47 + 10$	47	57	3
					48



Énigmes

lundi

mardi

mercredi

jeudi

vendredi

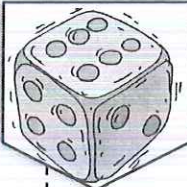
samedi

dimanche

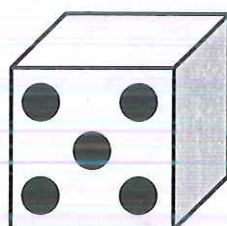
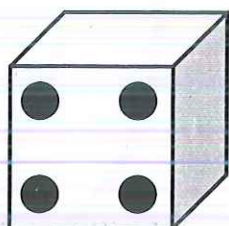
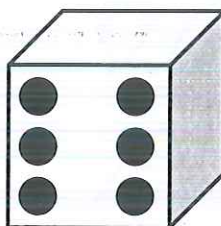
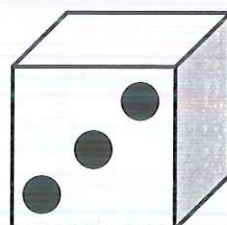
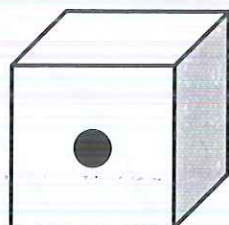



/

/



Kity a lancé 3 dés, elle a obtenu 8 points. Choisis les 3 bons dés.



Énigmes fiche 6 A CP

l'potâme.



Énigmes

lundi

mardi

mercredi

jeudi

vendredi

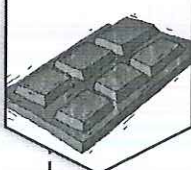
samedi

dimanche





/

/



Jordi a croqué la tablette de chocolat. Combien y avait-il de carrés dans cette tablette ?



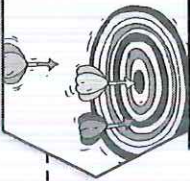
Énigmes fiche 6 B CP

l'potâme.

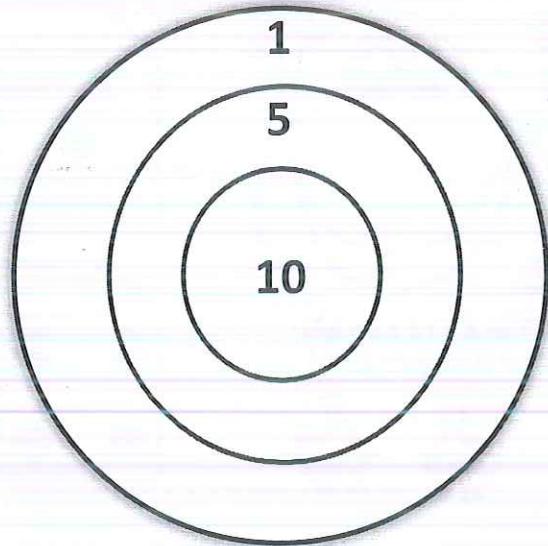


Énigmes

lundi mardi mercredi jeudi vendredi samedi dimanche



Aldo a lancé 5 fléchettes et a obtenu 31 points.
Dessine les fléchettes à la bonne place dans la cible.

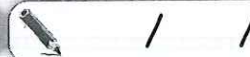


Énigmes fiche 7 A CP Ipotâme.


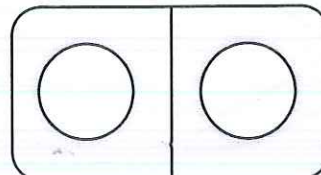
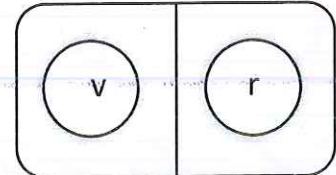
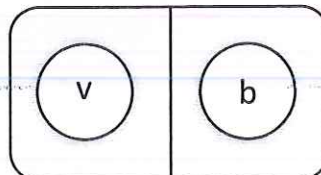
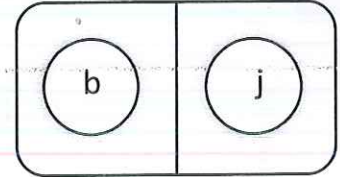
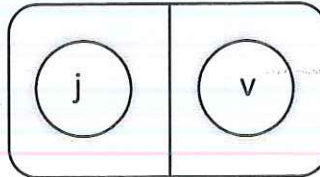
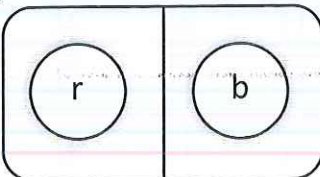


Énigmes

lundi mardi mercredi jeudi vendredi samedi dimanche

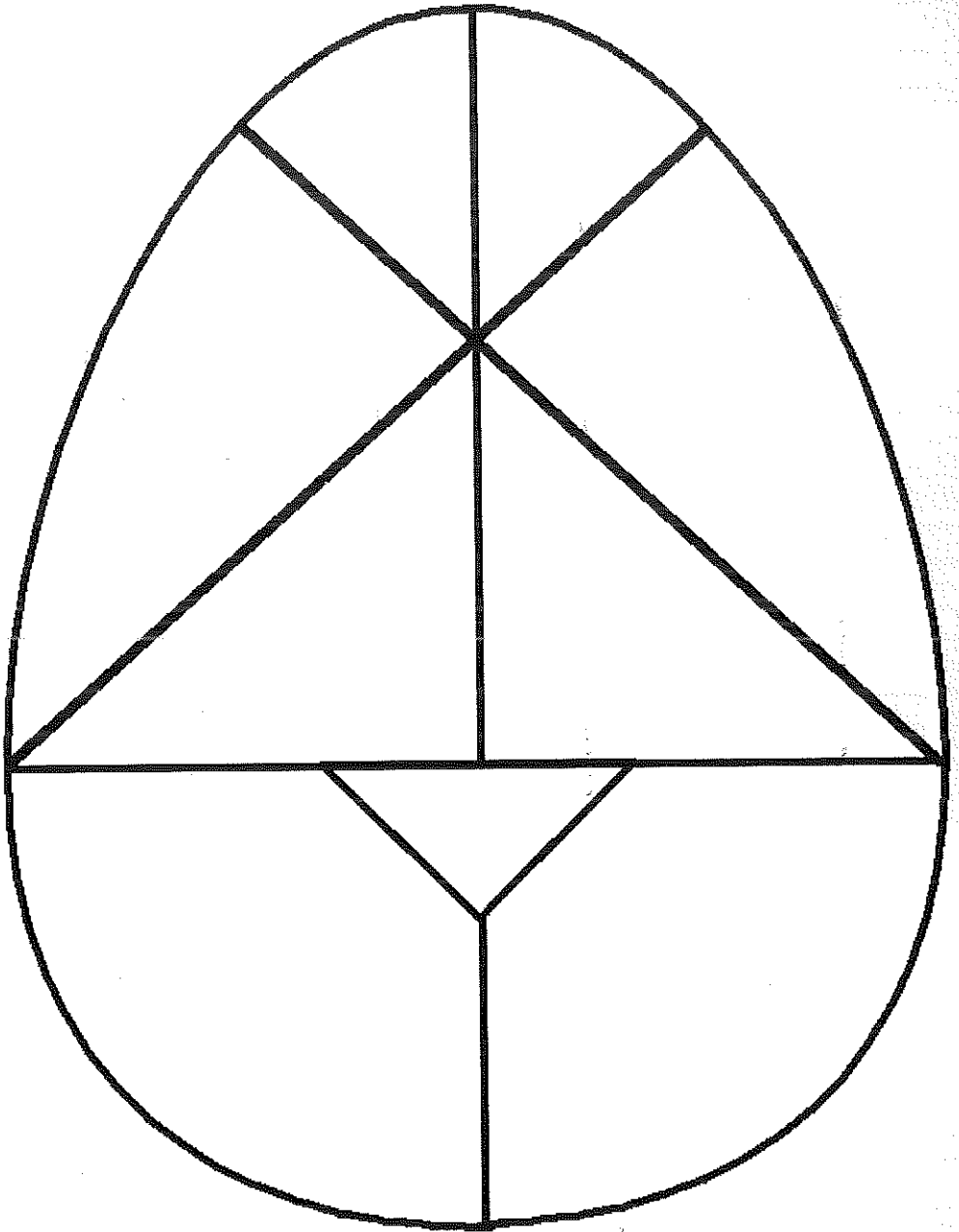


Lucien a perdu le dernier domino, colorie ce domino qui est différent de tous les autres et a 2 couleurs.



Énigmes fiche 7 B CP Ipotâme.


L'oeuf





PRÉNOM :


Reconnais et colle les mots de la météo.




NEIGE



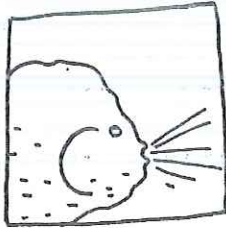
SOLEIL




NUAGE




PLUIE




BROUILLARD



VENT



ORAGE



TEMPÊTE



soleil	nuage	orage	neige
neige	soleil	vent	tempête
tempête	brouillard	pluie	brouillard
pluie	nuage	vent	orage

B

L'Immeuble des Musiciens





PRÉNOM :

Découpe les personnages, les instruments de musique et les objets, puis colle-les sur une feuille pour reproduire l'immeuble des musiciens.

