



L'équilibre et ses raisons

Recherche

Mila et Nêmo fabriquent des mobiles avec du carton. Nêmo a découpé des poissons, a bien attaché le fil au **milieu** de la baguette de bois, mais elle est *oblique*, et il est désolé. Mila trouve un autre poisson, et cette fois la baguette est **horizontale**.



① Le mobile de Nêmo



② Le mobile de Mila

7 Complète par les mots : *lourds*), *légers*), *oblique*, *horizontale*, *équilibre*.

① Le mobile de Nêmo

Le poisson violet est plus que le poisson bleu et jaune.

La baguette de bois est

Le mobile n'est pas en

② Le mobile de Mila

Les deux poissons sont aussi

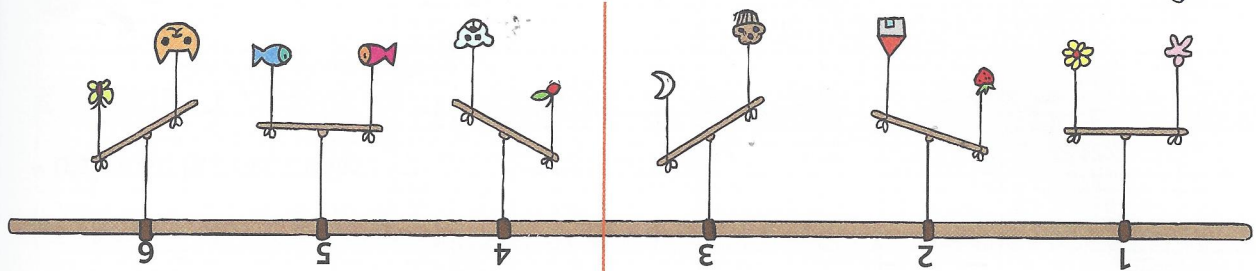
La baguette de bois est

Le mobile est en

2 a. Pour chaque mobile,

entoure en **rouge** l'objet le plus **lourd**

entoure en **bleu** l'objet le plus **léger**.



b. Y a-t-il des mobiles en équilibre ?

oui non

c. Si oui, donne leurs numéros :