

1     *J'entoure dans le texte ce que je vais dessiner, je complète le dessin, puis je répons.*

Kylian a 12 cartes , il en donne 4 à son ami.

♥ **Combien a-t-il de cartes maintenant ?**

◆

♣ *Il a ___ cartes.*

2

Yanis a 8 cerises, il en mange 3 .

♥ **Combien lui en reste-t-il ?**

◆

♣ *Il lui reste ___ cerises.*

3

Timéo a dans sa trousse
4 crayons verts, 3 crayons rouges
et 6 crayons jaunes.

♥ **Combien a-t-il de crayons ?**

◆

♣ *Il a ___ crayons.*

1     *J'entoure dans le texte ce que je vais dessiner, je complète le dessin, puis je répons.*

Loane a 13 photos, elle en donne 4 à Léna.

♥ **Combien a-t-elle de photos maintenant ?**

◆

♣ *Loane a ___ photos.*

2

Maman a 8 roses dans son vase,
papa lui apporte un bouquet de 7 roses .

♥ **Combien de roses va-t-elle avoir maintenant ?**

◆

♣ *Elle a maintenant ___ roses.*

3


10 enfants vont se promener dans le parc,
il y a 4 garçons.

♥ **Combien y a-t-il de filles ?**


◆

♣ *Il y a ___ filles.*


J'entoure dans le texte les données importantes. Je colorie le bon signe de l'opération.

1  Noé a 8 billes, son père lui achète un paquet de 12 billes.
♥ **Combien en a-t-il maintenant ?**


+
-

2  Max achète un livre à 5 € et un album à 8 €.
♥ **Combien va-t-il payer ?**


+
-

3  Marine a 8 €, elle achète un livre à 4 €.
♥ **Combien lui reste-t-il d'argent maintenant ?**


+
-

4  Timéo a 20 crayons dans sa trousse, il en donne 8 à son frère Matéo.
♥ **Combien reste-t-il de crayons à Timéo ?**


+
-

5  Dans la classe de Max il y a 25 élèves. 5 élèves sont absents aujourd'hui.
♥ **Combien y a-t-il d'élèves en classe ?**

+
-


6  Léa 7 billes et Noa a 12 billes.
♥ **Combien ont-elles de billes ensemble ?**

+
-


7  Dans le réfrigérateur il y avait 8 crèmes au chocolat. Lou mange 3 crèmes.
♥ **Combien reste-t-il de crèmes ?**

+
-

J'entoure dans le texte les données importantes. Je colorie le bon signe de l'opération.

1  Noé achète un ballon à 12 €, il avait 20 € dans son porte-monnaie.
♥ **Combien lui reste-t-il maintenant ?**


+
-

2  Dans le car de Max, il y avait 10 enfants. A l'arrêt suivant 4 enfants montent dans le car.
♥ **Combien d'enfants y a-t-il dans le car ?**


+
-

3  Marine a 8 €, sa mamie lui donne 10 € pour son anniversaire.
♥ **Combien d'argent a-t-elle maintenant ?**


+
-

4  Timéo a 12 €, son frère Matéo en a autant.
♥ **Combien d'argent ont-ils ensemble ?**


+
-

5  Léo a compté 20 merles dans l'arbre. 7 merles s'envolent.
♥ **Combien en reste-t-il dans l'arbre ?**

+
-

6  Léa a apporté un paquet de 16 bonbons. Elle donne 5 bonbons à sa sœur Noa.
♥ **Combien Léa a-t-elle de bonbons maintenant ?**

+
-

7  Dans le car de Max, il y a 25 sièges. 12 enfants sont déjà assis.
♥ **Combien reste-t-il de places libres ?**

+
-