

Lis le texte ci-dessous deux fois.

Pas de chance !

Tous les mercredis, Eliott va à la piscine.

Ce matin, il est en retard.

Eliott court chez son meilleur copain, il voit un gros chien dans le jardin, mais son copain est déjà parti !

Le petit garçon saute sur son vélo, mais, pas de chance, le pneu est crevé !

Alors, Eliott se met à courir très vite. Il arrive enfin, tout essoufflé, devant la porte vitrée...

et là, il découvre une grande affiche. Il la lit avec étonnement : « Aujourd'hui, la piscine est fermée. »

Réponds aux questions :

- 1- De qui parle-t-on ? *On parle d'Eliott.*
- 2- Que fait-il ? *Il va à la piscine.*
- 3- Explique le titre « Pas de chance ! ». *Il n'a pas de chance car son copain est parti, son pneu est crevé et la piscine est fermée !*

Trouve les mots dans le texte qui correspondent aux définitions suivantes :

- 1- Il a deux roues : *un vélo*
- 2- Quand il est crevé, la voiture ne peut plus rouler : *un pneu*
- 3- On peut la fermer et l'ouvrir : *une porte*
- 4- On aime bien jouer avec lui : *un copain*
- 5- Elliot n'est pas une fille, c'est : *un garçon*
- 6- C'est un grand bassin rempli d'eau, c'est : *une piscine*
- 7- C'est un endroit où on plante des fleurs et des légumes : *le jardin*
- 8- Il a quatre pattes et il aboie : *un chien*

Classe les mots que tu as trouvés par catégorie :

une personne	un animal	une chose	un lieu
<i>un copain</i>	<i>un chien</i>	<i>un vélo</i>	<i>une piscine</i>
<i>un garçon</i>		<i>un pneu</i>	<i>le jardin</i>
		<i>une porte</i>	

Questions supplémentaires

mercredis

Il y a une majuscule à Elliott car c'est un nom propre.

Lecture devinettes 3

- 1) On parle d'un chat.
- 2) Son métier est pompier.
- 3) Il ira chez le dentiste.
- 4) Elle est infirmière.

Lecture devinettes 4

- 1) C'est le pharmacien.
- 2) Ils vont faire de la peinture.
- 3) Elle va prendre sa douche.
- 4) La scène se passe à la gare.

Les phrases à remettre dans l'ordre.

Le soleil chauffe l'eau de la mer.

Il existe des climats chauds, froids ou tempérés.

Il existe des climats froids, chauds ou tempérés.

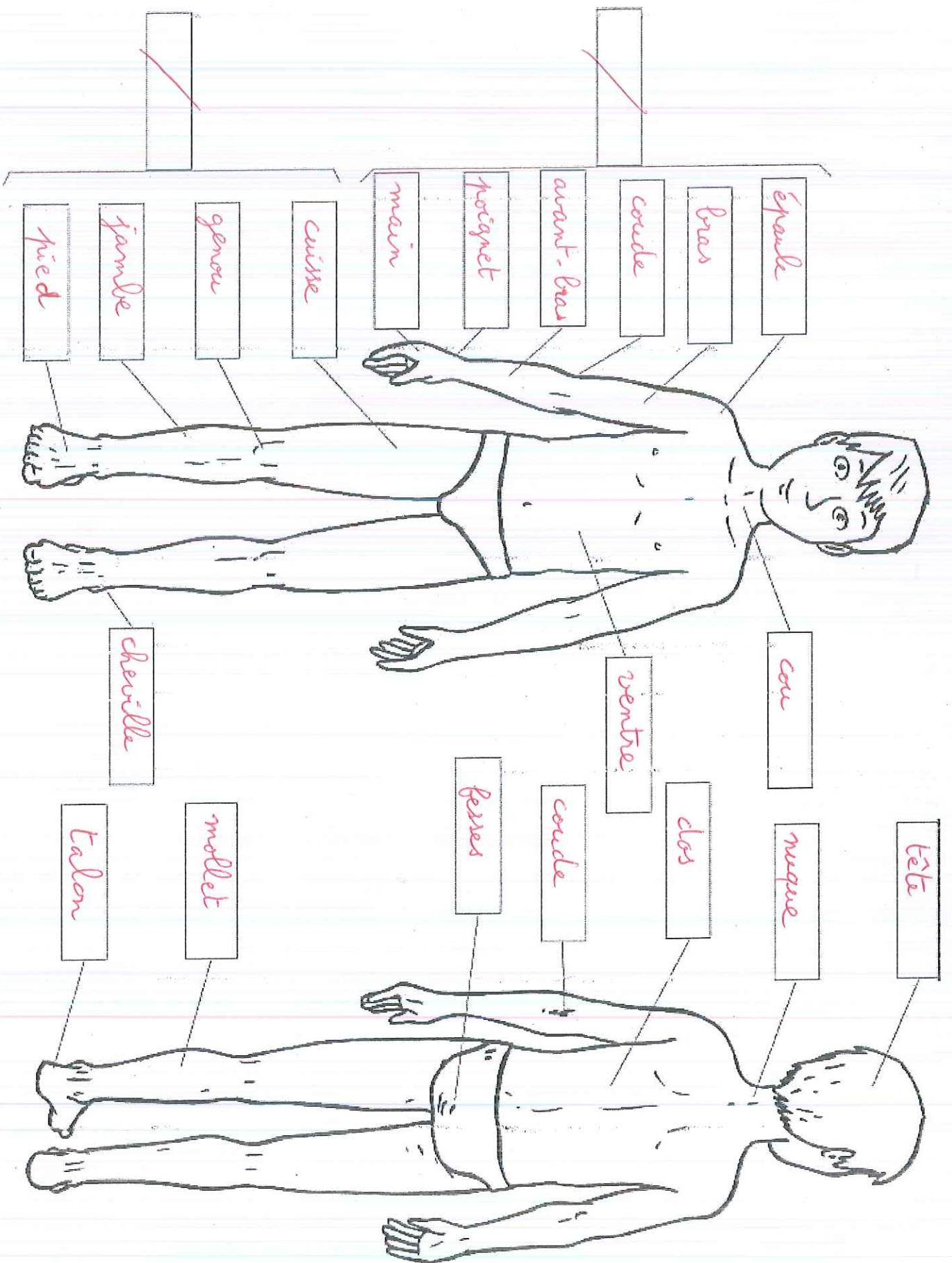
En automne les arbres perdent leurs feuilles.

Les nuages sont des amas de gouttelettes d'eau.

Le givre recouvre l'herbe et les arbres.

Vocabulaire


- 1) le cou / la nuque
- 2) le coude
- 3) le genou
- 4) le talon



Problèmes sur les partages

Semaine 9

1 - Voici 30 petits carrés. Fais des groupes de 5 (en entourant chaque groupe).




Ecris la multiplication qui correspond au dessin :

$$5 \times 6 = 30$$

Combien as-tu pu faire de groupes de 5? J'ai pu faire

6 groupes.

2- Voici 28 petits ronds. Prends 4 couleurs et organise-toi pour qu'il y ait autant de ronds de chaque couleur.



Ecris la multiplication qui correspond au dessin :

$$4 \times 7 = 28$$

Combien y a-t-il de ronds de chaque couleur? Il y a

7 ronds de chaque couleur.

3- On partage 35 bonbons entre 5 enfants. Fais le dessin.

Ecris la multiplication qui correspond au dessin :

$$5 \times 7 = 35$$

Combien de bonbons aura chaque personne? Il y aura

7 bonbons par personne.

Additions

Semaine 9

9

1 Les additions en colonne. Calcule :


25 + 38 46 + 36 27 + 56 19 + 39



25	46	27	19
+38	+36	+56	+39
63	82	83	58

2 Les additions en colonne. Calcule :

58 + 31 67 + 17 65 + 25 29 + 16



58	67	65	29
+31	+17	+25	+16
89	84	90	45

3 Les additions en colonne. Calcule :

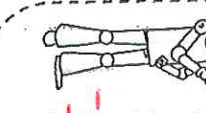
24 + 55 37 + 47 25 + 25 45 + 16



24	37	25	45
+55	+47	+25	+16
79	84	50	61

1 Les soustractions en colonne. Calcule :

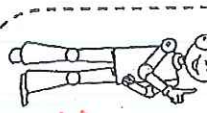
58 - 21 31 - 20 47 - 21 70 - 30



58	31	47	70
-21	-20	-21	-30
37	11	26	40

2 Les soustractions en colonne. Calcule :

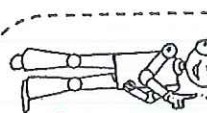
45 - 25 82 - 31 75 - 23 80 - 60



45	82	75	80
-25	-31	-23	-60
20	51	52	20

3 Les soustractions en colonne. Calcule :

97 - 25 60 - 10 91 - 20 76 - 22



97	60	91	76
-25	-10	-20	-22
72	50	71	54

Soustractions

GEOMETRIE - SEMAINE DU 25/05/20

CORRECTION

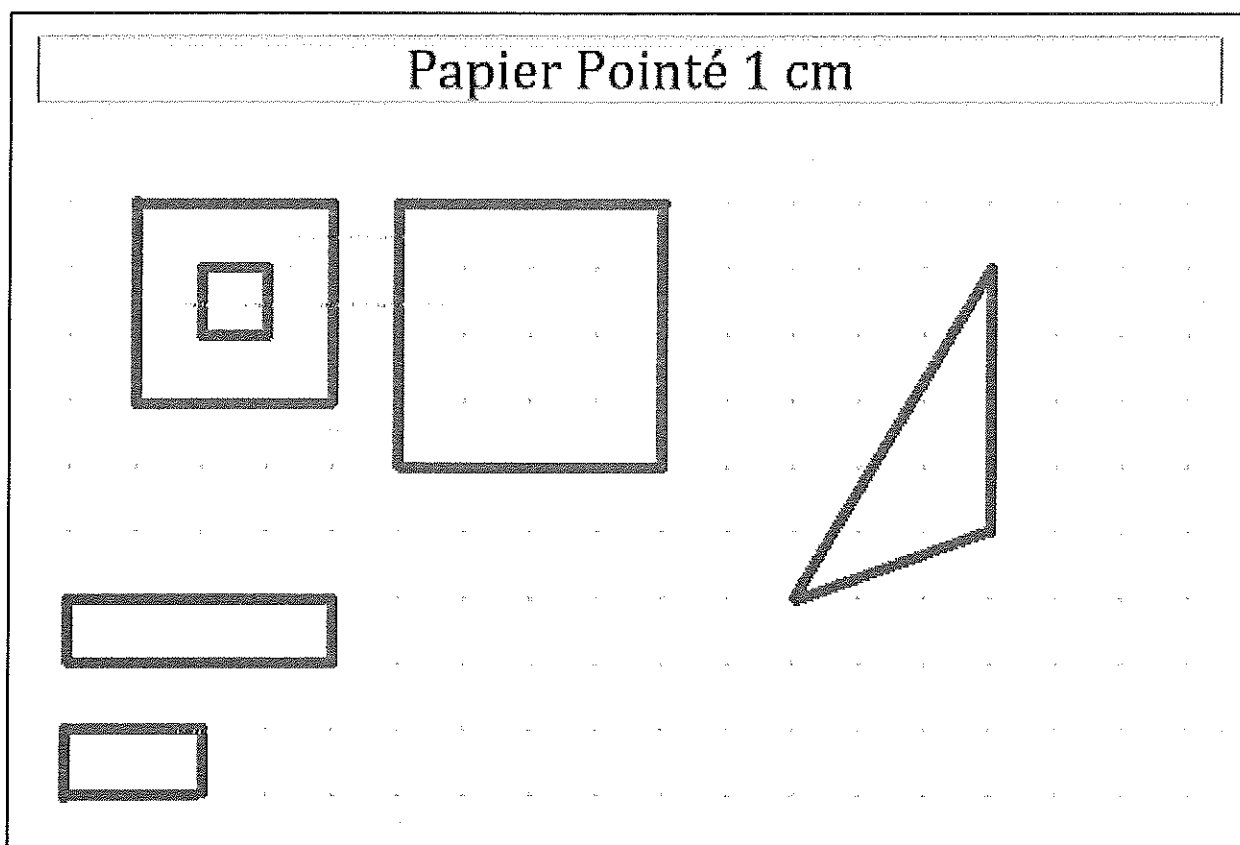
carré, rectangle et triangle

Exercice 1 :

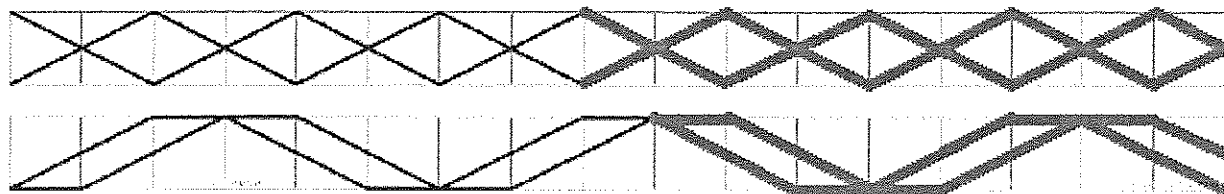
Trace avec la règle trois carrés de tailles différentes.

Trace avec la règle deux rectangles de tailles différentes.

Trace avec la règle un triangle.



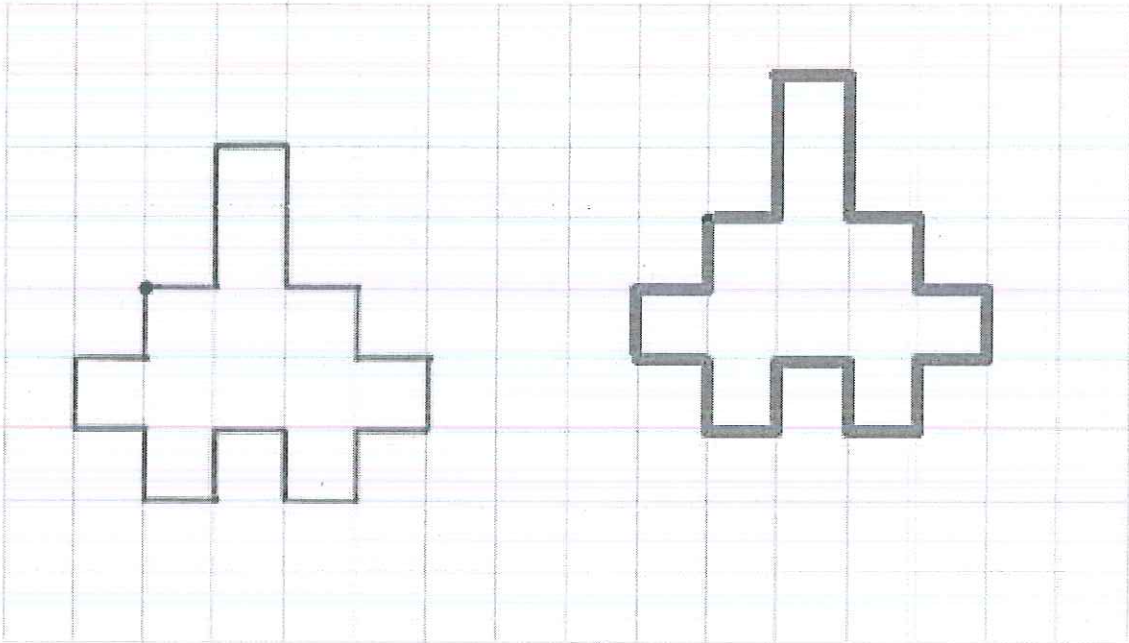
Exercice 2 : Continue à tracer la frise avec la règle.



Reproduire des figures géométriques

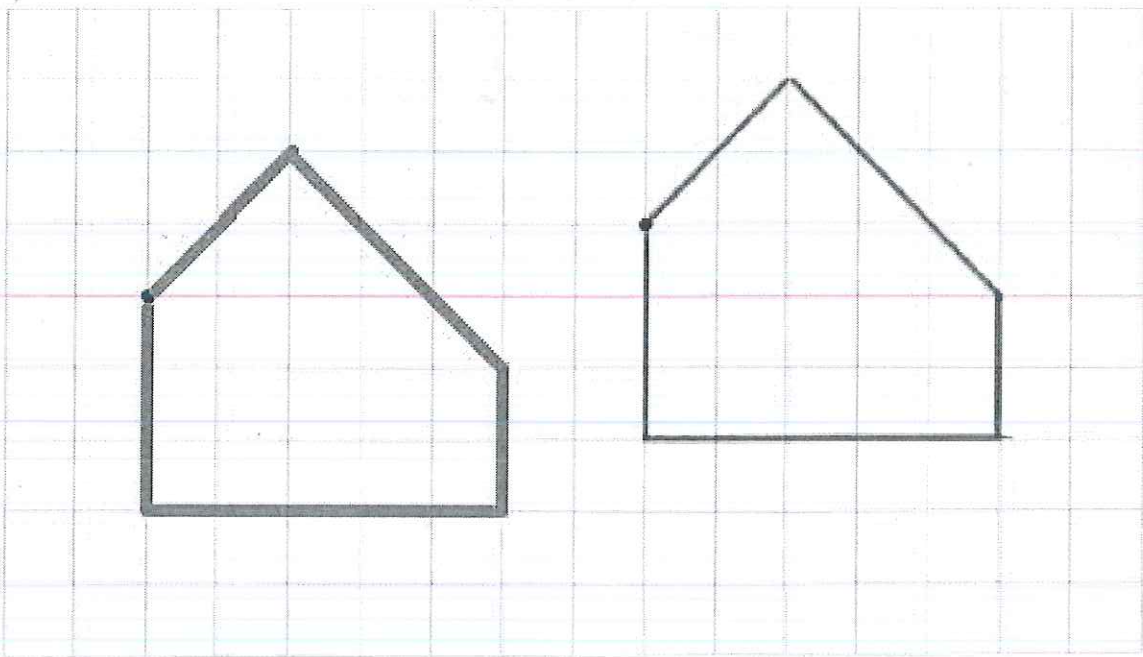
Reproduis le dessin à partir du point.

Trace les traits avec la règle.



Reproduis le dessin à partir du point.

Trace les traits avec la règle.

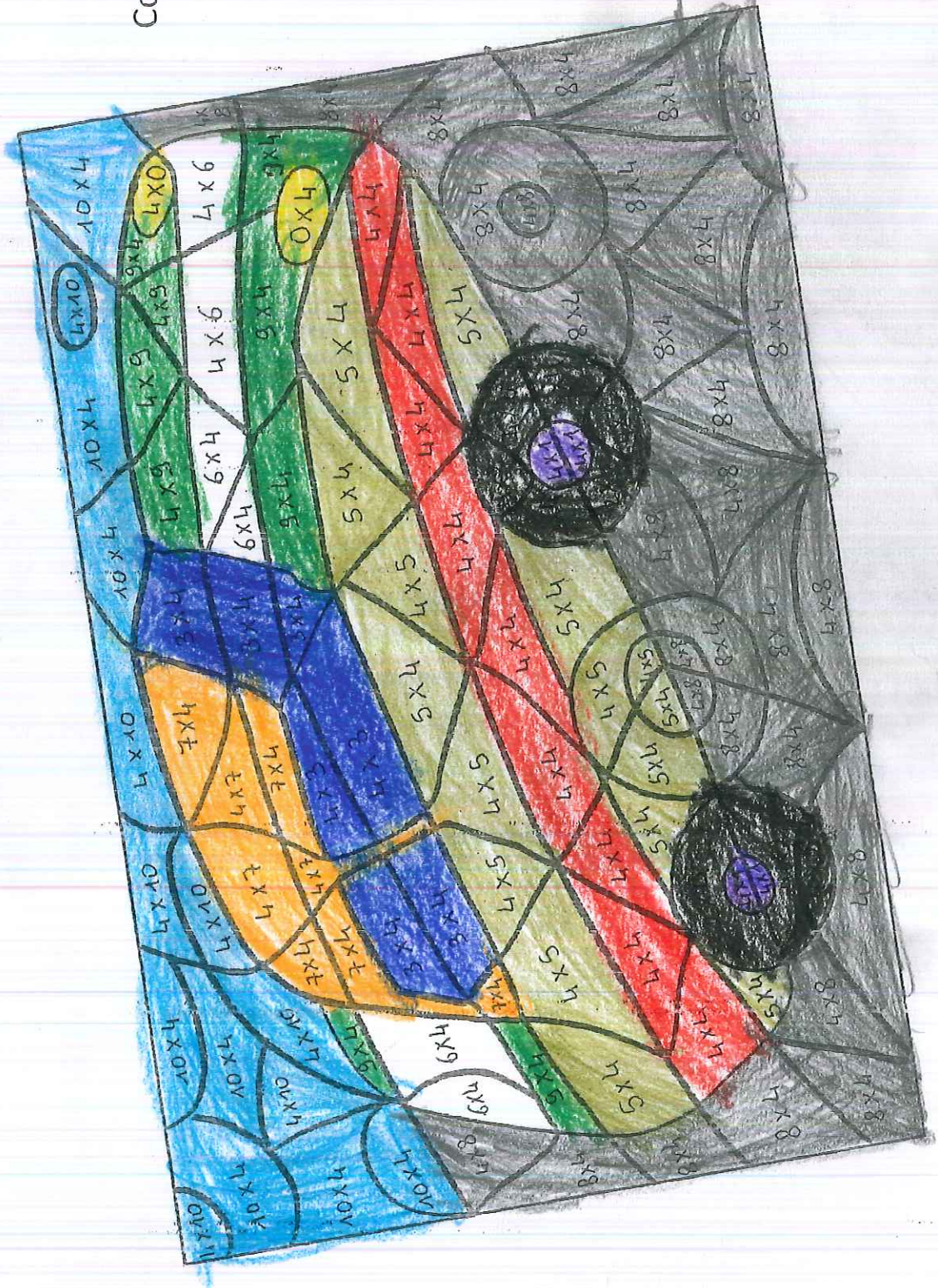


COLORIÀÇE MÀÇIQUÈ

25 MAI 2020

AB

La table de 4



Colorie selon le code :

- 0 : jaune
- 4 : violet
- 8 : noir
- 12 : bleu foncé
- 16 : rouge
- 20 : vert clair
- 24 : blanc
- 28 : orange
- 32 : gris
- 36 : vert foncé
- 40 : bleu clair