

Lis le texte ci-dessous deux fois.

Pas de chance !

Tous les mercredis, Eliott va à la piscine.

Ce matin, il est en retard.

Eliott court chez son meilleur copain, il voit un gros chien dans le jardin, mais son copain est déjà parti !

Le petit garçon saute sur son vélo, mais, pas de chance, le pneu est crevé !

Alors, Eliott se met à courir très vite. Il arrive enfin, tout essoufflé, devant la porte vitrée... et là, il découvre une grande affiche. Il la lit avec étonnement : « Aujourd'hui, la piscine est fermée. »

Réponds aux questions :

- 1- De qui parle-t-on ? *On parle d'Eliott.*
- 2- Que fait-il ? *Il va à la piscine.*
- 3- Explique le titre « Pas de chance ! ». *Il n'a pas de chance car son copain est parti, son pneu est crevé et la piscine est fermée !*

Trouve les mots dans le texte qui correspondent aux définitions suivantes :

- 1- Il a deux roues : *un vélo*
- 2- Quand il est crevé, la voiture ne peut plus rouler : *un pneu*
- 3- On peut la fermer et l'ouvrir : *une porte*
- 4- On aime bien jouer avec lui : *un copain*
- 5- Elliot n'est pas une fille, c'est : *un garçon*
- 6- C'est un grand bassin rempli d'eau, c'est : *une piscine*
- 7- C'est un endroit où on plante des fleurs et des légumes : *le jardin*
- 8- Il a quatre pattes et il aboie : *un chien*

Classe les mots que tu as trouvés par catégorie :

une personne	un animal	une chose	un lieu
<i>un copain</i>	<i>un chien</i>	<i>un vélo</i>	<i>une piscine</i>
<i>un garçon</i>		<i>un pneu</i>	<i>le jardin</i>
		<i>une porte</i>	

Le nom

Je m'entraîne

① Complète le texte suivant avec les noms qui conviennent.

film / Romain / billets / famille / parents / salle / lumière

Ce soir, Romain et ses parents vont au cinéma.

En arrivant, papa prend les billets et toute la famille entre

dans la salle. Au bout de quelques minutes, la lumière s'éteint

et le film commence.

② Entoure le nom dans les groupes de mots.

le petit ours

la vieille femme

un jouet cassé

un sapin magnifique

une belle maison

un gentil garçon

un chien méchant

une vieille voiture

③ Souligne les noms dans les phrases.

Paris est la capitale de la France.

Mon frère joue de la guitare.

La chèvre broute dans le pré.

Le maçon construit un mur.

④ Écris pour chaque nom souligné nom propre ou nom commun.

Ma sœur nage bien.

→ nom commun

Je joue avec Marion.

→ nom propre

Je pars en voyage en Espagne.

→ nom propre

Zoé joue à la poupée.

→ nom commun

Lecture devinette 3

Semaine 9

Lecture devinette 4

Il énerve beaucoup maman lorsqu'elle retrouve plein de poils sur les coussins du canapé. Mais il sait se faire pardonner en se collant à ses jambes tout en ronronnant très fort pour lui montrer qu'il l'aime et se faire pardonner. De quel animal parle-t-on ?

On parle d'un chat.

De la fumée sortait par la fenêtre de l'immeuble. On entendit la sirène. Pierre descendit du camion, déplaça la grande échelle et grimpa le premier.

Quel est le métier de Pierre ?

Son métier est pompier.

Justin a peur. Il a mangé trop de sucreries. Maintenant il a une vilaine carie dans une molaire. Il a très mal. Papa a pris rendez-vous pour lui. Il ira jeudi.

Où ira Justin jeudi ?

Il ira chez le dentiste.

Paula fait des piqûres, distribue les médicaments, prend les températures, dit un mot gentil à droite, adresse un sourire à gauche.

Quel est le métier de Paula ?

Elle est infirmière.

« Bonjour madame, que désirez-vous ?
- du sirop pour la toux et des pastilles pour la gorge, s'il vous plaît. »

Qui pose la question ?

C'est le pharmacien.

Mme Péreau invite les élèves à venir enfilier des tabliers. Sur la table, il y a des feuilles, des pots et des pinceaux.

Que vont faire les élèves ?

Ils vont faire de la peinture.

Manon referme le rideau derrière elle. Avant de régler la bonne température, elle vérifie qu'elle pourra bien attraper le savon. Elle ne traîne pas, son frère attend déjà derrière la porte.

Que va faire Manon ?

Elle va prendre sa douche.

« Bonjour, je voudrais un billet avec réservation pour Dijon, le 5 novembre.

- Départ Paris gare de Lyon à 12h23, arrivée Dijon à 14h00, place 42 voiture 5. Cela fera 35€ s'il vous plaît. »

Où se passe cette scène ?

La scène se passe à la gare.

Les phrases à remettre en ordre 1



Ateliers Doc

mer

soleil

de

chauffe

Le

la

l'eau

Doc

Le soleil chauffe l'eau de la mer.

existe

des

ou

climats

//

froids,

tempérés

chauds

Doc

Il existe des climats chauds ou tempérés.

En

les

feuilles

leurs

automne

arbres

perdent

Doc

En automne les arbres perdent leurs feuilles.

sont

les

d

gouttelettes

eau

amas

de

nuages

des

Doc

Les nuages sont des amas de gouttelettes d'eau.

Les arbres

givre

et

les

recouvre

le

herbe

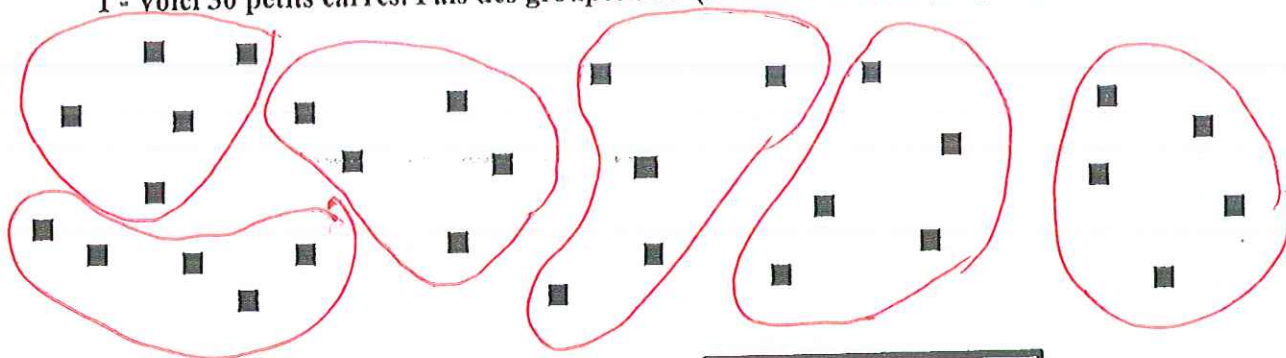
Doc

Le givre recouvre l'herbe et les arbres.

Problèmes sur les partages

Semaine 9

1 - Voici 30 petits carrés. Fais des groupes de 5 (en entourant chaque groupe).




Ecris la multiplication qui correspond au dessin :

$$5 \times 6 = 30$$

Combien as-tu pu faire de groupes de 5? J'ai pu faire

6 groupes.

2- Voici 28 petits ronds. Prends 4 couleurs et organise-toi pour qu'il y ait autant de ronds de chaque couleur.



Ecris la multiplication qui correspond au dessin :

$$4 \times 7 = 28$$

Combien y a-t-il de ronds de chaque couleur? Il y a

7 ronds de chaque couleur.

3- On partage 35 bonbons entre 5 enfants. Fais le dessin.

Ecris la multiplication qui correspond au dessin :

$$5 \times 7 = 35$$

Combien de bonbons aura chaque personne? Il y aura

7 bonbons par personne.

1 Les additions en colonne. Calcule :

$$\begin{array}{r} 25 \\ + 38 \\ \hline \end{array}$$

$$\begin{array}{r} 46 \\ + 36 \\ \hline \end{array}$$

$$\begin{array}{r} 27 \\ + 56 \\ \hline \end{array}$$

$$\begin{array}{r} 19 \\ + 39 \\ \hline \end{array}$$



$$\begin{array}{r} 25 \\ + 38 \\ \hline 63 \end{array}$$

$$\begin{array}{r} 46 \\ + 36 \\ \hline 82 \end{array}$$

$$\begin{array}{r} 27 \\ + 56 \\ \hline 83 \end{array}$$

$$\begin{array}{r} 19 \\ + 39 \\ \hline 58 \end{array}$$

2 Les additions en colonne. Calcule :

$$58 + 31$$

$$67 + 17$$

$$65 + 25$$

$$29 + 16$$



$$\begin{array}{r} 58 \\ + 31 \\ \hline 89 \end{array}$$

$$\begin{array}{r} 67 \\ + 17 \\ \hline 84 \end{array}$$

$$\begin{array}{r} 65 \\ + 25 \\ \hline 90 \end{array}$$

$$\begin{array}{r} 29 \\ + 16 \\ \hline 45 \end{array}$$

3 Les additions en colonne. Calcule :

$$24 + 55$$

$$37 + 47$$

$$25 + 25$$

$$45 + 16$$



$$\begin{array}{r} 24 \\ + 55 \\ \hline 79 \end{array}$$

$$\begin{array}{r} 37 \\ + 47 \\ \hline 84 \end{array}$$

$$\begin{array}{r} 25 \\ + 25 \\ \hline 50 \end{array}$$

$$\begin{array}{r} 45 \\ + 16 \\ \hline 61 \end{array}$$

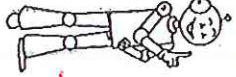
1 Les soustractions en colonne. Calcule :

$$58 - 21$$

$$31 - 20$$

$$47 - 21$$

$$70 - 30$$



$$\begin{array}{r} 58 \\ - 21 \\ \hline 37 \end{array}$$

$$\begin{array}{r} 31 \\ - 20 \\ \hline 11 \end{array}$$

$$\begin{array}{r} 47 \\ - 21 \\ \hline 26 \end{array}$$

$$\begin{array}{r} 70 \\ - 30 \\ \hline 40 \end{array}$$

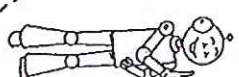
2 Les soustractions en colonne. Calcule :

$$45 - 25$$

$$82 - 31$$

$$75 - 23$$

$$80 - 60$$



$$\begin{array}{r} 45 \\ - 25 \\ \hline 20 \end{array}$$

$$\begin{array}{r} 82 \\ - 31 \\ \hline 51 \end{array}$$

$$\begin{array}{r} 75 \\ - 23 \\ \hline 52 \end{array}$$

$$\begin{array}{r} 80 \\ - 60 \\ \hline 20 \end{array}$$

3 Les soustractions en colonne. Calcule :

$$97 - 25$$

$$60 - 10$$

$$91 - 20$$

$$76 - 22$$



$$\begin{array}{r} 97 \\ - 25 \\ \hline 72 \end{array}$$

$$\begin{array}{r} 60 \\ - 10 \\ \hline 50 \end{array}$$

$$\begin{array}{r} 91 \\ - 20 \\ \hline 71 \end{array}$$

$$\begin{array}{r} 76 \\ - 22 \\ \hline 54 \end{array}$$

GEOMETRIE - SEMAINE DU 25/05/20

CORRECTION

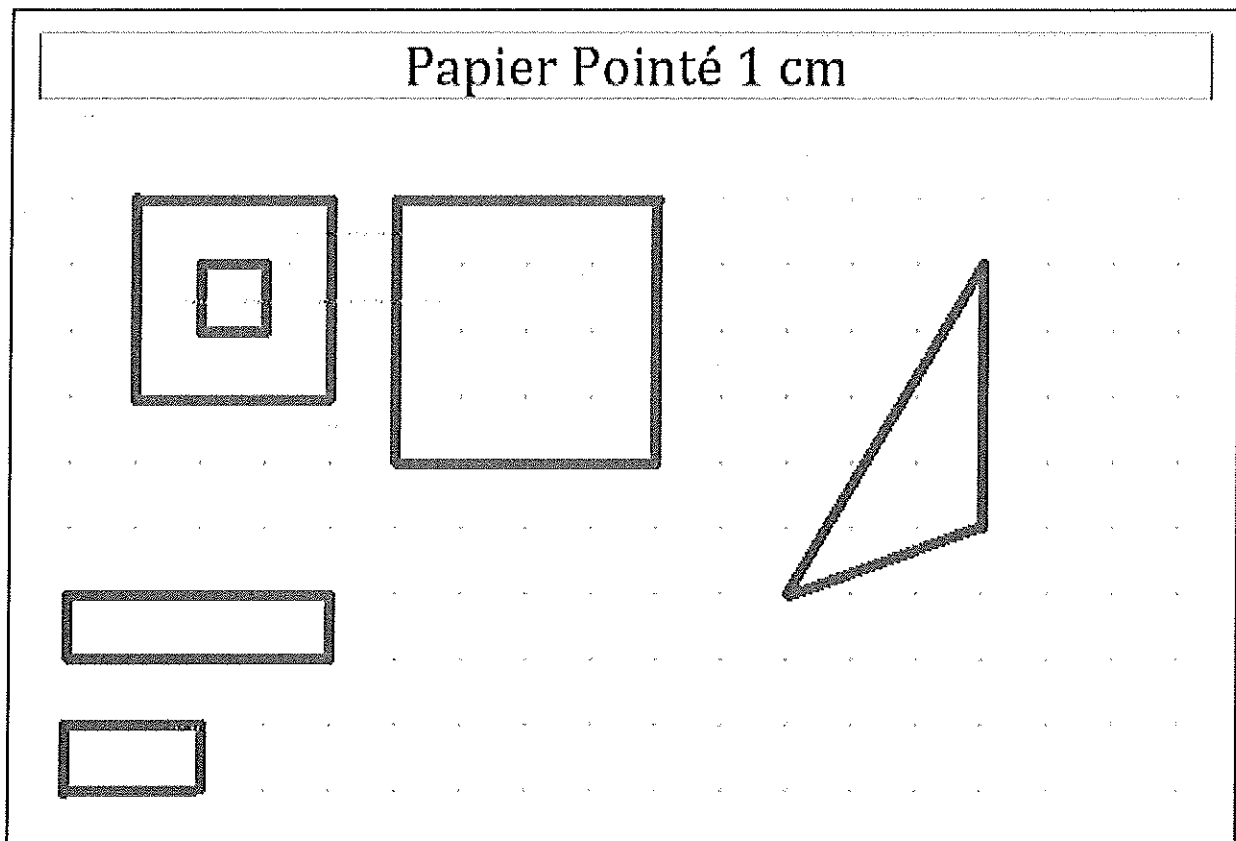
carré, rectangle et triangle

Exercice 1 :

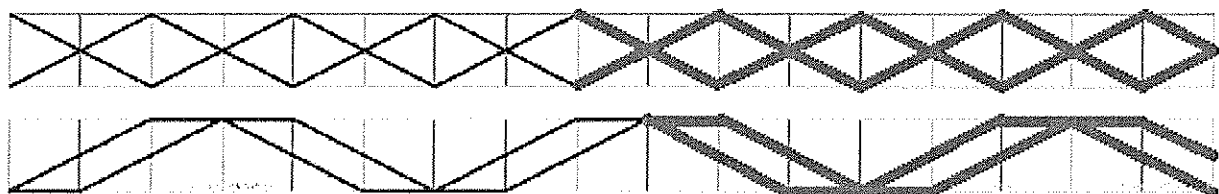
Trace avec la règle trois carrés de tailles différentes.

Trace avec la règle deux rectangles de tailles différentes.

Trace avec la règle un triangle.



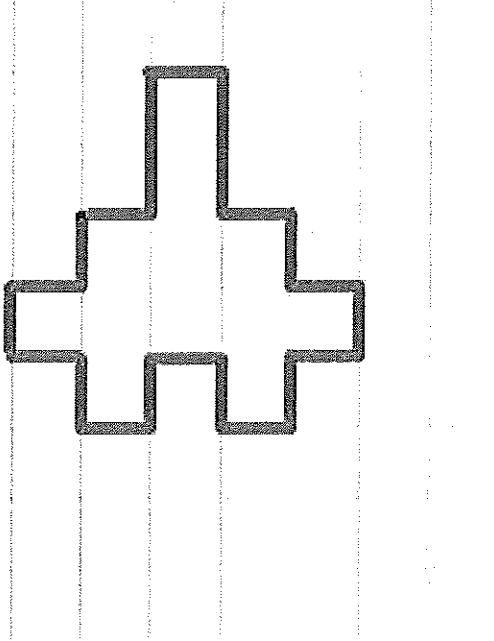
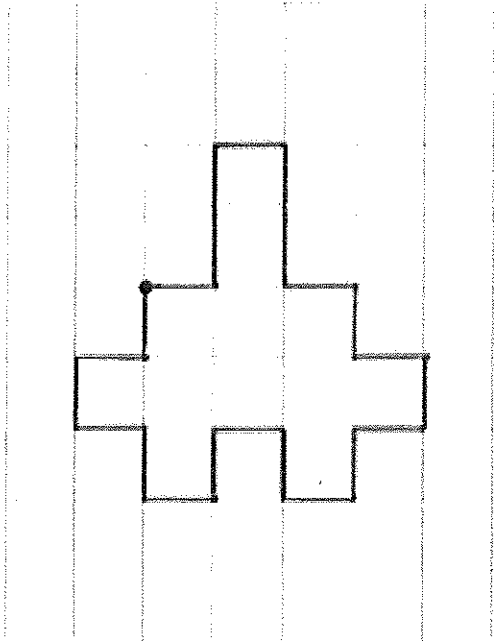
Exercice 2 : Continue à tracer la frise avec la règle.



Reproduis des figures géométriques

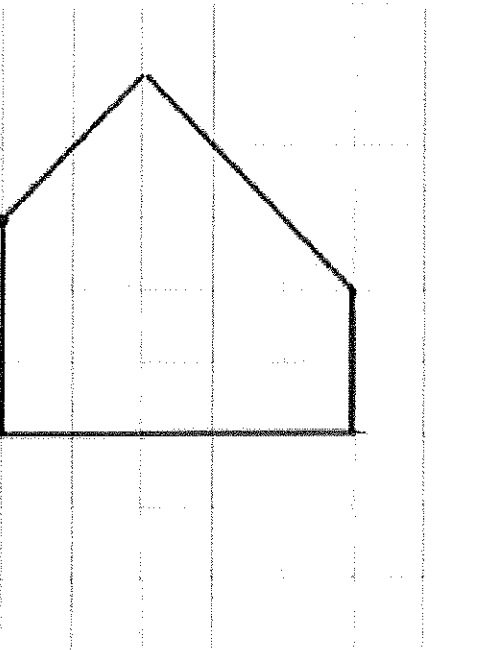
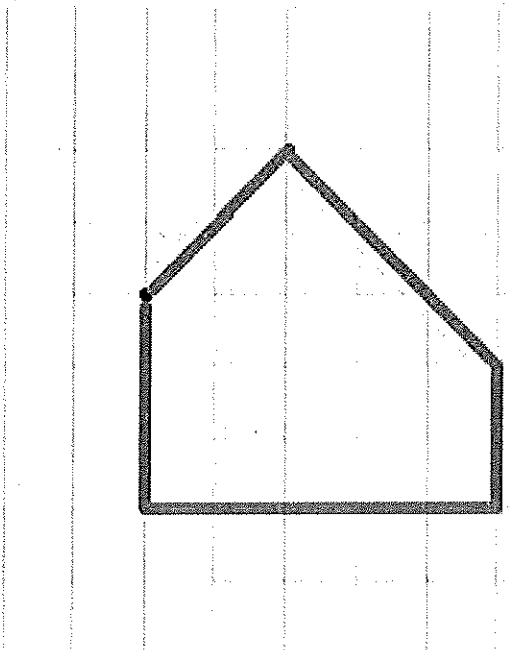
Reproduis le dessin à partir du point

Trace les traits avec la règle.



Reproduis le dessin à partir du point.

Trace les traits avec la règle.

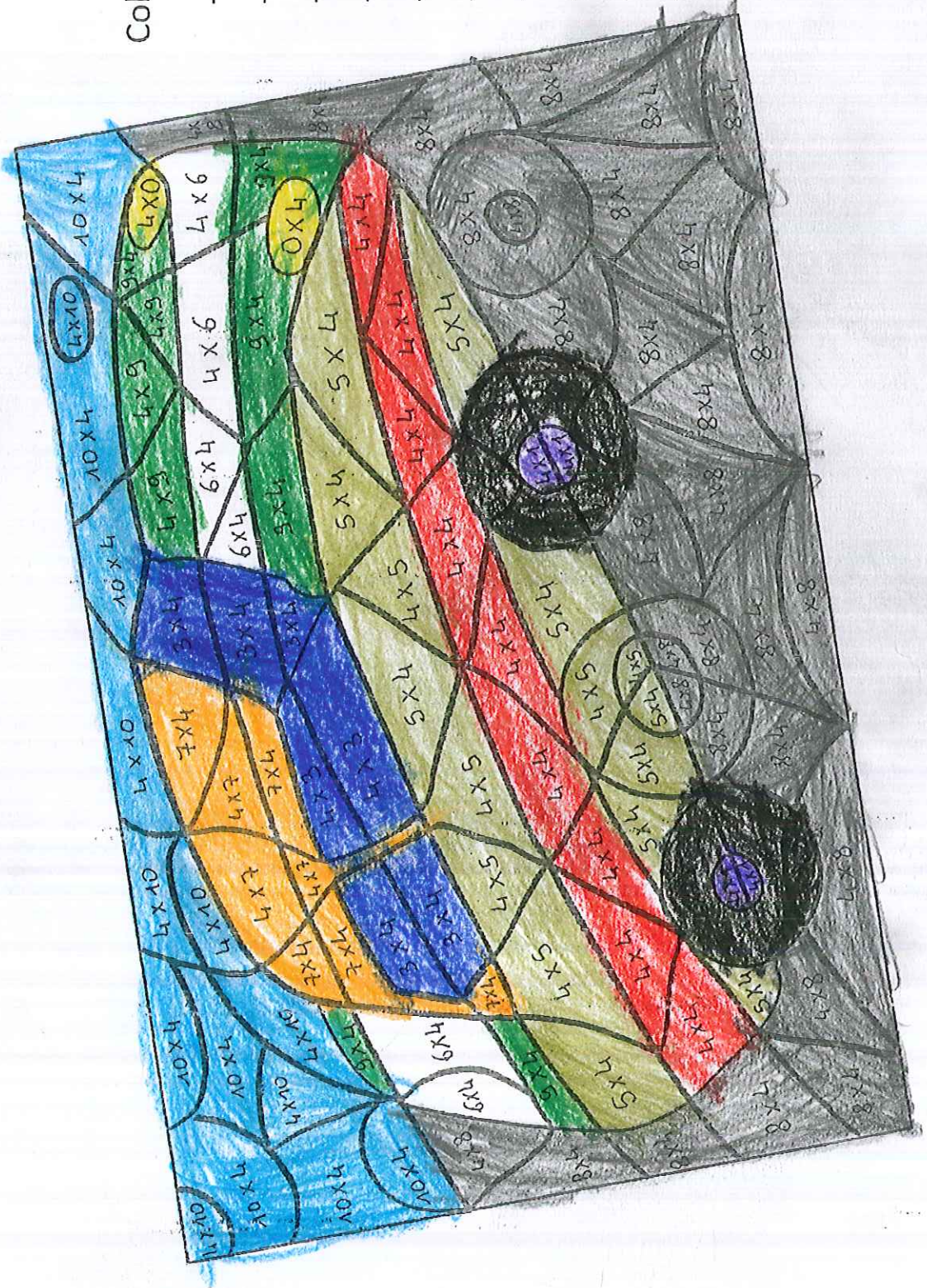


COLORIAGE MAGIQUE

25 MAI 2020

Handwritten mark

La table de 4



Colorie selon le code :

- 0 : jaune
- 4 : violet
- 8 : noir
- 12 : bleu foncé
- 16 : rouge
- 20 : vert clair
- 24 : blanc
- 28 : orange
- 32 : gris
- 36 : vert foncé
- 40 : bleu clair