



## Pierres semi-précieuses

Ambre



Agate



Opale



Jade




Diamant




Émeraude



Rubis



Saphir



## Pierres précieuses

Combien de pierres  
semi-précieuses y  
a-t-il en tout ?

Combien  
de pierres  
précieuses y  
a-t-il en tout ?

## J'observe

Compte de 10 en 10, de 60 à 100.


Tu connais déjà 60. C'est 6 dizaines.



70

soixante-dix

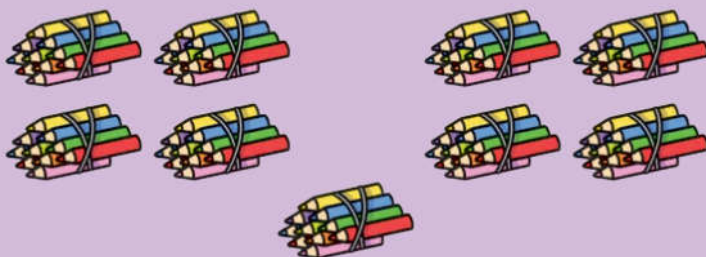
60 et 10



80

quatre-vingts


4 groupes de 20



90

quatre-vingt-dix

4 groupes de 20 et 10



100

cent

10 groupes de 10


# 1 Observe les nombres écrits en lettres.

70 soixante-dix  
71 soixante et onze  
72 soixante-douze  
73 soixante-treize  
74 soixante-quatorze  
75 soixante-quinze  
76 soixante-seize  
77 soixante-dix-sept  
78 soixante-dix-huit  
79 soixante-dix-neuf

90 quatre-vingt-dix  
91 quatre-vingt-onze  
92 quatre-vingt-douze  
93 quatre-vingt-treize  
94 quatre-vingt-quatorze  
95 quatre-vingt-quinze  
96 quatre-vingt-seize  
97 quatre-vingt-dix-sept  
98 quatre-vingt-dix-huit  
99 quatre-vingt-dix-neuf

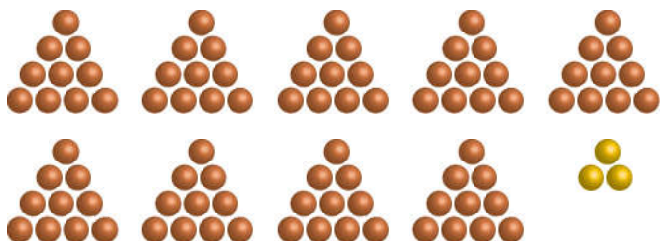
- a) En quoi ces écritures sont-elles semblables ?
- b) En quoi sont-elles différentes ?
- c) Compare avec l'écriture en lettres des nombres compris entre 80 et 89.

# 2 Complète avec les nombres écrits en chiffres.



1 Observe l'exemple puis complète.

Exemple




quatre-vingt-treize

Dizaines	Unités
9	3

93, c'est 90 et 3.

a)




\_\_\_\_\_

Dizaines	Unités
<input type="text"/>	7

67, c'est  et 7.

b)

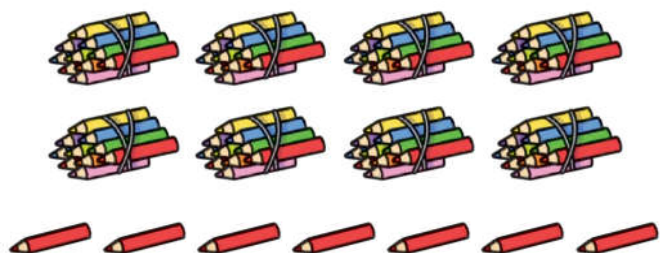


\_\_\_\_\_

Dizaines	Unités
7	<input type="text"/>

, c'est 70 et .

c)



\_\_\_\_\_

Dizaines	Unités
<input type="text"/>	<input type="text"/>

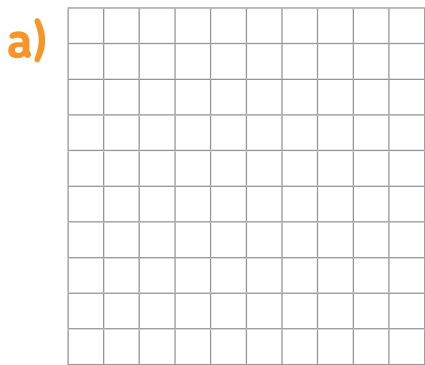
, c'est  et .

**2** Entoure 1 dizaine.

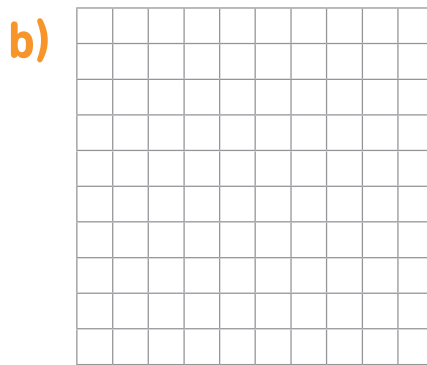
Estime le total puis compte en entourant des dizaines.



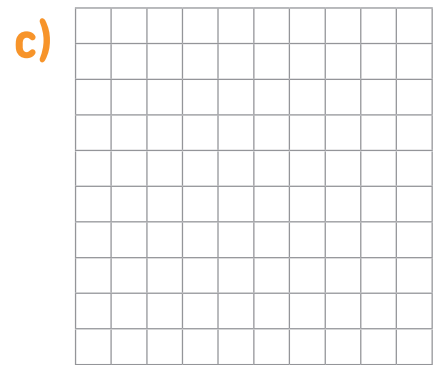
**3** Colorie le nombre de cases indiqu .



96



79



81

**4** Colorie d'une m me couleur les cases qui correspondent.

8 dizaines et 6 unit�s	60 + 19	67	quatre-vingt-quinze
7 dizaines et 9 unit�s	60 + 7	86	soixante-sept
9 dizaines et 5 unit�s	80 + 15	95	soixante-dix-neuf
6 dizaines et 7 unit�s	80 + 6	79	quatre-vingt-six