

Le nombre du jour

lundi mardi mercredi jeudi vendredi



pair

c d u

Vertical lines for writing the letters c, d, and u.



impair

Three empty boxes for writing the number of the day.

Le nombre du jour

lundi mardi mercredi jeudi vendredi



pair

c d u

Vertical lines for writing the letters c, d, and u.



impair

Three empty boxes for writing the number of the day.

Le nombre du jour

lundi mardi mercredi jeudi vendredi



pair

c d u

Vertical lines for writing the letters c, d, and u.



impair

Three empty boxes for writing the number of the day.

Le nombre du jour

lundi mardi mercredi jeudi vendredi



pair

c d u

Vertical lines for writing the letters c, d, and u.



impair

Three empty boxes for writing the number of the day.

Calcule et colorie les résultats. Entoure le nombre mystère

$12 + 2$

$1 + 19$

$4 + 13$

19

17

14

$3 + 15$

$14 + 5$

$10 + 2$

12

18

11

20

Calcule et colorie les résultats. Entoure le nombre mystère

$20 + 40$

$10 + 70$

$30 + 10$

80

60

50

$10 + 40$

$50 + 20$

$10 + 10$

70

40

90

20

Calcule et colorie les résultats. Entoure le nombre mystère

$15 - 3$

$19 - 8$

$12 - 2$

16

14

10

$17 - 3$

$18 - 2$

$19 - 4$

15

20

11

12

Calcule et colorie les résultats. Entoure le nombre mystère

$40 + 40$

$10 + 10$

$30 + 30$

0

40

50

$20 + 20$

$0 + 0$

$50 + 50$


60

100


80

20


Ecris le nombre de cubes dans chaque nuage.




Ecris le nombre de cubes dans chaque nuage.



Ecris le nombre de cubes dans chaque nuage.



Ecris le nombre de cubes dans chaque nuage.



Nom : _____

Date : _____



Top chrono : 20 calculs en 1 minute !

(112)

Tables d'addition de 1 à 5

$3 + 7 = \underline{\quad}$	$9 + 2 = \underline{\quad}$	$3 + 10 = \underline{\quad}$	$1 + 1 = \underline{\quad}$	$3 + 3 = \underline{\quad}$
$5 + 1 = \underline{\quad}$	$7 + 5 = \underline{\quad}$	$2 + 6 = \underline{\quad}$	$8 + 1 = \underline{\quad}$	$4 + 5 = \underline{\quad}$
$5 + 6 = \underline{\quad}$	$10 + 4 = \underline{\quad}$	$4 + 8 = \underline{\quad}$	$5 + 3 = \underline{\quad}$	$2 + 5 = \underline{\quad}$
$4 + 7 = \underline{\quad}$	$5 + 2 = \underline{\quad}$	$1 + 5 = \underline{\quad}$	$9 + 1 = \underline{\quad}$	$3 + 7 = \underline{\quad}$

Nom : _____

Date : _____



Top chrono : 20 calculs en 1 minute !

(103)

Tables d'addition de 1 à 5

$1 + 8 = \underline{\quad}$	$8 + 4 = \underline{\quad}$	$1 + 5 = \underline{\quad}$	$1 + 1 = \underline{\quad}$	$4 + 9 = \underline{\quad}$
$4 + 7 = \underline{\quad}$	$8 + 2 = \underline{\quad}$	$4 + 3 = \underline{\quad}$	$0 + 5 = \underline{\quad}$	$3 + 10 = \underline{\quad}$
$3 + 3 = \underline{\quad}$	$10 + 1 = \underline{\quad}$	$4 + 9 = \underline{\quad}$	$2 + 2 = \underline{\quad}$	$4 + 2 = \underline{\quad}$
$3 + 0 = \underline{\quad}$	$10 + 4 = \underline{\quad}$	$2 + 2 = \underline{\quad}$	$7 + 5 = \underline{\quad}$	$4 + 10 = \underline{\quad}$

Nom : _____

Date : _____



Top chrono : 20 calculs en 1 minute !

(75)

Tables d'addition de 1 à 5

$4 + 7 = \underline{\quad}$	$10 + 4 = \underline{\quad}$	$3 + 3 = \underline{\quad}$	$1 + 1 = \underline{\quad}$	$5 + 1 = \underline{\quad}$
$5 + 1 = \underline{\quad}$	$9 + 1 = \underline{\quad}$	$3 + 6 = \underline{\quad}$	$5 + 5 = \underline{\quad}$	$5 + 2 = \underline{\quad}$
$1 + 2 = \underline{\quad}$	$2 + 2 = \underline{\quad}$	$4 + 9 = \underline{\quad}$	$7 + 1 = \underline{\quad}$	$5 + 10 = \underline{\quad}$
$3 + 0 = \underline{\quad}$	$7 + 2 = \underline{\quad}$	$1 + 6 = \underline{\quad}$	$7 + 2 = \underline{\quad}$	$1 + 4 = \underline{\quad}$