


Séance 78 Comparons deux nombres

1 a)  Entoure le plus grand nombre.
 Écris sa lettre dans la case.

28	31
L	J

J

61	58
A	B

56	47
I	T

59	69
G	M

31	29
E	A

63	60
L	D

26	52
O	E

45	54
V	S



33	25
M	N

57	51
A	I

44	66
S	T


19	21
U	H

34	43
M	S

b)  Quel est le message secret ?

J' _____

2 a)  Entoure le plus petit nombre.

 Écris sa lettre dans la case.


65	35
S	T

30	39
R	A

64	46
U	E

21	28
S	N

62	56
E	A



42	34
T	M

44	66
U	I

58	68
S	R

37	29
V	A

56	48
M	N

29	45
T	B

b)  Quel est le message secret ?

Les maths, c'est _____