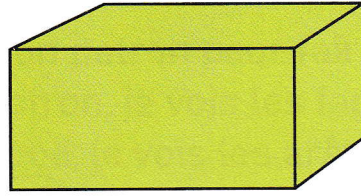
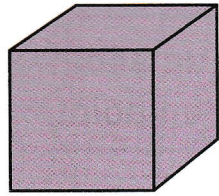
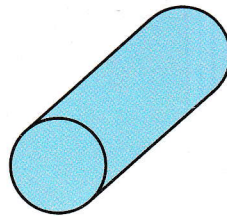



J'observe

Les cubes et les pavés droits ont chacun 6 surfaces planes.
 On peut les empiler.
 On ne peut pas les faire rouler.



Les cylindres ont 2 surfaces planes et 1 surface courbe.
 On peut les empiler.
 On peut les faire rouler.



1 Complète le tableau.

Solides	Nombre de ...		Peut-on les faire rouler ?	Peut-on les empiler ?
	surfaces planes	surfaces courbes		
