


# Comprendre le sens de la multiplication (3)

✓ Si je connais  $4 \times 6$ , alors je connais aussi  $6 \times 4$ .




$4 \times 6 = 24$   
 ou  
 $6 \times 4 = 24$


Dessine la boîte à gâteaux qui correspond à chaque multiplication.



$4 \times 3$




$3 \times 6$



$2 \times 5$

Écris les multiplications pour trouver le nombre de fleurs.

2



..... X ..... = .....  
 ou  
 ..... X ..... = .....

Relie.

$7 + 7$

$7 + 5$

14

16

13

$9 + 7$

15

12

$8 + 7$