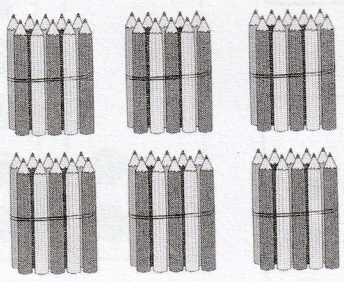

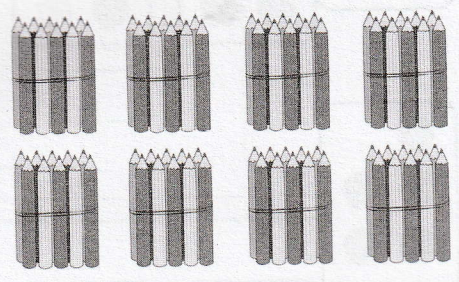
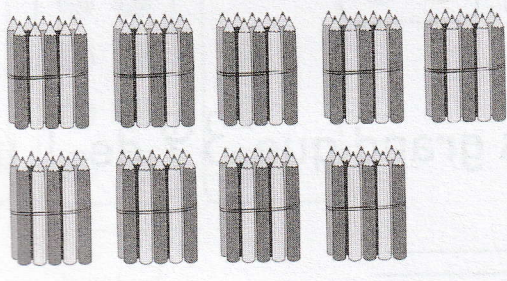


10. Les nombres jusqu'à 100

Activité 2

Séance 82 - Dizaines et unités (1)

1 Écris les nombres manquants.  
Précise le nombre de dizaines et d'unités  
pour chaque nombre.

a)	 soixante	60	
		dizaines <input type="text"/>	unités <input type="text"/>
b)	 soixante-dix	<input type="text"/>	
		dizaines <input type="text"/>	unités <input type="text"/>
c)	 quatre-vingts	<input type="text"/>	
		dizaines <input type="text"/>	unités <input type="text"/>
d)	 quatre-vingt-dix	<input type="text"/>	
		dizaines <input type="text"/>	unités <input type="text"/>