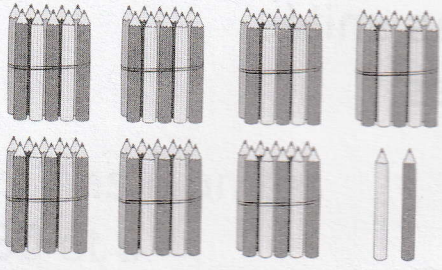
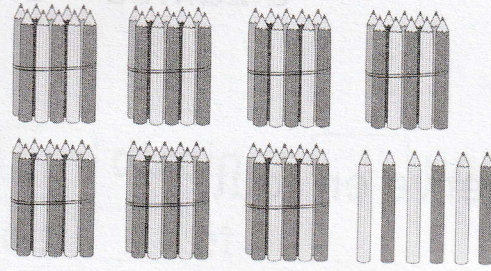




**2** Écris le nombre de dizaines et d'unités pour chaque nombre.

|   |                                  |                                |
|---|----------------------------------|--------------------------------|
| <p>a)</p>  <p>soixante-douze</p>       | <b>72</b>                        |                                |
|   | dizaines<br><input type="text"/> | unités<br><input type="text"/> |
| <p>b)</p>  <p>soixante-seize</p>      | <b>76</b>                        |                                |
|   | dizaines<br><input type="text"/> | unités<br><input type="text"/> |
| <p>c)</p>  <p>quatre-vingt-trois</p> | <b>83</b>                        |                                |
|   | dizaines<br><input type="text"/> | unités<br><input type="text"/> |
| <p>d)</p>  <p>quatre-vingt-onze</p>  | <b>91</b>                        |                                |
|   | dizaines<br><input type="text"/> | unités<br><input type="text"/> |

e) Quel nombre est plus grand que 99 de 1 unité ?

\_\_\_\_\_