

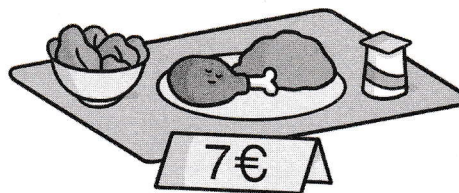
Date :

Prénom :

Les 5 membres d'une famille ont mangé à la cafétéria.
Ils ont tous commandé le même menu.
Combien d'argent cette famille a-t-elle dépensé en tout ?

$$\square \circ \square = \square$$

Cette famille a dépensé \square € en tout.



2 crayons mis bout à bout mesurent 16 cm.
Les 2 crayons ont la même longueur.
Quelle est la longueur de chaque crayon ?

$$\square \circ \square = \square$$

Chaque crayon mesure \square cm.

Dans une boîte, il y a 10 pochettes.
Dans chaque pochette, il y a 10 cartes à collectionner.
Combien de cartes à collectionner y a-t-il dans la boîte ?

$$\square \circ \square = \square$$

Il y a \square cartes à collectionner dans la boîte.

Un assortiment de magnets coûte 50 €.
Chaque magnet coûte 5 €.
Combien y a-t-il de magnets dans un assortiment ?

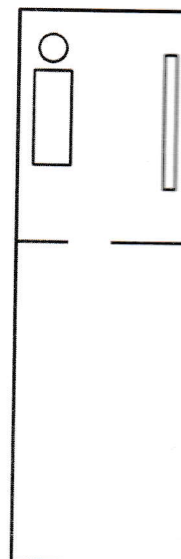
$$\square \circ \square = \square$$

Il y a \square magnets dans un assortiment.

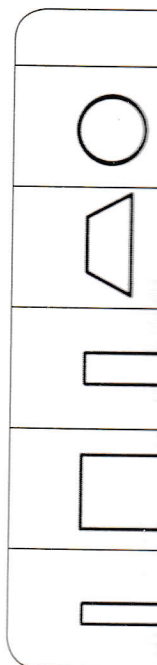
Séance

1 Voici le

Secrétaire



Entrée



a) Choisir

b) Comparer
d'objets