
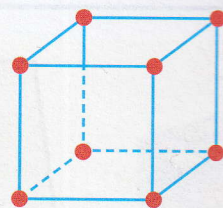



J'observe

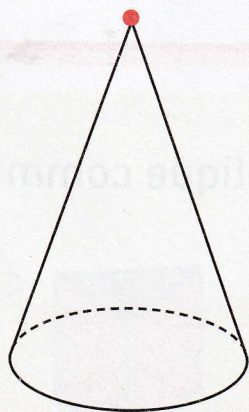


J'ai plié un patron pour faire un cube.
Sur le patron, je vois les faces.
Sur le cube, je vois les arêtes.



Un **patron** est une figure plane qu'on plie pour former un solide.
Alice a numéroté en vert les faces sur le patron.
Elle a aussi repassé les arêtes en bleu sur le cube.

Ce cône n'a qu'un sommet.



Ce cône n'a aucune face. Pourquoi ?



- En quoi un cône et une pyramide sont-ils semblables ?
En quoi sont-ils différents ?

