



J'observe

Combien d'enfants y a-t-il derrière les 3 vitres du bus ?




3 groupes de 3 font 9.
 $3 \times 3 = 9$

Je compte de 3 en 3 : 3, 6, 9.



Il y a enfants.

Combien d'enfants y a-t-il derrière les 4 vitres du bus ?



4 groupes de 3 font 12.

$$4 \times 3 = \text{}$$

Je compte de 3 en 3 : 3, 6, 9, 12.



Il y a enfants.