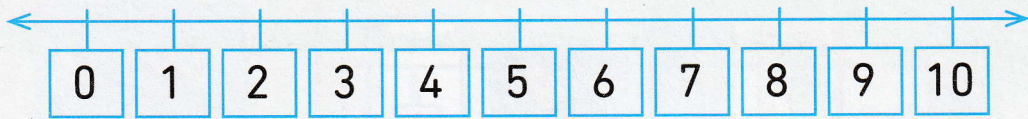


- 1 Combien y a-t-il de rouleaux de papier cadeau ?  
Aide-toi de la bande numérique pour compter.




a)



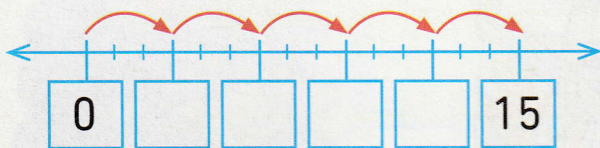
$$2 \times 3 = \square$$

b)



$$3 \times 3 = \square$$

- 2 a) Compte de 3 en 3 de 0 à 15.



- b) Compte de 3 en 3 de 15 à 30.

