

Séance 66 Multiplier ou diviser ?

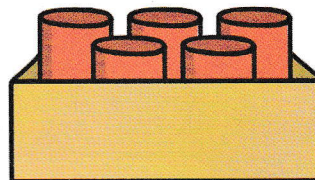
Calcul mental Que manque-t-il ? - Guide pédagogique

Exercices pp. 115-116 - Fichier photocopiable

- 1 Marie a 20 boîtes de conserve.
Elle en met 5 dans chaque carton.
Combien lui faut-il de cartons ?

$$\square \circ \square = \square$$


Il lui faut cartons.



- 2 Abel paye 10 € pour 5 sandwichs.
Quel est le prix de chaque sandwich ?

$$\square \circ \square = \square$$

Chaque sandwich coûte €.



- 3 Chaque tour de manège coûte 5 €. Diego fait 8 tours.
Combien paye-t-il en tout ?


$$\square \circ \square = \square$$

Il paye € en tout.

- 4 70 tabourets sont disposés en 10 rangées égales.
Combien de tabourets y a-t-il par rangée ?

$$\square \circ \square = \square$$

Il y a tabourets par rangée.



- 5 Il y a 2 bus et 10 enfants à bord de chaque bus.
Combien d'enfants y a-t-il en tout ?

$$\square \circ \square = \square$$

Il y a enfants en tout.

