

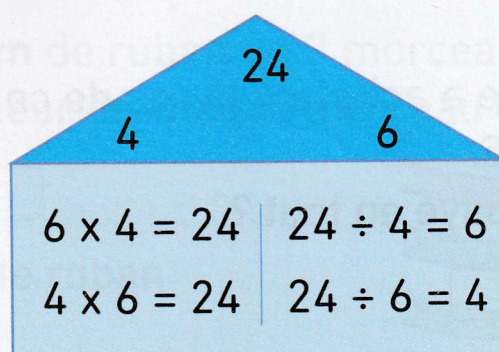


J'observe



Répartis 24 
en 6 groupes égaux.
 $24 \div 6 = 4$
 $6 \times 4 = 24$
Il y a 4 jetons
par groupe.

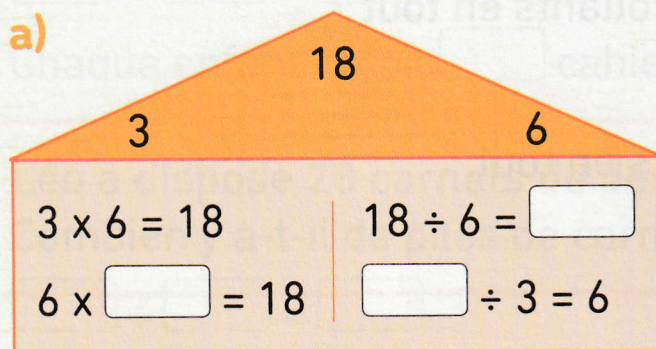
Répartis 24 
en 4 groupes égaux.
 $24 \div 4 = 6$
 $4 \times 6 = 24$
Il y a 6 jetons
par groupe.



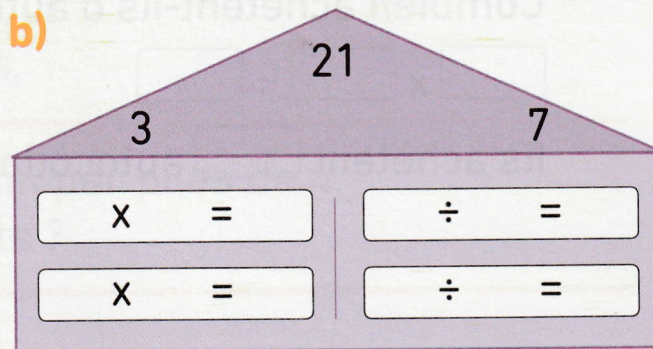
4, 6 et 24 forment une famille de nombres qui permet de faire des multiplications et des divisions.

1 Complète les opérations.

a)



b)



2 Trouve les familles de nombres dont 12 est le plus grand nombre.

Écris les multiplications et les divisions correspondantes.