












- 2** a) Compte de 2 en 2 à partir de 0 et trace un  autour de chaque nombre.
- b) Compte de 3 en 3 à partir de 0 et trace un  autour de chaque nombre.
- c) Compte de 4 en 4 à partir de 0 et trace un  autour de chaque nombre.

0	1		3		5	6	7	8	9	10
	11	12	13	14	15	16	17	18	19	
	21	22	23	24	25	26	27	28	29	
	31	32	33	34	35	36	37	38	39	
	41	42	43	44	45	46	47	48	49	50

d) Complète.

- Autour de quels nombres as-tu tracé un  et un  ?

---

- Autour de quels nombres as-tu tracé un , un  et un  ?

---