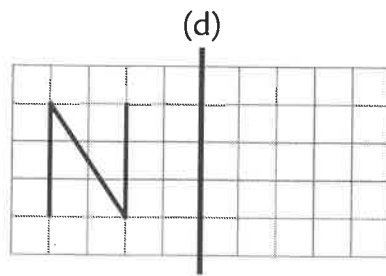


- 1 La maîtresse a demandé de tracer le symétrique de la figure par rapport à l'axe (d).




Voici les dessins de Chloé, Ethan et Julie. Un seul a correctement répondu.


Entoure son dessin.




• Chloé  
(d)



• Ethan  
(d)



• Julie  
(d)



- 2 Trace le symétrique de chaque figure par rapport à l'axe (d).

