
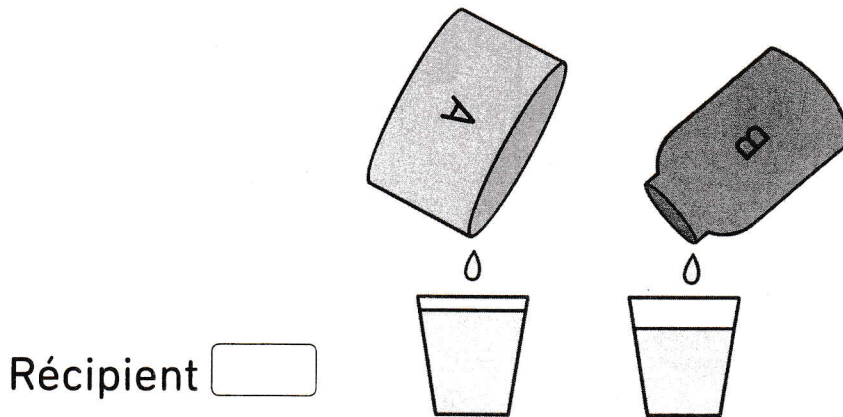



3 Les récipients A, B et C contiennent du jus d'orange.



a) Entre les récipients A et B, quel récipient contenait le plus grand volume de jus d'orange ?



b) Entre les récipients B et C, quel récipient contenait le plus grand volume de jus d'orange ?



c) Quel récipient contenait le plus grand volume de jus d'orange ?
Récipient

d) Quel récipient contenait le plus petit volume de jus d'orange ?
Récipient