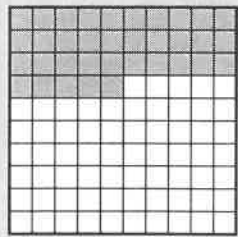



# Problèmes 7\*

1 Écris de deux manières différentes la fraction qui correspond à la partie coloriée de l'unité, comme dans l'exemple.



$\frac{35}{100}$  de l'unité


35 % de l'unité



..... de l'unité

.....


..... % de l'unité



..... de l'unité

.....

..... % de l'unité



..... de l'unité

.....

..... % de l'unité

2 Relie chaque pourcentage à la description qui lui correspond.

100 %

50 %

25 %

Le quart

Tout

La moitié


3 Jonas collectionne les timbres.

Le grand carré ci-contre représente les 200 timbres de sa collection.

- **Entoure** la bonne réponse.

Chaque petit carré représente...

1 timbre / 200 : 100 = 2 timbres / 200 - 100 = 100 timbres



- **Complète.**

1 % des timbres de la collection sont anglais donc Jonas possède ..... timbres anglais.

2 % des timbres de la collection sont suisses donc Jonas possède ..... timbres suisses.