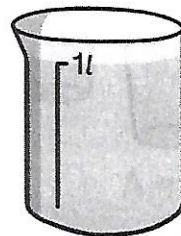


J'observe




Voici un verre doseur de 1 litre.
Le litre est une unité de volume.
On écrit « l » pour litre.

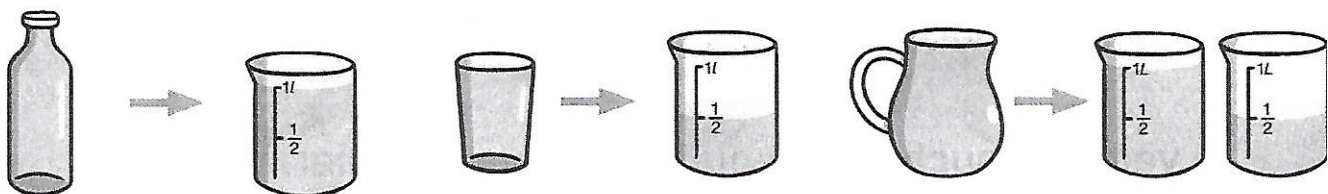


Cette brique contient un volume de 1 litre de lait.

- 1 Estime le nombre de verres que tu peux remplir avec un litre d'eau.



- 2 Complète les phrases.



a) La bouteille contenait _____ l d'eau.

b) Le verre contenait _____ l d'eau.

c) Le récipient qui contenait plus de 1 l d'eau est _____.