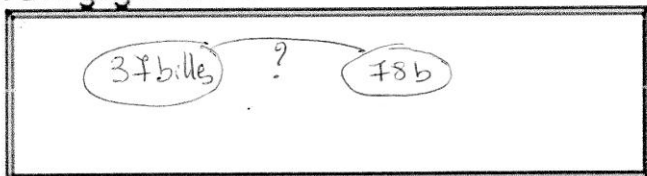


PROBLEMES 2

1) À la récréation, Théo joue aux billes. Au début de la partie, il possède 37 billes. A la fin il a 78 billes.

Combien a-t-il gagné de billes ?

Schéma :



Réponse :

Il a gagné 41 billes.

Calcul :

$$\begin{array}{r} 78 \\ - 37 \\ \hline 41 \end{array} \quad \text{ou}$$

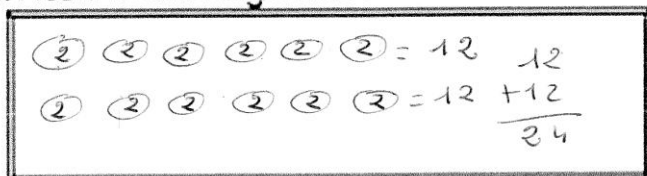
$$37 \rightarrow 40 \rightarrow 70 \rightarrow 78 \\ +3 \quad +30 \quad +8 \\ 30 + 8 + 3 = 41$$

2) Pour une fête, Maelle a acheté 12 paquets de gâteaux.

Chaque paquet contient 2 gâteaux.

Combien Maelle a-t-elle de gâteaux ?

Schéma :



Réponse :

Elle a 24 gâteaux.

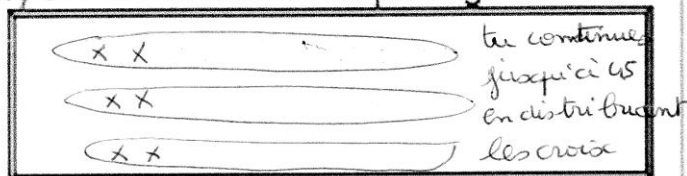
Calcul :

$$12 \times 2 = 24 \\ \downarrow \\ 10 \times 2 = 20 \\ 2 + 2 = 24 \quad \left. \begin{array}{l} 20 + 4 \\ = 24 \end{array} \right\}$$

3) Un jardinier a planté 45 salades. Il a fait trois rangées. Il a mis le même nombre de salades dans chaque rangée.

Combien y a-t-il de salades dans chaque rangée ?

Schéma :



Réponse :

Il y a 15 salades.

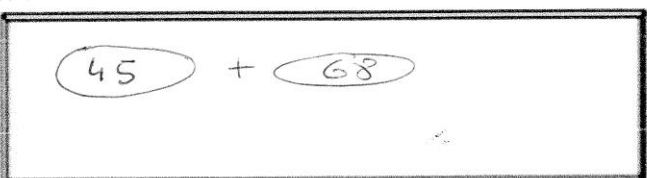
Calcul :

$$15 + 15 + 15 = 45.$$

4) Enzo a 45 œufs en chocolat. Sa tante lui en donne encore 68.

Combien d'œufs a-t-il en tout ?

Schéma :



Réponse :

Il a 113 œufs en tout.

Calcul :

$$\begin{array}{r} 1 \\ 45 \\ + 68 \\ \hline 113 \end{array}$$