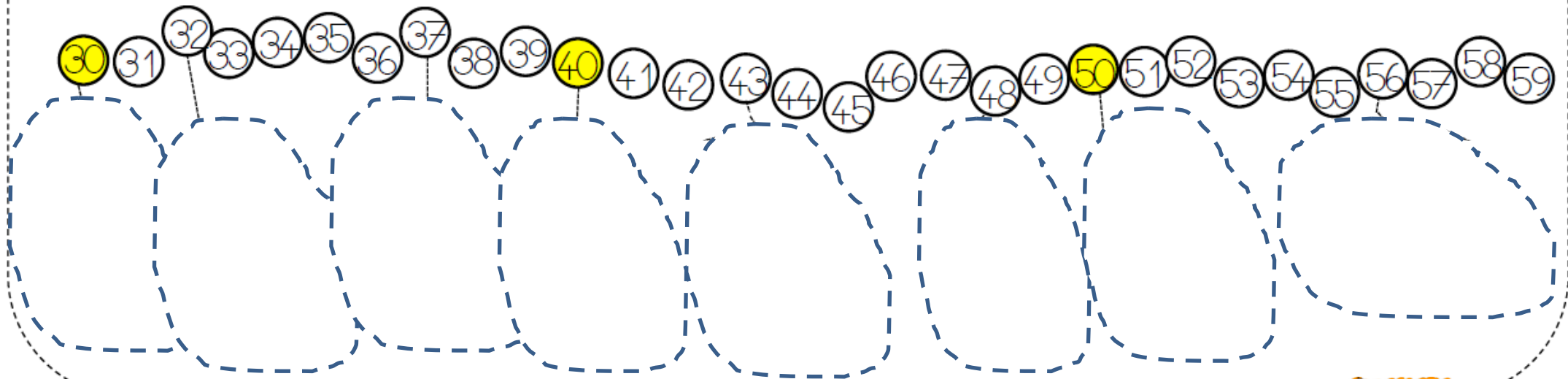
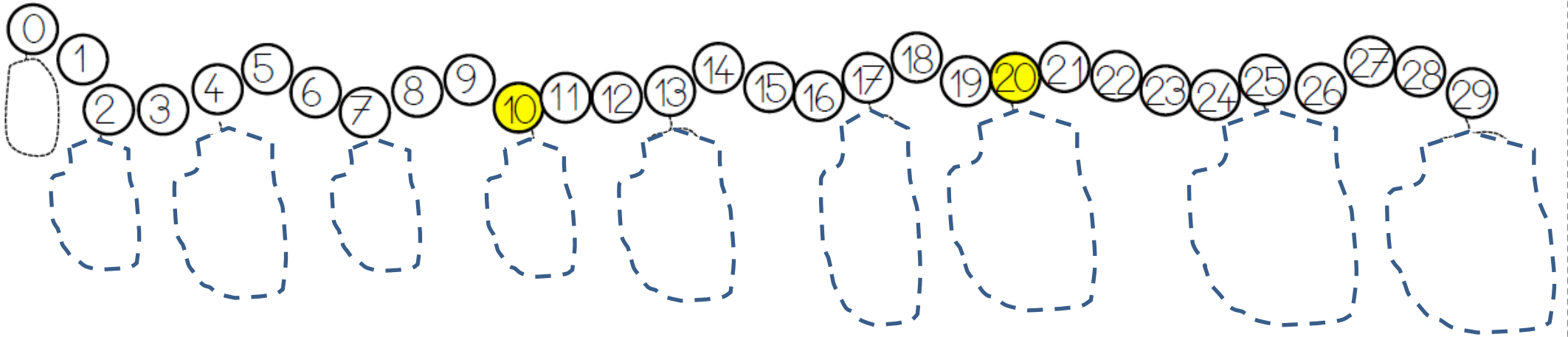
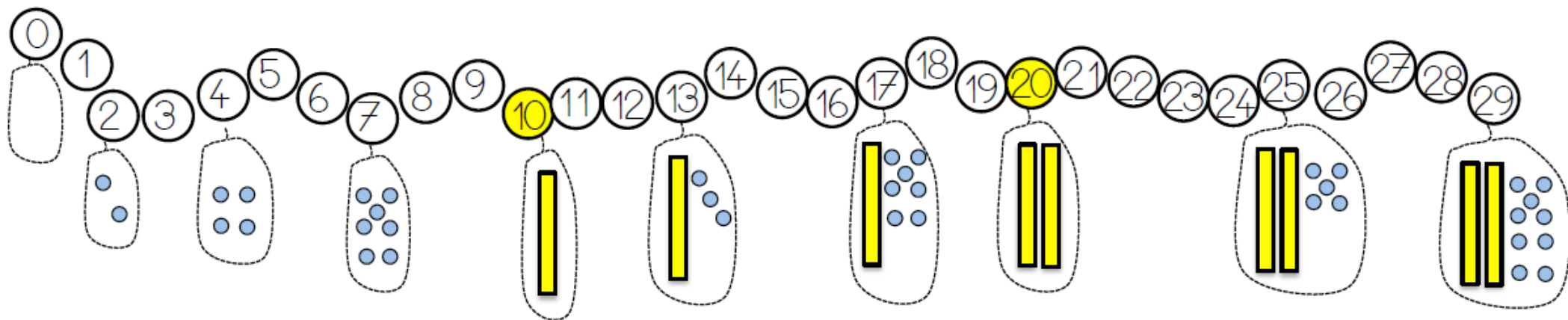


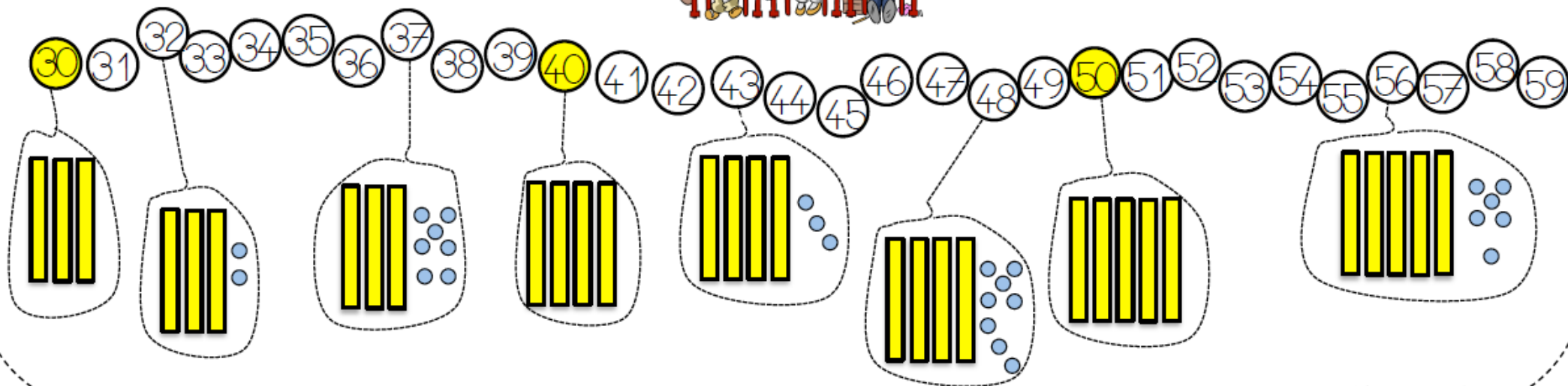
Les nombres de 0 à 59 : les dizaines et les unités



Les nombres de 0 à 59 : les dizaines et les unités



34 : c'est 3 dizaines et 4 unités 20 c'est 2 dizaines Une dizaine c'est 10 unités !



Les nombres jusqu'à 59

Pour lire les nombres à 2 chiffres, il faut connaître la suite : **vingt, trente, quarante, cinquante**, puis savoir à quelle famille appartient le nombre que l'on veut lire.

- S'il commence par : 2 dizaines,
→ c'est la famille des **vingt** : 20, 21, 22 ...
- S'il commence par : 3 dizaines,
→ c'est la famille des **trente** : 30, 31, 32 ...
- S'il commence par : 4 dizaines,
→ c'est la famille des **quarante** : 40, 41, 42 ...
- S'il commence par : 5 dizaines,
→ c'est la famille des **cinquante** : 50, 51, 52 ...

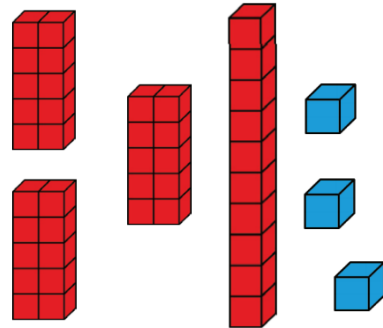
43

4 dizaines et 3 unités

$40 + 3$

quarante – trois

(3 cases après 40)



Je m'entraîne (avec l'aide d'un adulte)

- Ecrire un nombre compris entre 19 et 59 et demander à l'enfant de le lire puis de dire à quelle famille il appartient.
- Nommer le nombre de dizaines et le nombre d'unités.
- Demander à l'enfant d'écrire en chiffres un nombre dicté compris entre 19 et 59.

Les nombres de 0 à 59 : les dizaines et les unités

