


✓ Je connais les décompositions des nombres 13, 14, 15 et 16.


13	14	15	16
3+10 10+..... 4+9 9+..... 5+8 8+..... 6+7 7+.....	4+10 10+..... 5+9 9+..... 6+8 8+..... 7+7	5+10 10+..... 6+9 9+..... 7+8 8+.....	6+10 10+..... 7+9 9+..... 8+8

Complète.

1




8 + 5 = 13 + = + =



..... + = + = + =

Trace à main levée et colorie.



Relie.

2

14+0

9+2 12+2

8+6 6+4

5+7 9+5

7+7

14

Complète.

3

9+5

7+..... 14+.....

11+..... 2+.....

8+..... 5+.....

13+.....

14

Complète.

4

10 + 6 10 + 4 9 + 4

16

9 + 6

.....

13

9 +

15

..... + 5

14

8 +

16

..... + 7

Trace à main levée et colorie.

