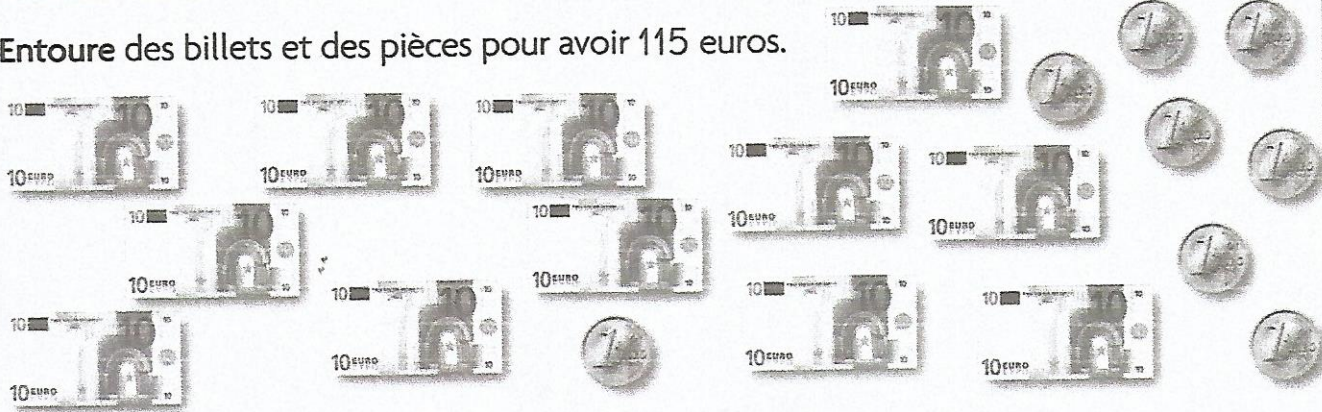


Décomposer des nombres

2 Entoure des billets et des pièces pour avoir 115 euros.



3 Complète.

$$100 + 10 + 10 + 10 + 10 + 10 + 10 + 10 + 10 + 10 + 10 + 10 = \dots\dots\dots$$

$$200 + 40 + 7 = \dots\dots\dots$$

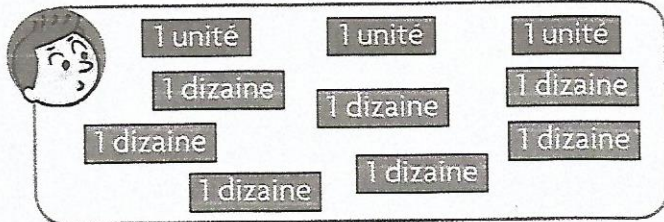
$$60 + 8 + 300 = \dots\dots\dots$$

$$70 + 500 = \dots\dots\dots$$

$$9 + 300 = \dots\dots\dots$$

Soustraire

4 Complète.

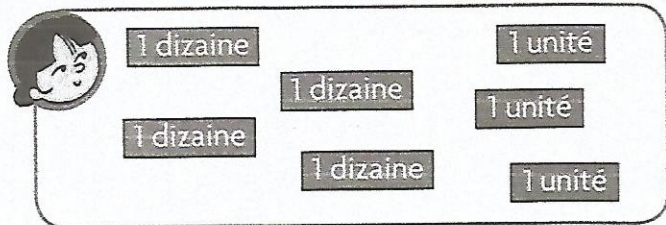


• Alex doit donner 3 dizaines et 2 unités à Lisa.

Il lui restera

..... dizaine(s) et unité(s).

5 Complète.



• Lisa doit donner 1 dizaine et 6 unités à Alex.

Il lui restera

..... dizaine(s) et unité(s).