
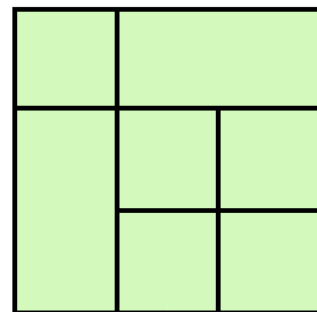


N°1 On a écrit le mot « bonbon » avec des morceaux de sucre.
Mais certains morceaux ont disparu.

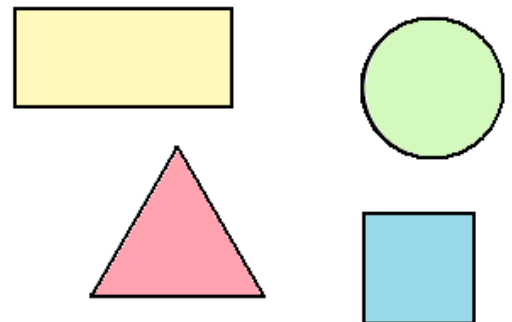


Combien manque-t-il de morceaux de sucre ?

N°2 Combien y a-t-il de carrés dans cette figure ?




N°3 Il y a une lettre par figure.
La lettre A n'est pas dans le carré.
La lettre B est dans le cercle.
La lettre C n'est pas dans une figure à 4 côtés.



Dans quelle figure se trouve chaque lettre ?

N°4 « Au secours ! crie Madame rouge-gorge.
Monsieur Coucou a rajouté un œuf dans
mon nid ! »

Combien y avait-il d'œufs dans le nid de
Madame rouge-gorge avant l'arrivée de
Monsieur Coucou ?



N°5 Place les nombres dans la grille de façon à
ce que la somme de la ligne et la somme
de la colonne soient les mêmes.

