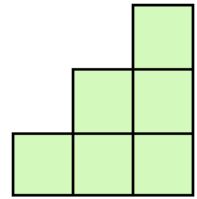


**N°1** Pour construire cet escalier à 3 marches, j'ai utilisé 6 cubes.

Combien faut-il de cubes en tout pour construire un escalier à 5 marches ?



**N°2** Olivier fait un sourire. Julien a des lunettes. Mathéo porte une casquette.  
Où est Arthur ?



A



B



C



D

**N°3** Zyk est un élève extraterrestre qui fait toutes ses opérations justes.  
Quel est le résultat de la dernière opération ?

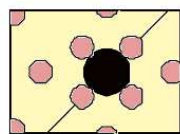
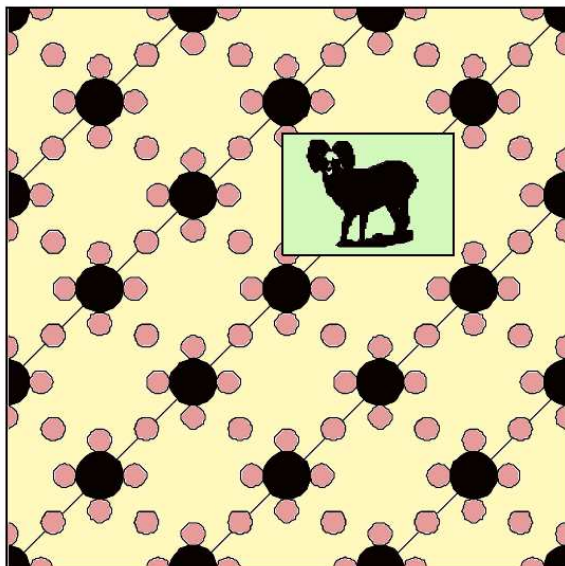
$$4 \times 2 = 5$$

$$8 \times 4 = 11$$

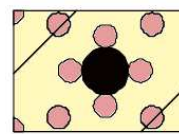
$$3 \times 2 = 4$$

$$3 \times 4 = \dots$$

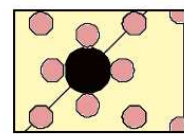
**N°4** Quel morceau de tapisserie y a-t-il derrière la photo ?



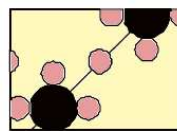
1



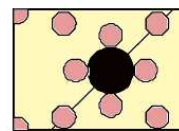
2



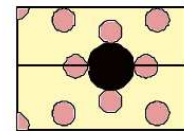
3



4



5



6

**N°5** Observe les deux dessins et range les fruits du plus lourd au plus léger.

