
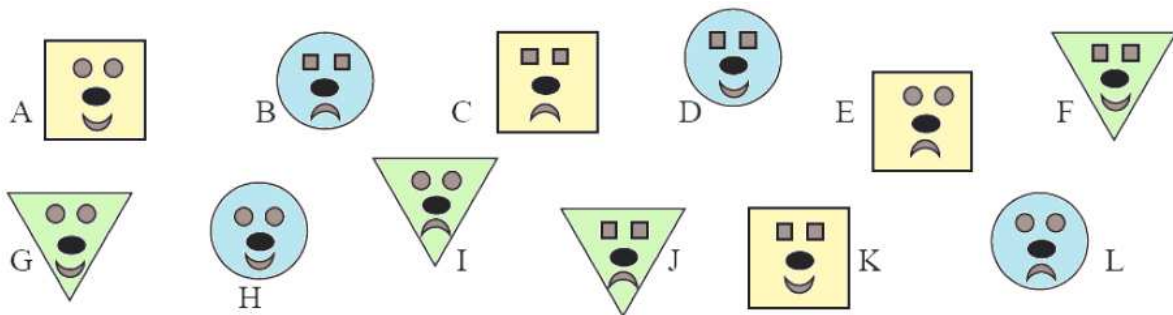


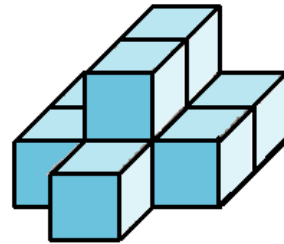
N°1 Trois ânes de promènent sur un chemin.
Sur chaque âne, il y a deux paniers.
Dans chaque panier, il y a un couple de canards.
Chaque couple est accompagné de quatre canetons.
Combien d'animaux y a-t-il ?



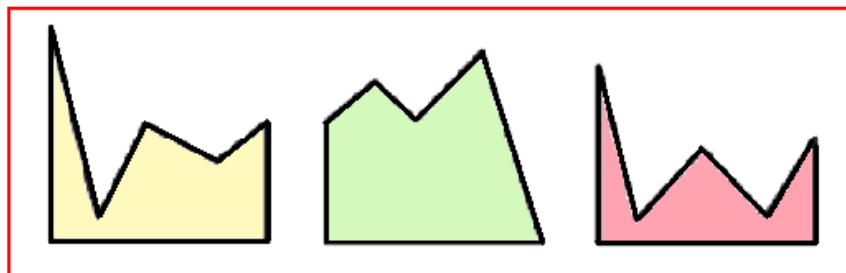
N°2 Nicolas a perdu son masque. Il dit : « Mon masque n'est pas carré. Il n'est pas souriant.
La forme des yeux est la même que la forme du masque. »
Quelle est la lettre du masque de Nicolas ?






N°3 **Combien y a-t-il de cubes dans cette construction ?**



N°4 **Avec quelle figure doit-on compléter la figure bleue pour obtenir un carré ?**



N°5 **Observe le prix de chaque lot et trouve le prix du dernier lot.**

 9 €	 8 €	 ...?... €
---	---	--