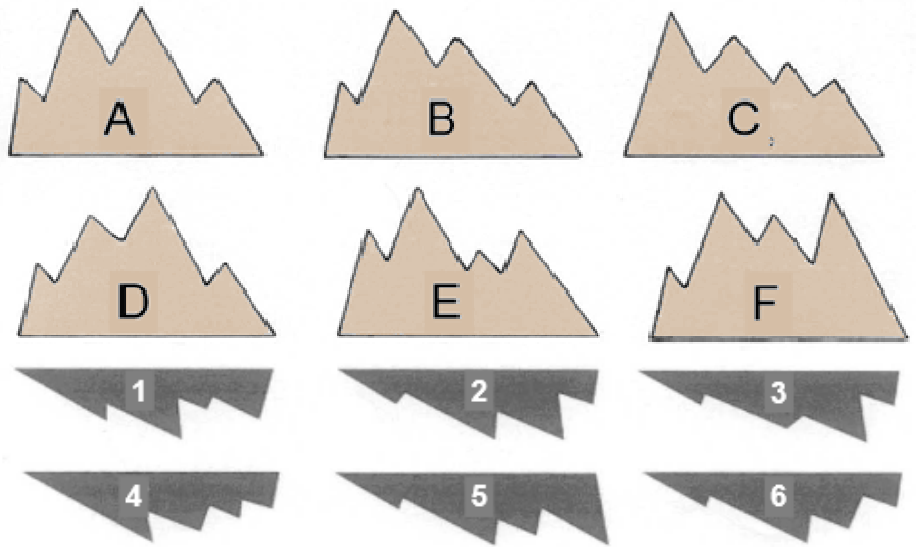
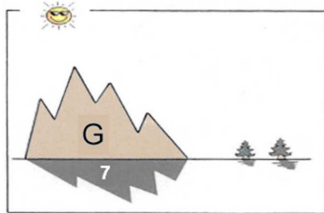


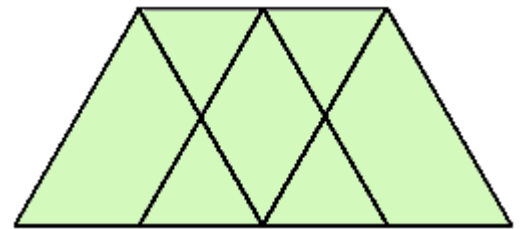
N°1 Observe la première balance et dessine ce qu'il faut sur le plateau de la deuxième balance.



N°2 Retrouve l'ombre de chaque montagne.



N°3 Combien y a-t-il de triangles dans cette figure ?



N°4 Observe la suite, trouve la règle et complète.



N°5 Enlève deux allumettes pour que cette opération soit juste.

