

## Texte 1



**C'est l'histoire de trois sœurs, Porceline, Porcelette et Porcelilou.** Un jour leur maman leur dit : « Vous êtes maintenant bien grandes et avez l'âge de quitter votre mère pour vivre sous votre propre toit et trouver un compagnon. Mais prenez garde au loup ! » Porceline, la plus coquette, aimait le luxe, la mode et le confort. Elle s'installa dans une grande maison en pierre. Porcelette, par goût de la nature et du grand air, choisit un peu plus loin un joli chalet de bois. À deux pas de là, Porcelilou, la plus insouciante des trois, se contenta d'une simple meule de paille.

**Ce matin-là, Porceline voit s'avancer un cochon vêtu comme un milord.**

« Charmante dame, ouvrez-moi votre cœur et votre porte et je vous offrirai des robes tissées d'or et des bijoux. Vous mènerez la vie d'une vraie femme du monde. » « Il est riche, élégant, il sait parler : voilà le mari qu'il me faut ! » se dit-elle. Sifflot la porte ouverte, le riche cochon se jette sur elle. Hélas, pauvre Porceline ! C'est un loup déguisé ; il n'en fait qu'une bouchée, puis remet son masque.

**Un peu plus tard, Porcelette voit s'approcher de son chalet un cochon à carrure de bûcheron.** « Belle amie, ouvre-moi ton cœur et nous passerons ensemble les meilleures saisons de notre vie. » « Il est costaud, il protégera notre chalet et cultivera le potager : c'est le mari qu'il me faut ! » pense-t-elle. À peine a-t-elle ouvert sa porte que le cochon costaud se jette sur elle. Hélas, pauvre Porcelette ! Le loup déguisé ne fait d'elle qu'une bouchée, remet son masque, puis s'allonge à l'ombre d'un saule.



## Porceline, Porcelette et Porcelilou

### Texte 2



**Soudain, il se réveille en sursaut :** il voit arriver un autre loup au regard si féroce que la peur le saisit : « Hé, pas de blague ! Je ne suis pas un cochon, c'est un déguisement. Je suis un loup comme toi ; la preuve : je viens d'avalé Porceline et Porcelette. – Porceline et Porcelette ? s'étonne le second loup.

Alors je ne donne pas cher de ta peau : comme toute la tribu porcine de la région, elles couvent une fièvre mortelle et contagieuse. » À ces mots, glacé d'effroi, le loup déguisé ouvre une large gueule et rend Porceline et Porcelette à la lumière et à l'air pur aussi vite qu'il les avait avalées. Toutes vivantes encore, bien qu'un peu étourdies, les deux sœurs retrouvent leurs esprits. « Et si tu veux vraiment échapper à la fièvre fatale, reprend le second loup, tu dois courir en ligne droite pendant une journée entière sans t'arrêter jamais. » Hélas, pauvre loup ! Il court peut-être encore s'il n'est pas déjà mort d'épuisement.

**Mais il ne sut jamais** qu'il devait sa déroute à l'ingénieuse et courageuse Porcelilou qui, pour sauver ses deux sœurs, avait revêtu un costume de loup.

Et c'est ainsi que les trois sœurs vécurent ensuite en paix. Chacune rencontra un brave cochon et toutes trois furent heureuses pendant de longues années dans la maison de pierre, dans le chalet de bois et sous la meule de paille.





10 minutes

autonomie

### Activité 1 *Associe un pronom à une forme verbale.*

Comprendre comment se forment les verbes et orthographier les formes verbales les plus fréquentes.

Indique le pronom de conjugaison qui convient.

- ★ aperçois les remparts de la ville.
- ★ buvait volontiers du lait à la fraise.
- ★ voulez visiter ce musée à tout prix.
- ★ faisons des efforts pour rejoindre le groupe.
- ★ ai toujours le temps !
- ★ choisissent leur matériel avec attention.
- ★ prend le bus pour aller à l'école.
- ★ irons marcher le long de la mer.
- ★ pars en tête du peloton.
- ★ associent le début avec la fin.
- ★ finira son repas même si \_\_\_\_\_ n'a pas faim !

### Activité 2 *Je suis et je compare des nombres.*

Écrire et comparer des nombres inférieurs à 10 000.

Réponds en écrivant les nombres en chiffres :

Quel nombre se trouve avant 1 000 ? \_\_\_\_\_ Quel nombre se trouve avant 5 500 ? \_\_\_\_\_

Quel nombre se trouve après 3 019 ? \_\_\_\_\_ Quel nombre se trouve après 6 999 ? \_\_\_\_\_

Quel nombre se trouve après 1 100 ? \_\_\_\_\_ Quel nombre se trouve avant 9 000 ? \_\_\_\_\_

|     |       |     |     |       |       |       |     |       |       |
|-----|-------|-----|-----|-------|-------|-------|-----|-------|-------|
| 498 | 1 012 | 865 | 208 | 2 707 | 3 009 | 2 409 | 572 | 2 007 | 7 500 |
|-----|-------|-----|-----|-------|-------|-------|-----|-------|-------|

Parmi ces nombres, recopie ceux qui sont :

Plus petits que 1 000 ? \_\_\_\_\_

Plus grands que 2 500 ? \_\_\_\_\_

Plus grands que 2 000 et plus petits que 5 000 ? \_\_\_\_\_

Compare ces nombres en utilisant les signes <, > ou =.

909 \_\_\_\_\_ 1 002      500 + 50 + 2 \_\_\_\_\_ 500 + 20 + 20 + 12

457 \_\_\_\_\_ 547      (6 × 1 000) + (5 × 100) + 4 \_\_\_\_\_ 6 054

9 899 \_\_\_\_\_ 9 998      (70 × 100) + (9 × 10) + 5 \_\_\_\_\_ 7 000 + 80 + 15

### Activité 1 *Je situe des sommets de montagnes françaises.*

Situer des sommets de montagnes françaises.

À l'aide d'une encyclopédie, trace une flèche entre chaque sommet et l'endroit où il se situe sur la carte de France.



20 minutes

accompagné



Le Plomb du Cantal  
1 855 m



Le ballon d'Alsace  
1 247 m



Le pic d'Aneto 3 404 m



Le Mont Blanc 4 810 m

Vérifie tes réponses sur le livre numérique.



# 10 • Le relief de la France



la plaine d'Alsace






un sommet des Vosges




un pic enneigé des Alpes

## Légende

-  Montagnes
-  Collines et plateaux
-  Régions peu élevées



la chaîne des Pyrénées



le Massif Central

1. Observe les dessins.  
Relie par une flèche chaque dessin à sa région sur la carte.
2. En te servant de la légende, retrouve sur la carte et colorie :  
les montagnes (marron), les collines et les plateaux (jaune), régions peu élevées (vert clair).
3. Quelle montagne doit-on traverser :  
pour aller : de France en Espagne ? .....  
d'Italie en France ? .....
4. Relie par un trait les villes suivantes : Orléans - Bordeaux - Toulouse - Avignon - Lyon - Dijon - Orléans.  
Quelle région montagneuse cet itinéraire contourne-t-il ? .....