

# CORRECTIONS

Vendredi 15 mai

## Français – Lecture et compréhension de l'écrit – p.58

### Questions

2. Il va chez le pâtissier.
3. Il mange un énorme gâteau plein de sucre et de miel pour rendre sa voix plus douce.
4. Le plus rusé est le chevreau noir.
5. C'est sa grosse patte noire et velue qui trahit le loup.


## Le projet – Voyage autour du monde




le lagon



les récifs  
de corail



un  
Polynésien

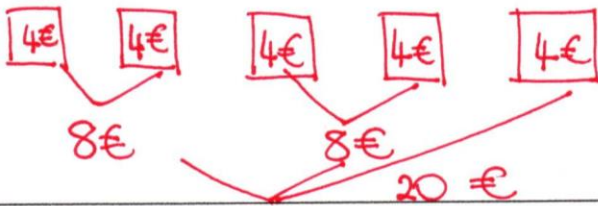


un faré - un va'a

# Mathématiques

Maïssane va à la fête foraine. Elle monte sur 5 manèges. Chaque manège coûte 4 euros.  
Combien a-t-elle dépensé ?

Schéma :



Calcul :

$$4 + 4 + 4 + 4 + 4 = 20$$

$$5 \times 4 = 20$$

Phrase réponse :

Elle a dépensé 20 €.

1 Écris ces additions sous forme de multiplications et calcule.

$$20 + 20 + 20 + 20 = 4 \times 20 = 80$$

$$100 + 100 + 100 + 100 = 4 \times 100 = 400$$

$$3 + 3 + 3 + 3 + 3 + 3 + 3 + 3 + 3 + 3 = 10 \times 3 = 30$$

2 Écris ces multiplications sous forme d'additions et calcule.

$$8 \times 100 = 100 + 100 + 100 + 100 + 100 + 100 + 100 + 100 = 800$$

$$9 \times 5 = 5 + 5 + 5 + 5 + 5 + 5 + 5 + 5 + 5 = 45$$

$$3 \times 6 = 6 + 6 + 6 = 18$$

3 Calcule et colorie de la même couleur les étiquettes qui contiennent le même nombre.

$$8 + 8 + 8 + 8$$

$$5 \times 4$$

$$7 + 7 + 7 + 7 + 7 + 7$$

$$4 \times 6$$

$$6 \times 7$$

$$2 + 2 + 2 + 2 + 2 + 2 + 2 + 2$$

$$4 + 4 + 4 + 4 + 4$$

$$7 \times 5$$

$$6 + 6 + 6 + 6$$

$$4 \times 8$$

$$5 + 5 + 5 + 5 + 5 + 5 + 5$$

$$8 \times 2$$

