

Activité 1 Je conjugue le verbe être au futur.

Comprendre comment se forment les verbes et orthographier les formes verbales les plus fréquentes.

Complète les phrases avec le verbe être au futur de l'indicatif.

Si vous mangez trop, vous _____ malades. L'année prochaine, je _____ dans l'équipe de football de mon frère. Tu ne _____ pas seul à aller dans cette école. Ces deux chiens ne _____ pas propres après avoir joué dans la boue.

Activité 2 Je conjugue le verbe avoir au futur.

Comprendre comment se forment les verbes et orthographier les formes verbales les plus fréquentes.

Complète les phrases avec le verbe avoir au futur de l'indicatif.

Elle _____ plus de chance la prochaine fois. Durant cette semaine, nous _____ le temps de nous amuser. À Noël, tu _____ un nouveau jeu vidéo.

Activité 3 Je conjugue le verbe être à l'imparfait.

Comprendre comment se forment les verbes et orthographier les formes verbales les plus fréquentes.

Complète les phrases avec le verbe être à l'imparfait de l'indicatif.

Hier, elle _____ à la piscine. Les oiseaux _____ en vol groupé. J' _____ très en retard. Vous _____ en colère.

Activité 4 Je conjugue le verbe avoir à l'imparfait.

Comprendre comment se forment les verbes et orthographier les formes verbales les plus fréquentes.

Complète les phrases avec le verbe avoir à l'imparfait de l'indicatif.

J' _____ un petit chien. Nous _____ envie de nous baigner. Les petites filles _____ une glace après chaque repas. Vous _____ soif. Tu _____ très chaud.

Activité 5 J'associe verbe conjugué et infinitif.

Comprendre comment se forment les verbes et orthographier les formes verbales les plus fréquentes.

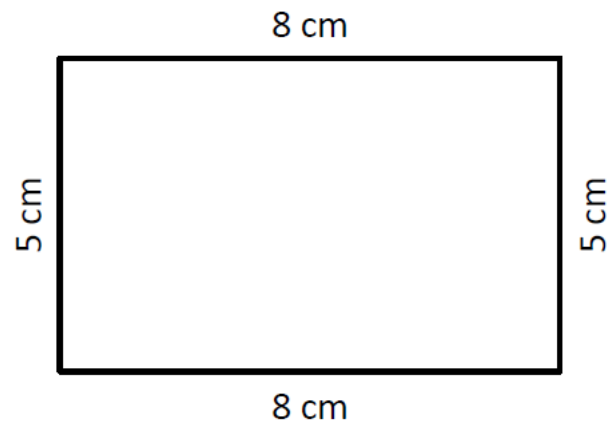
Indique pour chaque phrase l'infinitif du verbe conjugué.

- ★ Il aura dix ans bientôt _____
- ★ Tu viendras à l'école après les vacances. _____
- ★ Il semblait très cordial. _____
- ★ Vous êtes infatigables. _____
- ★ Il faisait nuit depuis longtemps. _____
- ★ Nous partirons demain. _____
- ★ Vous aurez bientôt faim et soif. _____
- ★ Peux-tu me donner l'heure ? _____

Le périmètre d'une figure

Le **périmètre** d'une figure, c'est la longueur de son contour.

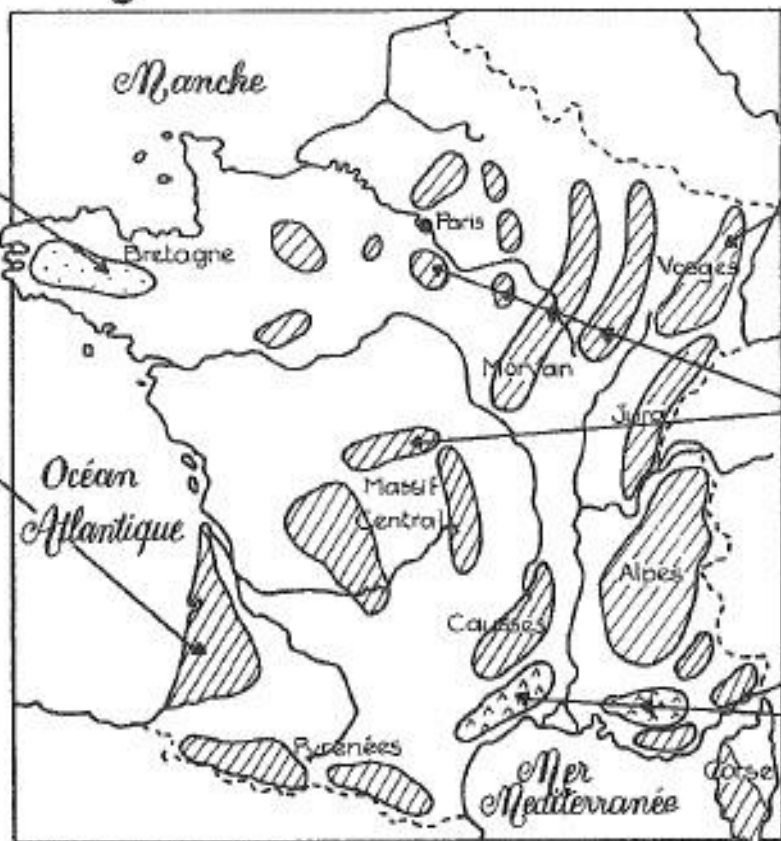
Pour calculer le périmètre d'une figure, on additionne les longueurs de tous ses côtés.



$$5 + 8 + 5 + 8 = 26$$

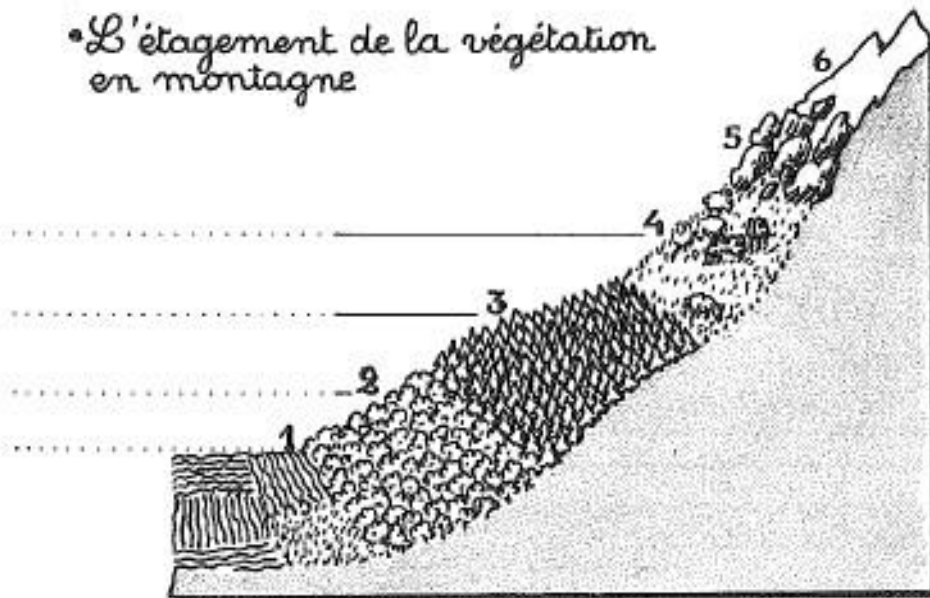
Ce rectangle a un périmètre de 26 cm.

14 • La végétation



1. Reconnais les différents paysages représentés.
2. En l'aidant de la légende, colorie la carte : vert (forêts) - rose (lande) - jaune (garrigue).

• L'étagement de la végétation en montagne



LES ÉTAGES

1. Cultures.
2. Forêts d'arbres dont les feuilles tombent à l'automne.
3. Forêts d'arbres à aiguilles (sapins, pins).
4. Pâturages pour les animaux.
5. Rochers sans végétation.
6. Neiges toute l'année.

1. Écris les noms des étages 1-2-3-4.
2. Pourquoi la végétation change-t-elle quand on monte en altitude ?