

1 Recopie seulement les mots où tu entends le son [è]

un château haut
faire il aime
une châtaigne un essai
des graines un fantôme

[è]

faire

il aime

une châtaigne

un essai

des graines

2 Recopie seulement les mots où tu entends le son [o]

un chapeau autour
vraiment un saut
des chevaux des patins
un chaton grand

[o]

un chapeau

autour

des chevaux

un saut

3 Ecris les mots sous les dessins. Tu as deux essais.



1

du chocolat

une orange

une lampe

une chaussette

2



1

un gâteau

un cadeau

une maison

une main

2

Lecture

👉 Le zèbre a des rayures blanches et noires. C'est **faux**

👉 La panthère a une robe tachetée. C'est **vrai**

👉 La girafe a des rayures blanches et noires. C'est **vrai**

À qui la girafe fait-elle des compliments ? **à la panthère**

Qui papota avec qui tout l'après-midi ? **la girafe et la panthère**

■ Un jour la girafe trouva que la panthère avait une belle robe tachetée. Elle lui proposa d'échanger sa robe contre ses rayures blanches et noires. La panthère accepta.

□ Un jour, la girafe qui ne voulait plus ressembler au zèbre, demanda à la panthère de lui prêter ses rayures noires et blanches.

Mathématiques

✍️ **Écris** la décomposition des nombres suivants :

$$652 = 600 + 50 + 2$$

$$605 = 600 + 5$$

$$708 = 700 + 8$$

$$785 = 700 + 80 + 2$$

✍️ **Calcule** les résultats des opérations en ligne.

$$600 + 50 + 4 = 654$$

$$9 + 80 + 700 = 789$$

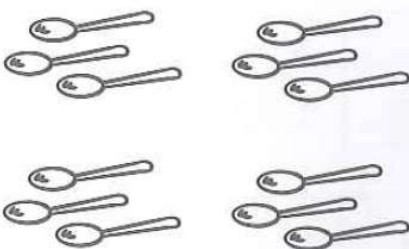
$$40 + 6 + 600 = 646$$

$$700 + 87 = 787$$


$$600 + 52 = 652$$

$$700 + 36 = 736$$


Écris la multiplication correspondant à chaque collection.



$$4 \times 3 = 12$$



$$3 \times 3 = 9$$



$$6 \times 3 = 18$$

$$\text{ou } 3 \times 6 = 18$$

Questionner le monde



bébé



enfant



femme



mère



grand-mère

