









Relis les deux écritures du même nombre

cinquante-quatre	•	•	40 + 9
quarante-neuf	•	•	51
cinquante	•	•	10 + 10 + 10 + 10 + 7
cinquante-et-un	•	•	20 + 20 + 10
quarante-sept	•	•	50 + 4

Écris le numéro sur chaque maillot.

		
cinquante-huit	cinquante-deux	quarante-trois
		
quarante	cinquante	
		
quarante-et-un	cinquante-cinq	quarante-six

Écris le plus grand nombre que tu peux obtenir avec les étiquettes.

dix	huit	_____	○				
vingt	onze	vingt-huit	28				
trente	six	_____	○				
neuf		_____	○				
trente	douze	quatre	deux	quarante	_____	○	
quarante	et	un	treize	cinquante	_____	○	
vingt	quinze	quarante	seize	trente	zéro	_____	○
dix	cinq	cinquante	sept	trois	_____	○	