

IDENTIFIER ET DÉCRIRE UN POLYGONE

IDENTIFIER DES POLYGONES

① Trace un polygone et un non polygone.

.....

.....

.....

.....

.....

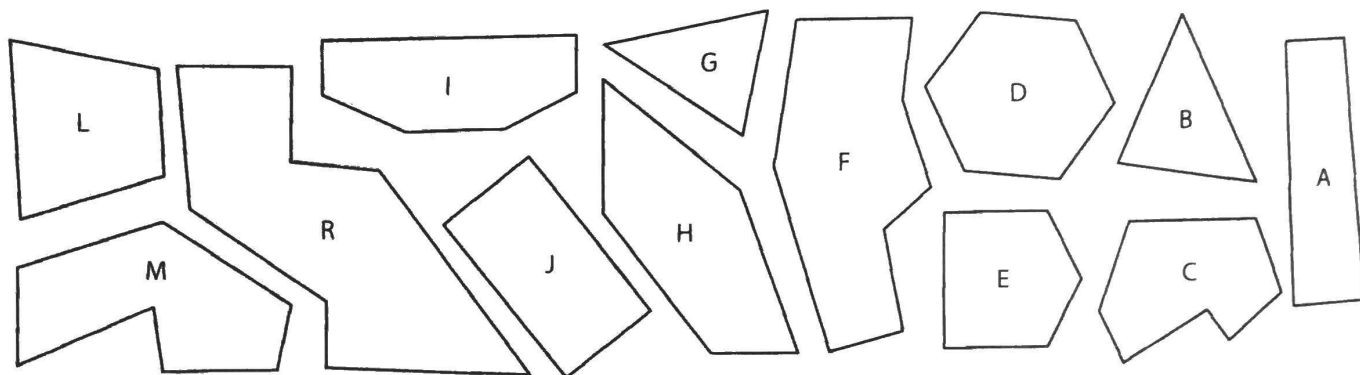
.....

Ma figure est un polygone car Ma figure n'est pas un polygone car

.....

② Colorie les polygones selon le code couleur.

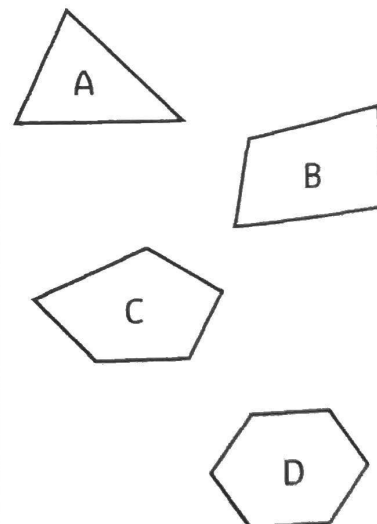
- bleu triangle
- rouge quadrilatère
- vert pentagone
- violet hexagone
- jaune autre



DÉCRIRE UN POLYGONE

③ Complète le tableau.


Figures	Nombre de côtés	Nombre de sommets	Nom du polygone




1 Indique par une flèche la direction que va prendre la voiture.




à droite



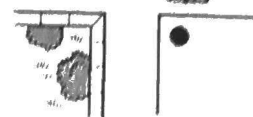
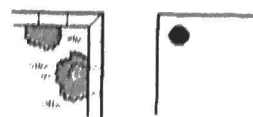
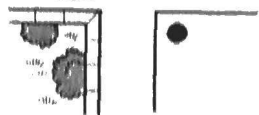
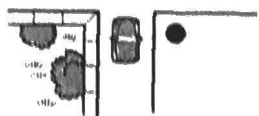
à gauche




à droite



à gauche




2 Grâce aux indications, mets une croix rouge à l'endroit où se trouve l'oiseau par rapport au nid.



au-dessus



à gauche



sous



à droite



dans

3 Voici le plan du centre-ville de Verdun-sur-le-Doubs. Colorie de la couleur demandée :

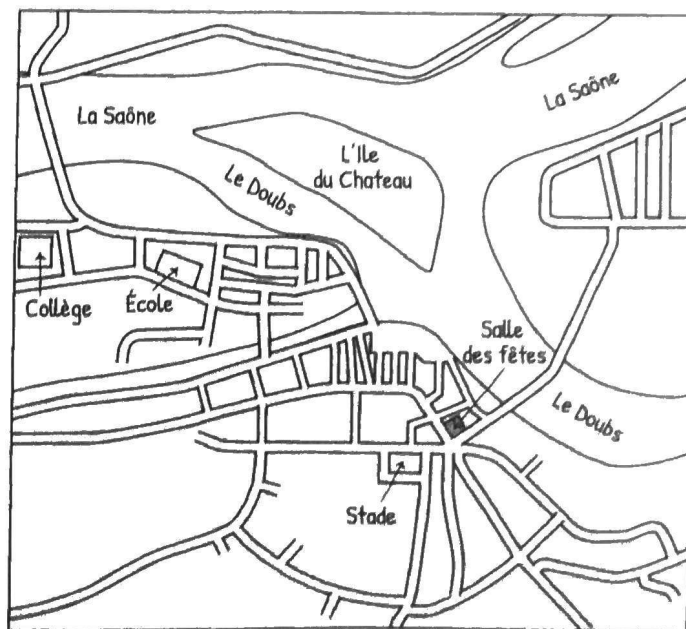
orange les rues et routes

rouge l'école et le collège

bleu les cours d'eau

vert l'île du Château

jaune le stade



Trace un trajet que peuvent emprunter les élèves de l'école pour se rendre à la salle des fêtes.