
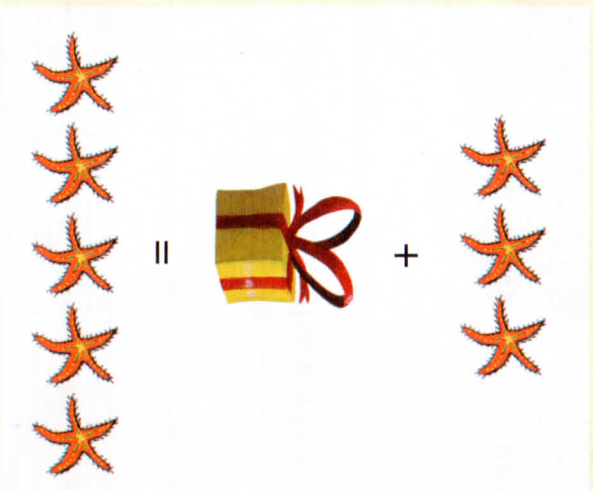


Date : .....

## JE DÉCOUVRE AVEC COMPAGNON MATHS



Poly a 3 étoiles de mer.

Il en reçoit d'autres pour son anniversaire.

Il a maintenant 5 étoiles de mer.

Combien d'étoiles de mer a-t-il reçues ? Réponse : 2

$$3 + \boxed{2} = 5$$



## JE M'ENTRAÎNE AVEC COMPAGNON MATHS

1 Complète l'addition.



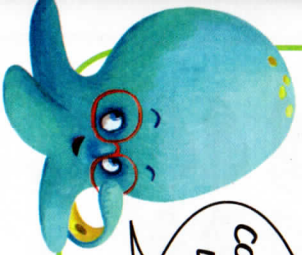
$$1 + \boxed{\phantom{0}} = 4$$

**2** Complète l'addition.



COMBIEN DE POISSONS  
DANS LE CADEAU ?

$$3 + \square = 7$$



**3** Il faut 8 bonbons dans chaque sachet. Écris combien il en manque.



Il manque  bonbons.



Il manque  bonbons.



Il manque  bonbons.

**4** Complète.

$$2 + \square = 7$$

$$1 + \square = 3$$

$$6 + \square = 9$$

$$6 + \square = 8$$

$$4 + \square = 8$$

$$0 + \square = 6$$

$$5 + \square = 9$$

$$3 + \square = 5$$

$$4 + \square = 4$$