



Dessine les points qui manquent.



48




50



59



46



Complète.

$46 = 40 + \dots 6 \dots$

$47 = 10 + 10 + 10 + 10 + \dots 7 \dots$

$51 = 50 + \dots$

$58 = 10 + \dots + \dots + \dots + \dots + \dots$

$54 = 50 + \dots$

$56 = 6 + \dots + \dots + \dots + \dots + \dots$

$49 = 40 + \dots$

$42 = \dots + \dots + \dots + \dots + \dots$

$53 = 50 + \dots$

$40 = \dots + \dots + \dots + \dots$



Écris en chiffres.



4 dizaines et 2 unités: **42** 4d et 6u: .....

5 dizaines et 7 unités: ..... 5d et 1u: .....

4 dizaines et 9 unités: ..... 4d: .....

5 dizaines: ..... 3u et 5d: .....

5d et 5u: .....

Entoure les pièces et les billets qui permettent d'obtenir les sommes affichées.

43€

56€

50€

42€