

Complète avec $<$, $>$ ou $=$.

$4 > 2$

$39 \dots 41$

$40+6 \dots 46$

$4+1 = 5$

$54 \dots 45$

$50+4 \dots 44$

$3 < 5$

$24 \dots 42$

$7+40 \dots 40+5$

$35 \dots 55$

$50 \dots 48$

$52 \dots 50+3$

$54 \dots 44$

$7 \dots 40$

$40+2+2 \dots 44$

Complète avec $=$ ou \neq .

$40+7 = 47$

$50+3+3 \dots 50+3+4$

$40+5 \neq 46$

$40+5+4 \dots 40+5+2$

$40+3 \dots 40+2+1$

$40+5+3 \dots 50+5+3$

$50+7 \dots 50+5+2$

$6+2+40 \dots 6+3+40$

$50+8 \dots 50+4+4$

$40+9 \dots 40+5+4$

Complète avec $<$, $>$ ou $=$.

$20+10+10+10 \dots 20+20+5$

$30+20+1 \dots 10+10+10+10+5$


$20+20 \dots 30+10$

$20+20+10 \dots 30+20$

$40+10 \dots 20+20$

$30+10 \dots 20+10+10+10$

Range les tortues de la moins âgée à la plus âgée.



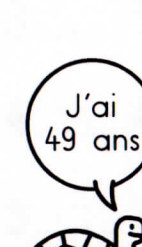
TITI




LULU



MIMI



FILOU



DADA

Lulu				
------	--	--	--	--