

12 Les soustractions en ligne

Date :

1 Calcule les différences.

$$800 - 100 = \underline{700}$$

$$780 - 200 = \underline{580}$$

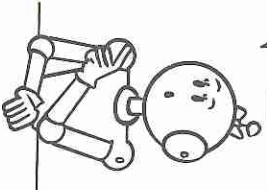
$$950 - 10 = \underline{940}$$

$$675 - 30 = \underline{645}$$

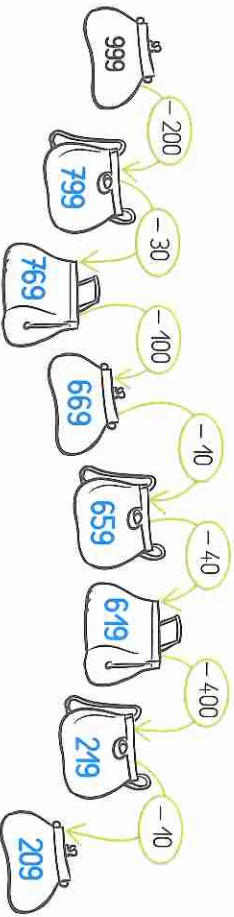
$$653 - 200 = \underline{453}$$

$$320 - 20 = \underline{300}$$

On enlève
des centaines
ou des dizaines ?



2 Calcule et trouve le nombre mystère !



3 Complète les égalités.

$$680 - \underline{100} = 580$$

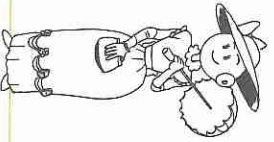
$$972 - \underline{500} = 472$$

$$934 - \underline{20} = 914$$

$$763 - \underline{600} = 163$$

$$48 - \underline{30} = 18$$

$$897 - \underline{60} = 837$$



13 Les soustractions en ligne

Date :

1 Calcule les différences.

$$765 - 65 = \underline{700}$$

$$765 - 760 = \underline{5}$$

$$765 - 700 = \underline{65}$$

$$765 - 5 = \underline{760}$$

$$765 - 60 = \underline{705}$$

$$765 - 705 = \underline{60}$$

On enlève
des centaines, des dizaines
ou des unités ?



2 Calcule les différences.

$$864 - 800 = \underline{64}$$

$$963 - 63 = \underline{900}$$

$$752 - 52 = \underline{700}$$

$$284 - 80 = \underline{204}$$

$$395 - 305 = \underline{90}$$

$$379 - 9 = \underline{370}$$



3 Effectue les opérations avec ta calculatrice. Colorie la bonne réponse.

$$643 - 369$$

$$821 - 682$$

$$374 - 376$$

$$139 - 249$$

$$975 - 678$$

$$708 - 259$$

$$917 - 297$$

$$557 - 559$$

$$274$$

$$241$$

$$972$$

$$449$$



14


Compter de 2 en 2, de 3 en 3, de 5 en 5

Date :

1 Compte de 2 en 2.

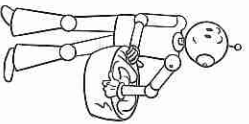


2 Compte de 5 en 5.



3 Compte de 3 en 3.

40	43	46	49	52	55	58	61	64	67
86	89	92	95	98	101	104	107	110	113
130	133	136	139	142	145	148	151	154	157

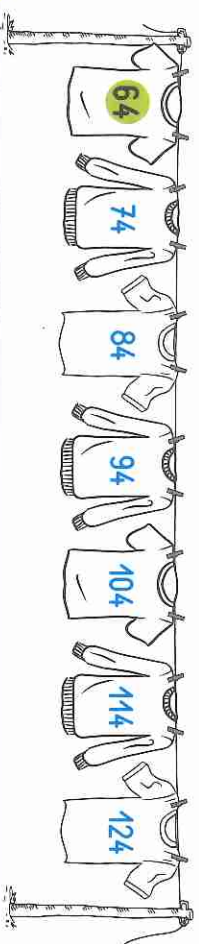


15

Compter de 10 en 10, de 100 en 100

Date :


1 Compte de 10 en 10.



2 Compte de 10 en 10.

328	338	348	358	368	378	388	398	408	418
233	243	253	263	273	283	293	303	313	323

3 Compte de 100 en 100.



4 Compte de 100 en 100.

47	147	247	347	447	547	647	747	847
161	261	361	461	561	661	761	861	961