

CALCUL MENTAL

Faire ajouter ou enlever 1 à un nombre ≤ 30 .
Écrire la somme ou la différence.

12 10 20 18 24 22 16



1 Recopie les prix en les rangeant du moins cher au plus cher.

5 € 8 € 13 € 14 € 18 € 20 € 21 € 32 €

2 Observe et complète.



Emma a 25 €

(Two 10 Euro bills and five 1 Euro coins)

• Emma veut acheter le livre.

Combien lui restera-t-il ? 12 €

Lucas a 35 €

(Three 10 Euro bills, two 2 Euro coins, and one 1 Euro coin)

• Lucas veut acheter le sac à dos et le ballon.

Combien lui restera-t-il ? 1 €

3 Trouve deux façons de payer le bateau de pirate.
Colle les pièces et les billets qui conviennent.

GOMMETTES

(Three 10 Euro bills and one 2 Euro coin)

(One 20 Euro bill, one 10 Euro bill, and two 1 Euro coins)


CALCUL MENTAL

Faire additionner deux nombres de somme ≤ 10 .
Écrire la somme.



1 Observe et complète.

8



$$5 + 3 = 8$$

$$8 - 3 = 5$$

$$8 - 5 = 3$$

14



$$8 + 6 = 14$$

$$14 - 6 = 8$$

$$14 - 8 = 6$$

13



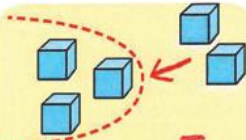
$$9 + 4 = 13$$

$$13 - 4 = 9$$

$$13 - 9 = 4$$

2 Observe et calcule.

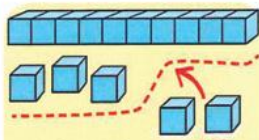
*



$$3 + 2 = 5$$

$$4 + 4 = 8$$

$$2 + 5 = 7$$



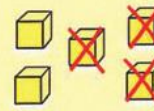
$$13 + 2 = 15$$

$$14 + 4 = 18$$

$$12 + 5 = 17$$

3 Observe et calcule.

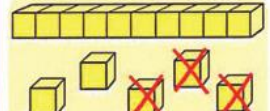
*



$$5 - 3 = 2$$

$$5 - 4 = 1$$

$$5 - 5 = 0$$



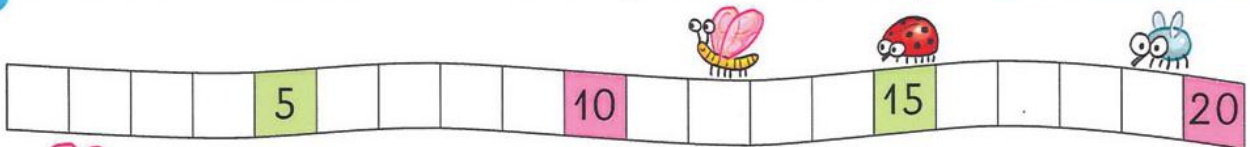
$$15 - 3 = 12$$

$$15 - 4 = 11$$

$$15 - 5 = 10$$

4 Ces insectes reculent sur la bande numérique. Observe et complète.

*



recale de 3

$$12 - 3 = 9$$



recale de 5

$$15 - 5 = 10$$



recale de 4

$$19 - 4 = 15$$

5 PROBLÈME Chaque enfant prend un gâteau. Combien de gâteaux reste-t-il dans la boîte ?

*



$$12 - 9 = 3$$

Il reste 3 gâteaux.