



LES NOMBRES DE 0 à 1000

1) Observe le code ci-dessous et trouve les nombres représentés dans les bulles.

 = 100  = 10  = 1



2) Entoure ce qui est demandé.

<i>le chiffre des dizaines</i>
2 4 5
1 5 6
7 8 4
9 6 3
2 0 0

<i>le chiffre des unités</i>
2 4 5
1 5 6
7 8 4
9 6 3
2 0 0

<i>le chiffre des centaines</i>
2 4 5
1 5 6
7 8 4
9 6 3
2 0 0

3) Relie chaque écriture avec le nombre qui lui correspond.


- sept cent soixante-douze • • 207
- sept cent vingt • • 702
- deux cent sept • • 772
- deux cent deux • • 720
- sept cent deux • • 202

LES NOMBRES DE 0 à 1000


CORRECTION

1) Observe le code ci-dessous et trouve les nombres représentés dans les bulles.

😊 = 100 ➡ = 10 ✨ = 1



435



847

2) Entoure ce qui est demandé.

le chiffre des dizaines
2 4 5
1 5 6
7 8 4
9 6 3
2 0 0

le chiffre des unités
2 4 5
1 5 6
7 8 4
9 6 3
2 0 0

le chiffre des centaines
2 4 5
1 5 6
7 8 4
9 6 3
2 0 0

3) Relie chaque écriture avec le nombre qui lui correspond.

sept cent soixante-douze • 207
sept cent vingt • 702
deux cent sept • 772
deux cent deux • 720
sept cent deux • 202